

ADI SOYADI:.....

TÜRKÇE

Yirmi Üç Nisan Çocuk Bayramı Haftası'ydı. Her sene ülkemize çeşitli ülkelerden çocuklar gelir. Bu sene gelen çocuklardan bazılarını okulumuzda misafir ettik. Geldikleri gün ilk dersimiz hayat bilgisi dersiydi. Gelen

çocuklar kendi ülkelerinin en önemli özelliklerini söylüyorlardı. Çin'den gelen arkadaşımız dünyanın en kalabalık ülkesinin Çin olduğunu söyledi. Rusya'dan gelen arkadaşımız ise dünyanın en geniş ülkesi Rusya'dır dedi. Dünyada en çok deprem Japonya'da oluyormuş. Öğretmenimiz "Ahmet, sen de bizim ülkemizin özelliklerinden birisini söyler misin?" diye sorunca gururla arkadaşlarımızın yüzüne bakıp:

- Öğretmenim, dünyada çocuk bayramı yapan tek ülkeyiz, dedim. Ayrıca bugünü bize armağan eden Mustafa Kemal Atatürk'e çok teşekkür ederim, diyerek konuşmamı bitirdim.

(İlk üç soruyu metne göre cevaplandırınız.)

1. Her yıl ülkemize kimler geliyormuş?

A.turistler B.çocuklar C.akrabalar

2. Dünya'nın en geniş ülkesi neresiymiş?

A.Çin B.Rusya C.Japonya

3.Ahmet, Mustafa Kemal Atatürk'e neden teşekkür ediyordu?

- A.Vatanımızı düşmanlardan kurtardığı için.
- B. Birçok yenilikler yaptığı için.
- C.Çocuk bayramı yapan tek ülke olduğumuz için.

Aşağıdaki cümlelerin hangisinde sebep – sonuç ilişkisi vardır?

4.

- A) Kızlar mızıkçılık yapınca oyun bozuldu.
- B) Okula hızlı bir şekilde gittim.
- C) Kitap insanın en iyi dostudur.

5.) Aşağıdaki hangi tümcede " sınıf " sözcüğü **adın bulunma halinde kullanılmıştır?**

- A) Öğrenciler **sınıftan** çıktılar.
- B) **Sınıfa** yeni bir öğrenci geldi.
- C) Performans görevimizi **sınıfta** yaptık.

6.) Aşağıdaki cümlelerin hangisinde hem "**ne zaman**" hem de "**nerede**" sorularının cevabı vardır?

- A. Serkan yarın bize gelecekmiş.
- B. Koca Seyit, 18 Mart tarihinde Çanakkale'de 276 kiloluk mermiyi topun ağzına koymuştu.
- C. Cumhuriyet, 29 Ekim 1923'te ilan edildi.

7.) I. Sabah erkenden uyandı.

II. Çünkü sabah erken kalkıp yolculuğa çıkacaktı.

III. Akşam erkenden yatması gerekiyordu.

IV. Kahvaltısını yapıp yola çıktı.

Yukarıdaki cümlelerin oluş sırasına göre **seralanışı aşağıdakilerden hangisidir?**

A) I—III—II—IV

B) II—IV—III—I

C) III—II—I—IV

8. Aşağıdaki cümlelerden hangisinde daha çok **cins isim** vardır?

- A) Yusuf, Yunus ve Yasin okula gitti.
- B) Buraya gelip sana ne söyleyecekti?
- C) Öğretmenim sınıfta ders anlatıyor.



Yukarıdaki resim çiftlerindeki birinci sözcükler ek almış ve ikinci sözcükler oluşturulmuştur.

9) Hangi sözcük yeni bir anlam **kazanmamıştır?**

- A) I ve II
- B) II
- C) III



10. Aşağıdaki cümlelerin hangisinde bir varlığı niteleyen sıfat vardır?

- A) Bahçemizde uzun çam ağaçları vardı.
- B) Toplantıda onları göremedik.
- C) Çöpü yere atınca hemen onu uyardık..

11. "**yat**" sözcüğü hangi cümlede diğerlerinden farklı anlamda kullanılmıştır?

- A) Mavi renkli olan, bu limandaki en güzel **yattı**.
- B) Kardeşim, bu akşam erkenden **yattı**.
- C) Mehmet, eve gelir gelmez **yattı**.

12. Aşağıdaki cümlelerin hangisinde yazım yanlışı **yapılmamıştır** ?

- A) Öğretmenimiz **çarşanba** günü sınav olacağımızı söyledi.
- B) Sabah **kahfaltımızı** çok iyi yapmalıyız.
- C) Annem bana pembe bir etek almış.

13.



"O" sözcüğü hangi cümlede
adın yerine kullanılmamıştır?

A.

Geçen gün onu yolda gördüm.

B.

Sinemaya giderken onu da çağıralım.

C.

O kurabiyeleri ben pişirdim.

14-) Aşağıdaki cümlelerden hangisi kurallı bir cümledir?

A) Genç adam koşuyordu durmadan.

B) Çocuklar fındıkları paylaştılar.

C) Babam, evin önüne park etti arabayı.

15-" Güzel " sözcüğü aşağıdaki cümlelerin hangi
sinde ön ad(sıfat) varlığın özelliğini belirtmiştir?

A) Müdür güzel konuştu.


B) Bu kitap çok güzel.

C) Güzel kız, okul birincisi oldu.

ADI SOYADI:.....

MATEMATİK

1. Aşağıda verilen düzlemsel şekiller-
den hangisinin 4 köşesi vardır?



2.) Üç basamaklı en büyük doğal sayının , sayı
değerleri toplamı kaçtır?

A) 27

B) 987

C) 998

3.

Aşağıda gösterilen modellerden
hangisi ya da hangileri kullanılarak
bir dikdörtgen çizilebilir?



A.1-2

B.2-3

C.1-2-3



4.) Aldığım 18 kutu çikolatanın her
kutusunda 15 çikolata vardı. Bunlardan
70 tanesini sınıftaki arkadaşlarıma
dağıttım. Kaç tane çikolatam kaldı?

A)250

B)200

C)103

15 - 17 - 21 - 27 - 35-

5.) Yukarıdaki sayı örüntüsünde noktalı yere
hangi sayı gelmelidir?

A)45

B) 40

C) 38

6.) Aşağıdaki en yakın yüzlüğe yuvarlamalar-
dan hangileri doğrudur?

I= 124 → 100	II= 355 → 300
III=698 → 660	IV=569 → 600

A) I-IV

B) II -III

C) II-IV

10: 20

→ (Sabah) 10'u 20 geçiyor.

10: 45

→ (Sabah) 11'e çeyrek var.

14: 30

→ (Öğleden Sonra) 2 buçuk.

11: 55

→ (Sabah) 12'ye 5 var.

7.)Yukarıdaki saat okumalarının kaç tanesi
doğru yapılmıştır?

A) 1

B) 2

C) 4

8) Okul gezisine 35 öğrenci katılmıştı. Geziye

katılanların $\frac{3}{5}$ ' ü kız olduğuna göre erkek
öğrencilerin sayısı kaçtır?

A.21

B.28

C.14

5 yüzüm

9 ayrıtım

6 köşem var

9.)Yukarıda kendisini tanıtan geometrik cisim
hangisidir?

A) Küp

B) Üçgen prizma

C) Kare prizma

10.



2 ay, 6 hafta tatil yapan bir öğrenci
toplam kaç gün tatil yapmıştır?

A) 102

B) 124

C) 143



11.Tuana saat kaçta yemek yiyecek?

A. 07.40

B.19.15

C.19.40

12.Gönyeyi kullanarak aşağıdaki şekillerden
hangisini şekil çizemeyiz?

A.

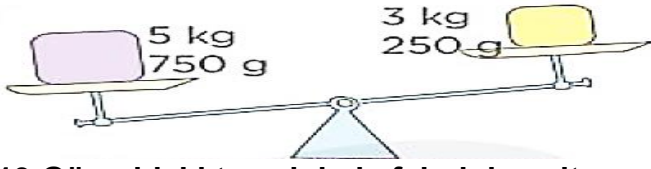


B.



C.

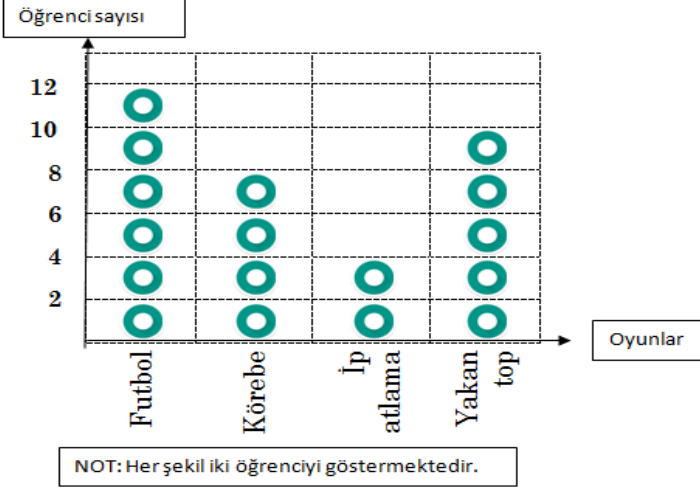




13. Görseldeki terazinin kefelerinin eşit olabilmesi için kefeye konacak kütle aşağıdakilerden hangisidir?

- A) 2 kg 500 g
B) 2 kg 250 g
C) 3500 kg

14.) 3/E sınıfında yapılan "En sevilen oyunlar ." anketinin sonuçları grafikte gösterilmiştir.



Aşağıdakilerden hangisi yukarıdaki grafiğe göre hazırlanmıştır?

A)

Oyunlar	Kişi
Futbol	
Körebe	
İp atlama	
Yakan top	

B)

Oyunlar	Kişi
Futbol	
Körebe	
İp atlama	
Yakan top	

C)

Oyunlar	Kişi
Futbol	
Körebe	
İp atlama	
Yakan top	

15. Erenlere saat 08:20'de oturmaya gelen misafirler 2 saat 25 dakika oturmuşlardır. Buna göre misafirler saat kaçta evden ayrılmışlardır?

- A) 09.45
B) 10.45
C) 11.15

ADI SOYADI:.....

HAYAT BİLGİSİ

- *Yeni Türk Harflerinin Kabulü,
- *Soyadı Kanunu,
- *Takvim, Saat ve Ölçülerdeki Yenilikler,
- *Kılık Kıyafetteki Yenilikler

1.) Yukarıdakilerden yeniliklerden kaç tanesi Atatürk'ün yaptığı hizmetlerdendir?

- A) 4
B) 3
C) 2

2. Aşağıdakilerden hangisi doğal anıt olamaz?



- A. Peri Bacaları B. Kız Kulesi C. Ölü Deniz

3. Ülkemizde yaşayan farklı kültürdeki insanlara karşı nasıl davranmalıyız?

- A. Onlara ülkelerine dönmeleri için baskı yapmalıyız.
B. onlara kendi kültürümüzü zorla öğretmeliyiz.
C. Sorunları olduğunda onlara yardımcı olmalıyız.



Halil: Kız çocuğu değil mi okumasa da olur. Okula göndermeyeceğim.



Suna: Bu hafta seçim var oy kullanacağım.



Cenk: Askerliğimi Manisa'da yapıyorum.

4. Yukarıdaki kişilerden hangileri vatandaşlık görevlerini yerine getirmektedir?

- A) Cenk ve Halil B) Cenk ve Suna
C) Cenk, Halil ve Suna

5. Aşağıdakilerden hangisi ortak kullanım alanlarında dikkat edilmesi gereken kurallardan değildir?

- A. Ortak kullanım alanlarını temiz kullanmalıyız.
B. Parklardaki araç ve gereçlere zarar vermemeliyiz.
C. Sinema ve tiyatrodaki sesli konuşabiliriz.



Çocuklar, cumhuriyetimizi yaşatmak için neler yapmalıyız?

6. Öğretmenin sorusuna aşağıdaki öğrencilerden hangisi yanlış cevap vermiştir?



Yeniliklere açık olmalıyız ve ülkemizin kalkınması için çalışmalıyız.

A) Semra



Enerji üretmek için zaman ve para harcamadan yurt dışından hazır almalıyız.

B) İrem



Vatanımızı sevmeliyiz ve millî değerlerimize sahip çıkmalıyız.

C) Nehir

7.TBMM Ankara'da açıldığı tarihle ilgili olarak hangi milli bayramı kutluyoruz?

- A) 30 Ağustos Zafer Bayramı
B) 23 Nisan Ulusal Egemenlik ve Çocuk Bayramı
C) 29 Ekim Cumhuriyet Bayramı

8.Aşağıdakilerden hangisi ülkemizde herkes tarafından aynı zamanda özgürce kutlanan özel günlerdendir?

- A.) Doğum günü
B.) Milli Bayramlar
C.) Düğün

Evdekokusunu alınca hemen vanaları kapattım. Elektrikli aletleri çalıştırmadım. Camları açıp odayı havalandırdım.

9.Bu anlatımdaki boşluğa aşağıdaki sözcüklerden hangisi yazılmalıdır?

- A.doğalgaz B.yemek C.sarımsak

10. Hangisi belediyenin görevleri arasında yer almaz?



A.



B.



C.

ADI SOYADI:.....

FEN BİLİMLERİ



Görselde verilen durum ile ilgili;

- I. Denizler kirlenmektedir.
II. Deniz canlılarının sayısı zamanla azalır.
III. Bu bölgede güvenle yüzülebilir.

ifadelerinden hangileri doğrudur?

- A) I ve II B) II ve III C) I ve III



① Ağaç



② Köprü



③ Akarsu

2.Kaç numaralı varlıklar doğal çevreye örnektir?

- A. 1 – 2 B. 1 – 3 C. 2 – 3



9.Yandaki görsel için aşağıdakilerden hangisi söylenemez?

- A.Kendi kendine hareket edebilir.
B.Cansız bir varlıktır.
C.Uyarılara tepki veremez.

Sıvı madde	1	Bulunduğu kabın her yanına yayılır.
Gaz madde	2	Elle tutulabilir ve belli bir şekli vardır.
Katı madde	3	Bulunduğu kabın şeklini alır.

3. Maddelerle, açıklamaların doğru eşleştirmesi hangi seçenekteki gibi olmalıdır?

Sıvı madde	1	Sıvı madde	1	Sıvı madde	1
Gaz madde	2	Gaz madde	2	Gaz madde	2
Katı madde	3	Katı madde	3	Katı madde	3

A. B. C.



4.Ayçiçeği bitkisi, gün içerisinde güneşin yönüne göre yön değiştirebilmekte. Yüzünü güneşe dönmektedir.” Bu açıklamaya göre, bitkilerin hangi özelliğe sahip olduğu söylenebilir?

- A. Solunum B. Tepki verme C. Boşaltım

5.)Aşağıdaki hangi işaret geri dönüşümü gösterir?



A)



B)



C)



6-.Yandaki orman görseli için aşağıdakilerden hangisi söylenemez?

- A) Birçok canlıya ev sahipliği yapar.
B) Doğal çevredir.
C) Yapay bir ortamdır.



7.)Yanda görseli verilen geri dönüşüm kutusuna atılan maddeler için;

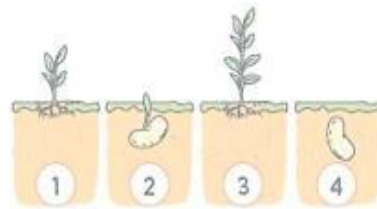
- I:tekrar kullanılabilir hale getirilir.
II:ekonomiye katkı sağlar
III:çevreyi ve doğayı korur
yukarıdakilerden hangisi söylenebilir?

- A- I, II ve III B- II ve III C- I ve III



8. Hangi seçenekteki özellik, bir varlığın canlı olduğunu ispatlar?

- A. Uçması B. Ses çıkarması
C. Solunum yapması



10.Tohumdan yetişkin bitkiye göre sıralama hangisidir?

- A) 4-2-1-3
B) 4-2-3-1
C) 4-1-2-3

