

## 2- E SINIFI MATEMATİK ÇALIŞMALARI

### Kütle Ölçü Birimleriyle İlgili Problem Çözme

1 - Emirhan Bey, kışın sobada yakmak için torbalar halinde kömür almaktadır. Buna göre bu kömür torbalarının ağırlıkları aşağıdakilerden hangisi ile ölçülebilir?



- A) Litre  
B) Kilogram  
C) Metre

2- Şekilde verilen bir kasa domatesin ağırlığı Aşağıdakilerden hangisi ile ölçülebilir?

- A) Kilogram  
B) Ton  
C) Litre



3- Bir kutuda 2 kilogram şeker vardır.

Buna göre, aynı büyüklükte 5 Kutuda toplam kaç kilogram şeker vardır?




- A) 4  
B) 5  
C) 10



4 - Boncuk haftada 2 kilo kedi maması yemektir.

Boncuk bir ayda kaç kilogram kedi maması yer?

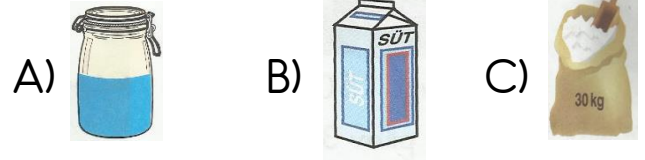
- A) 8      B) 6      C) 10



5- Yukarıdaki nesnelerden kaç tanesi kilogram ile ölçülür?

- A) 3      B) 2      C) 1


6- Aşağıdakilerden hangisi kilogramla ölçülür?

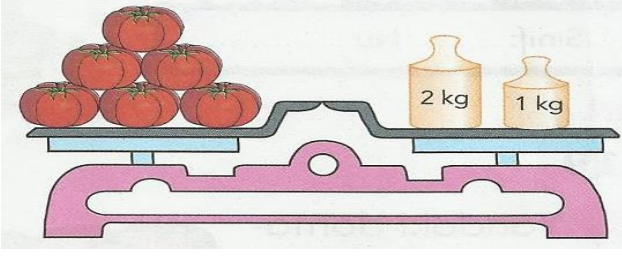


7 - Bir çuval pirinci olan Ezgi Hanım komşularına eşit olarak dağıtmak istiyor.

Aşağıdakilerden hangisi ile ölçerek dağıtabilir?

- A) Litre    B) kilogram    C) Ton





8- Yukarıdaki terazi dengede olduğuna göre kaç kilogram domates vardır?

A) 2 kg B) 1 kg C) 3 kg


9 - Doktor, sağlığıma kavuşmam için 38 kilogram olmam gerektiğini söyledi.

Şimdi 30 kilogram olduğuma göre kaç kilogram almam gerekiyor?

A) 8 B) 6 C) 10



10- Aşağıdaki tankerin ağırlığını bulmak için aşağıda kilerden hangisi kullanılmaz?



A) Litre B) kilogram C) Ton

11- Bir lokantada her gün 8 kilogram et ile yemek yapılmaktadır.



Bu lokantada bir haftada kaç kilogram et kullanılmaktadır?

A) 40kg B) 35 kg C) 56 kg




12- Doğduğunda 3 kilogram olan kardeşim Yahya 8 ay sonra 7 kiloya ulaştı. Yahya 8

ayda kaç kilogram almıştır?

A) 3 B) 4 C) 5



13- Yandaki koyunun yünlerinden kazak örmek isteyen Havva Hanım koyundan ne kadar yün aldığını aşağıdakilerden hangisi ile ölçebilir?



A)

Litre



B)

Kilogram



C)

Metre

14- Berra kardeşine sevdiği şeyi alarak sürpriz yapmak almak istiyor. Aşağıdaki hediyelerden hangisini alırsa kilogram ile tartması gerekir?



A)



B)



C)