

## SAATLER (ÖĞLEDEN ÖNCE - ÖĞLEDEN SONRA)

Saatlerin kaç gösterdiğini öğleden önce ve sonra olma durumlarına göre yazınız.



## EŞİTLİK - 2

Eşitliklerde verilmeyen sayıları bulunuz.



$$24 - 3 = 3 + \dots$$

$$15 + 14 = \dots + 7$$

$$4 + 21 = \dots + 14$$

$$21 - 5 = 1 + \dots$$

$$20 - 14 = \dots + 3$$

$$17 - 10 = \dots + 2$$

$$22 - \dots = 20 - 1$$

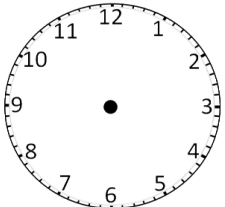
$$12 - 7 = \dots + 1$$

$$24 - \dots = 6 + 2$$

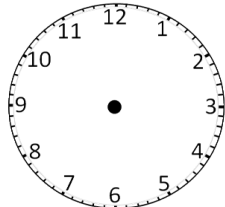
$$23 - \dots = 11 + 11$$

## AKREP VE YELKOVANI ÇİZELİM

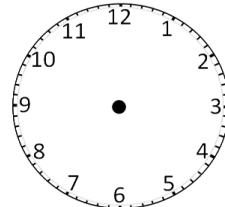
Akrep ve yelkovanı belirtilen saatlere uygun şekilde çiziniz.



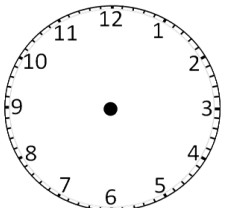
19.00



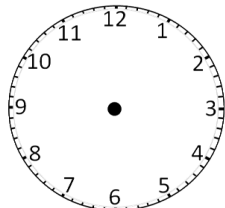
22.15



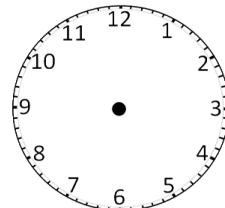
5.30



1.30



9.15



13.45

## MANAV ALIŞVERİŞİ - 1



1kg 5 TL



1kg 4 TL



1kg 3 TL



1kg 2 TL

1) 5 kg vişne kaç liradır? .....

4) 9 kg patates, 3 kg patlıcan ve 4 kg vişne toplam kaç liradır? .....

2) 3 kg patates kaç liradır? .....

5) 5 kg patlıcan kaç liradır? .....

3) Manava 50 lira verdim. 7 kg salatalık aldım. Kaç lira para üstü almalıyım? .....

6) 2 kg vişne ve 9 kg patates toplam kaç liradır? .....