

Adı-Soyadı: .....

1. Aşağıda verilen onluk birlik işlemlerinin boşluklarını tamamlayınız. (9p)



..... onluk	..... birlik
.....	

..... onluk	..... birlik
.....	

..... onluk	..... birlik
.....	

2. Aşağıda verilen onluk birlik işlemlerini yapınız. (8p)


8 birlik + 2 onluk
.....

6 onluk + 4 birlik
.....

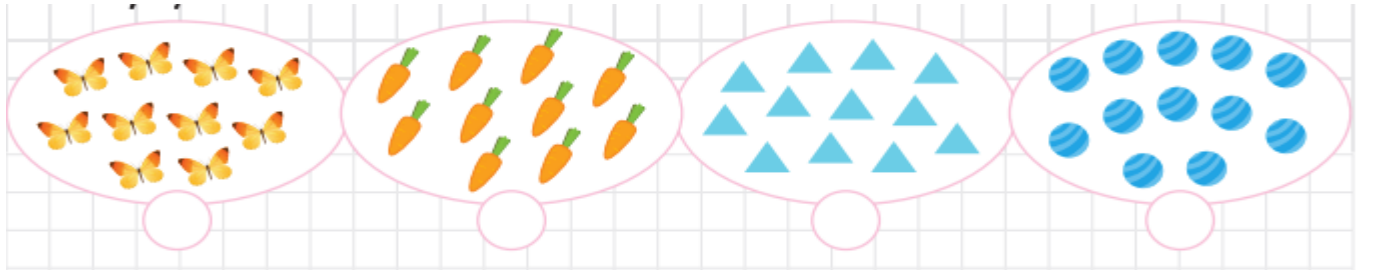
2 birlik + 9 onluk
.....

3 onluk + 0 birlik
.....


3. Aşağıda verilen varlıklardan deste olanları işaretleyin. (8p)



4. Aşağıda verilen varlıklardan düzine olanları işaretleyin. (8p)



5. Aşağıda verilen bilgileri doğru ya da yanlış olarak cevaplayınız. (16p)




1. Kalemler 1 desteden azdır.
2. Kalemler 1 desteye eşittir.
3. Kalemler 1 düzineden azdır.
4. Kalemler 1 düzineye eşittir.


D	Y
D	Y
D	Y
D	Y


- |   |   |
|---|---|
| D | Y |
| D | Y |
| D | Y |
| D | Y |

birler basamağı : 8 → 8  
onlar basamağı : 5 → 50

onlar basamağı : 3 → XXXX  
birler basamağı : 9 → XXXX

onlar basamağı : 9 → 

birler basamağı : 2 → 

onlar basamağı : 9 → 

27  ..... basamağı

51 ..... basamağı

**16** ..... basamağı

83 ..... basamağı

Basamak  
Değeri

4 2

.....

.....

Basamak Değeri

18

.....

.....

Basamak  
Değeri

7 2

.....

.....

Basamak  
Değeri

6	0	
↓	↓	.....
↓	↓	.....

Basamak  
Değeri

3 1

.....

.....

Basamak  
Değeri

1  
10

Basamak  
Değeri

5  
40

Basamak Değeri

7  
70

Basamak Değeri

4

60

Basamak Değeri

3

50

10. Aşağıdaki problemleri cevaplayınız. (15p)

1 düzine kalem, 1 deste kalem  
den kaç fazladır?

2 deste silginin 5 silgi fazlası kaç silgi eder?

