

1. Merve, yukarıdaki mavi kaleminin boyunu ataş ve silgi ile ölçüyor.

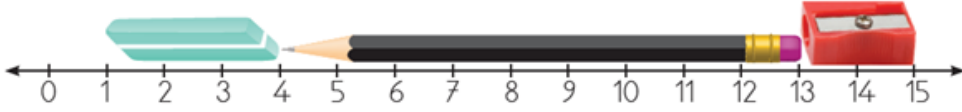
Ölçüm sonuçları ile ilgili aşağıdaki bilgilerden hangisi yanlıştır?

- A) Kalem, 6 ataş uzunluğundadır.
- B) Kalem, 3 silgi uzunluğundadır.
- C) Kalem 4 silgi uzunluğundadır.



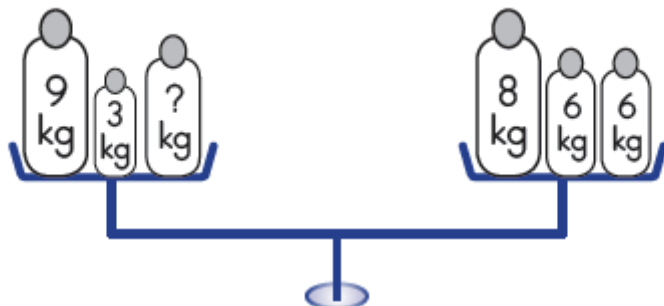
2. Nüpel yukarıdaki kadar portakal yemiştir. Kaç çeyrek portakal daha yerse toplam 4 bütün portakal yemiş olur?

- A) 3
- B) 6
- C) 7



3. Yukarıdaki nesnelerin uzunluğu ile ilgili verilen bilgilerden hangisi yanlıştır?

- A) Silgi ile açacağıın uzunlukları toplamı 5cm'dir.
- B) Kalemin uzunluğu 9 cm'dir.
- C) Kalem, açacaktan 8 cm uzundur.



4. Yukarıdaki terazi dengede durmaktadır. Soru işareti olan yere kaç kg yazılmalıdır?

- A) 12
- B) 8
- C) 10

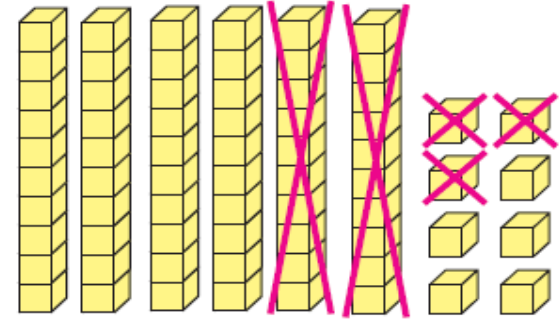
5.



⇒ Kova 4 sürahi su almaktadır.  
⇒ Damacana 3 kova su almaktadır.  
Yukarıdaki bilgilere göre damacanın çeyreğini doldurmak için kaç sürahi su gerekir?

- A) 12
- B) 6
- C) 3

6.



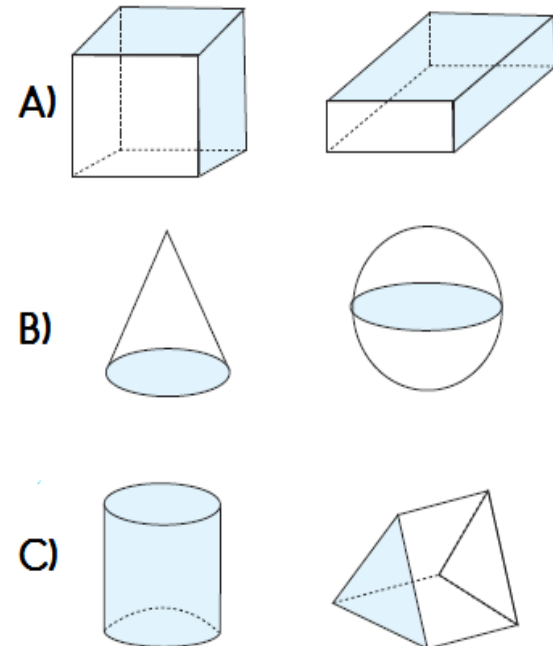
Yukarıdaki çıkarma işlemine göre eksilen, çıkan ve fark hangi seçenekte verilmiştir?

eksilen	çıkan	fark
A) 68	45	23
B) 23	68	45
C) 68	23	45

7.

Aşağıdaki geometrik şekiller belli özelliklerine göre sınıflandırılmıştır.

Buna göre aşağıdaki eşleştirmelerden hangisi yanlıştır?



8.



Yandaki şekille ilgili verilen bilgilerden hangisi yanlıştır?

- A) Şekil dikdörtgenler prizmasına benzemektedir.
- B) Şekli kullanarak kare ve dikdörtgen çizebiliriz.
- C) Şekilde 8 tane köşe vardır.

9.



Yandaki kumbarada Asmin'in para miktarı verilmiştir.



Asmin yandaki oyuncacı alabilmesi için kaç TL'ye ihtiyacı vardır?

A)



B)



C)




10.

Sebzeler	Fiyatı (1kg)
İspanak	2 lira
Pırasa	4 lira
Karnıbahar	3 lira

Her sebzeden 3'er kilogram alırsam satıcıya kaç TL öderim?

- A) 27 TL      B) 28 TL      C) 29TL

11.



Emel yandaki topları kutulara eşit sayıda paylaşmıştır.

Yukarıdaki verilen bilgiye göre aşağıdakilerden hangisi yanlıştır?

- A) Bölen sayı 2'dir.
- B) Bölüm 9'dur.
- C) Bölünen sayı 16'dır.

12.

Aşağıdakilerden kaç tanesini metre ile ölçeriz?

- Buzdolabı
- Okulumuzun bahçesi
- Evimizin duvarı
- cep telefonu
- kalemtraş
- silgi

A) 6

B) 3

C) 5

13.



Yukarıdaki bilet kuyruğu ile ilgili verilen bilgilerden hangisi yanlıştır?

- A) Sondan 3.sırada olan baştan 16.sıradadır.
- B) Baştan 5.sırada olan sondan 13.sıradadır.
- C) Tam orta sırada bulunan kişi baştan 10. sıradadır.

14.



Yandaki saat iki buçuk saat sonra kaç gösterir?

A) 18.00

B) 17.30

C) 18.30