

2.Sınıf Matematik "Tam, Yarım ve Çeyrek Saatler" Değerlendirme Testi

1 - Dijital saat 23:30'u gösterirken analog saat kaç olarak okunur?

- A) On buçuk                      B) On bir                      C) On bir buçuk

2 - Akrep 2 ile 3 arasında, yelkovan tam 6 üzerinde iken saat kaç gösterir?

- A) 02.00                      B) 02.30                      C) 03.00



3 - Yandaki saatin gösterdiği zaman hangi seçenekte doğru verilmiştir?

- A) İki buçuk                      B) Üç buçuk                      C) Dört buçuk



4 - Yandaki saatin gösterdiği zaman hangi seçenekte doğru verilmiştir?

- A) On iki çeyrek geçiyor  
B) On biri çeyrek geçiyor  
C) On ikiye çeyrek var



5 - Yandaki dijital saat akşamki hangi saati göstermektedir?

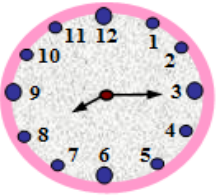
- A) Altı buçuk                      B) Yedi                      C) Yedi buçuk

6 - Aşağıdaki saatlerden hangisi, öğleden sonra saat "Üçü çeyrek geçiyor" şeklinde okunur?

- A)                      B)                      C)

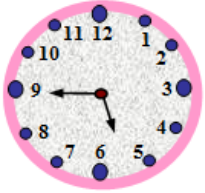
7 - "Efe, her gün yandaki saatte uyanmaktadır." Buna göre Efe, saat kaçta uyanmaktadır?

- A) 08.15                      B) 08.30                      C) 08.45

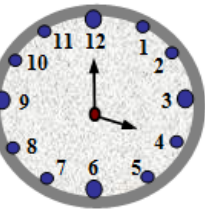


8 - "Elif'in en sevdiği dizi yandaki saatte başlamaktadır." Buna göre dizi saat kaçta başlar?

- A) Beş buçuk                      B) Beşi çeyrek geçe                      C) Altıya çeyrek kala

9 - Yandaki saatin "öğleden sonra" okunuşu hangisidir?

- A) 15.00                      B) 16.00                      C) 17.00





10 - Yandaki saatin okunuşu hangisidir?

A) Yediyi çeyrek geçe

B) Yedi buçuk

C) Sekize çeyrek kala

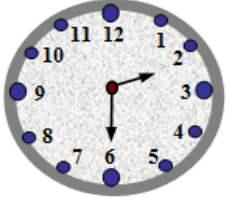
11 - Aşağıda verilen saatin okunuşu hangisidir?



A) Üç buçuk

B) Üçü çeyrek geçiyor

C) Dörde çeyrek var



12 - Yandaki saatin "öğleden sonra" okunuşu hangisidir?

A) 13.30

B) 14.30

C) 15.30

13 - Aşağıda verilen saatin "öğleden önce ve öğleden sonra" okunuşları hangi şıkta doğru verilmiştir?



Öğleden önce

Öğleden sonra

A) 02.00

14.00

B) 03.00

15.00

C) 04.00

16.00

14 - "Heybeli İlkokulu öğrencileri aşağıda gösterilen saatte öğle yemeğine gitmektedir." Buna göre öğrenciler saat kaçta yemeğe gitmektedirler?



A) 12.15

B) 12.30

C) 12.45

"Külkedisi, Peri Anne'nin yardımıyla baloya gitmiş, prensle dans etmiş ama mutluluktan saatin kaç olduğunu unutmuştu. Oysa ki, Peri Anne gece yarısından önce balodan ayrılmasını söylemişti. Peri Anne'nin "gece yarısı" diye belirttiği saat aşağıda gösterilmiştir.

15 - Peri Anne'nin "gece yarısı" diye belirttiği saat hangisidir?



A) 11.30

B) 12.00

C) 12.30

16 - Aşağıda verilen saatin öğleden sonraki okunuşu hangisidir?



A) 21.15

B) 21.30

C) 21.45