





2. SINIF
MATEMATİK
RİTMİK SAYMALAR - 3

Aşağıdaki soruları yanıtlayınız.

- 1.)  Hikmet kolideki 24 yurmayı 4'er sayıyor. Hikmet saymada aşağıdaki hangi sayıyı söylemez?
a) 12 b) 15 c) 16

- 2.)  Suat sepetteki 25 elmayı 5'er sayıyor. Suat saymada aşağıdaki hangi sayıyı söylemez?
a) 12 b) 15 c) 20

- 3.)  Nevin kutudaki 27 topu 3'er sayıyor. Nevin saymada aşağıdaki hangi sayıyı söyler?
a) 10 b) 16 c) 21

- 4.)  Semra raftaki 22 kitabı 2'şer sayıyor. Semra saymada aşağıdaki hangi sayıyı söyler?
a) 15 b) 19 c) 20

- 5.) 69'dan önce ve sonra gelen sayılar sırasıyla aşağıdakilerden hangileridir?
a) 68-70 b) 70-71 c) 67-71

- 6.) 21 'den geriye doğru 3'er sayarken 4. sırada söylediğimiz sayı kaç olur? (21 dahil değil)
a) 6 b) 9 c) 12

- 7.) 42 'den geriye doğru 2'er sayarken 5. sırada söylediğimiz sayı kaç olur? (42 dahil değil)
a) 24 b) 28 c) 32

- 8.) 32 'den geriye doğru 4'er sayarken 3. sırada söylediğimiz sayı kaç olur? (32 dahil değil)
a) 20 b) 24 c) 28

- 9.) 90 'dan geriye doğru 5'er sayarken 6. sırada söylediğimiz sayı kaç olur? (90 dahil değil)
a) 60 b) 65 c) 70

- 10.) 10'ar ritmik saymaya göre 38'den önce ve sonra gelen sayılar sırasıyla aşağıdakilerden hangisidir?
a) 37-39 b) 28-48 c) 30-40

11.) Okan 20'den başlayıp 40'a kadar 4'er ritmik sayıyor. Ece 18'den başlayıp 30'a kadar 3'er ritmik sayıyor. İkisinin ortak söylediği sayı aşağıdakilerden hangileridir?

- a) 21 b) 24 c) 27

12.)

15					
10					

Ali ilk satırda 15'ten başlayıp 5'er sayıyor. Alt satırda 30'dan başlayıp 10'ar sayıyor. Her iki saymada ortak olan sayılar aşağıdakilerden hangileridir?

- a) 20-30 b) 20-40
c) 20-30-40

13.)

24					
32					

Kerim ilk satırda 24'ten başlayıp geriye 2'şer sayıyor. Alt satırda 32'den başlayıp geriye 4'er sayıyor. Her iki saymada ortak olan sayılar aşağıdakilerden hangileridir?

- a) 24-20-16 b) 28-20-18
c) 24-20-18

14.)

30						
40						

Cansu ilk satırda 30'dan başlayıp geriye 3'er sayıyor. Alt satırda 40'tan başlayıp geriye 5'er sayıyor. Her iki saymada ortak olan sayılar aşağıdakilerden hangileridir?

- a) 25-15 b) 30-15 c) 30-10

15.) Elif 50'den başlayıp 30'a kadar geriye 2'şer sayıyor. Sait 40'tan başlayıp 20'ye kadar 5'er sayıyor. İkisinin ortak söylediği sayı aşağıdakilerden hangileridir?

- a) 30-35 b) 30-40 c) 50-20

16.)

12						
9						

Roza ilk satırda 12'den başlayıp 2'şer sayıyor. Alt satırda 9'dan başlayıp 3'er sayıyor. Her iki saymada ortak olan sayılar aşağıdakilerden hangileridir?

- a) 16-18-24 b) 12-18-24
c) 12-15-18

17.)

97	87	77		57	47	37
63	62	61	60		58	57

Yukarıdaki örüntülere göre boş bırakılan yerlere sırasıyla hangi sayılar yazılmalıdır?

- a) 76-61 b) 78-59 c) 67-59