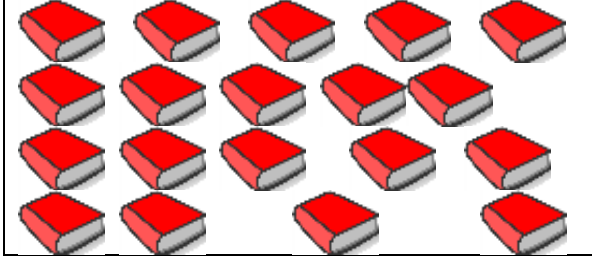


## 2. SINIF

## MATEMATİK

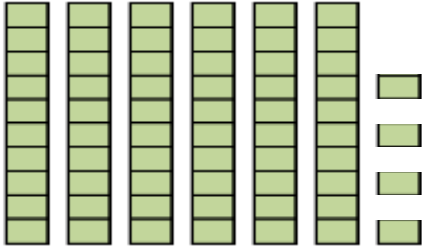
## ONLUK VE BİRLİK - 8

Aşağıdaki soruları cevaplayınız.



1.) Yukarıda verilen kitapların sayısı aşağıdakilerden hangisinde onluk ve birliklerine doğru bir biçimde ayrılmıştır?

- a) 9 onluk 1 birlik
- b) 2 onluk 0 birlik
- c) 1 onluk 9 birlik



2.) Yukarıda bloklarla gösterilen sayı aşağıdakilerden hangisidir?

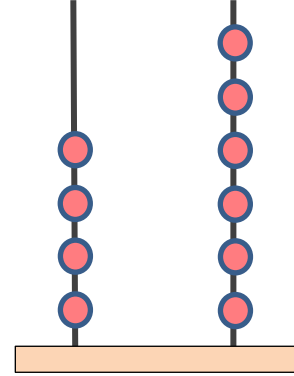
- a) 64
- b) 46
- c) 74

3.) 5 onluk  
8 birlik

Yukarıda onluk ve birliklerine ayrılan sayı aşağıdakilerden hangisidir?

- a) 85
- b) 58
- c) 88

4.)



Yukarıda abaküs ile gösterilen sayı için aşağıdakilerden hangisi yanlıştır?

- a) Sayı 4 onluk ve 6 birlikten oluşmaktadır.
- b) Sayı 6 onluk ve 4 birlikten oluşmaktadır.
- c) Sayı 46'dır.

5.)

38

Yukarıdaki sayı için aşağıdakilerden hangisi doğrudur?

- a) Sayının birler basamağındaki rakamın basamak değeri 80'dir.
- b) Sayının onlar basamağında 8 rakamı bulunmaktadır.
- c) Sayının onlar basamağındaki rakamın basamak değeri 30'dur.

6.)

90

\*\*\*

5

Yukarıda basamak değerleri verilen sayı aşağıdakilerden hangisidir?

- a) 59      b) 95      c) 905

7.) Birler basamağındaki rakamı 6, onlar basamağındaki rakamı 3 olan sayı aşağıdakilerden hangisidir?

- a) 36      b) 63      c) 66

8.)

25

Yukarıdaki sayının birler basamağındaki rakamın sayı değeri kaçtır?

- a) 20      b) 5      c) 50

9.)

79

Yukarıdaki sayıda 7 rakamının basamak adı aşağıdakilerden hangisidir?

- a) Yüzler basamağı  
b) Birler basamağı  
c) Onlar basamağı

10.)

2



\*\*\*



40

Yukarıda basamak değerleri verilen sayı aşağıdakilerden hangisidir?

- a) 42      b) 240      c) 24



11.)


Sayı	86	
Basamak adları		
Basamak değerleri		

Yukarıdaki tabloya göre  ve  yerine sırasıyla aşağıdakilerden hangileri yazılmalıdır?

- a) Onlar basamağı - 60  
b) Birler basamağı - 8  
c) Onlar basamağı - 6

12.)

Sayı	74	
Basamak adları		
Basamak değerleri		

Yukarıdaki tabloya göre  yerine sırasıyla aşağıdakilerden hangileri yazılmalıdır?

- a) Onlar basamağı - 4  
b) Birler basamağı - 70  
c) Birler basamağı - 7

13.) Onlar basamağı 4 olan en büyük iki basamaklı sayı aşağıdakilerden hangisidir?

- a) 40      b) 94      c) 49