

75. YIL İLKOKULU 2. SINIFLAR DEĞERLENDİRME ÇALIŞMASI

Verilen sayıların basamak adlarını ve basamak değerlerini yazınız.

47	Basamak adı	Basamak değeri

79	Basamak adı	Basamak değeri

Onluk ve birlikleri verilen sayıları yazınız.

3 birlik + 2 onluk =	7 onluk =
5 onluk + 4 birlik =	6 birlik + 5 onluk =

Aşağıda verilen sayıları onluk ve birliklerine ayırarak yazınız.

49 =	18 =
42 =	25 =

Aşağıda rakamlarla yazılmış doğal sayıların okunuşlarını yazınız.

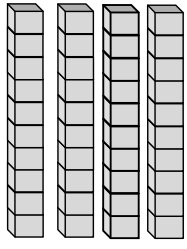

24 =	61 =
70 =	39 =

Okunuşları verilen doğal sayıları rakamla yazınız.

On dokuz =	Seksen beş =
Yetmiş iki =	Elli =


75. YIL İLKOKULU 2. SINIFLAR DEĞERLENDİRME ÇALIŞMASI

✚ Onluk ve birlikleri birim küplerle oluşturulan sayının, basamak adını, basamak değerini ve okunuşunu yazınız.

	Onluklar	Birlikler
		
Sayı		
Basamak adı		
Rak. Basamak değeri		
Sayının okunuşu		

✚ Birler basamağında 5 olan iki basamaklı en büyük sayı kaçtır?

.....

✚  rakamlarından sadece ikisini kullanarak yazabileceğimiz en büyük ve en küçük sayıları yazınız.

En büyük sayı: En küçük sayı:.....

✚ 24 sayısının onlar basamağını 4 artırdığımızda oluşan yeni sayı kaçtır?

.....

✚ 2 düzine kalemi olan çocuğun kaç tane kalemi vardır?

☐ 20 kalemi vardır. ☐ 24 kalemi vardır. ☐ 12 kalemi vardır.

✚ Bir çiçekçi 5 deste çiçek satarsa kaç tane çiçek satmış olur?

☐ 10 çiçek satmış olur. ☐ 50 çiçek satmış olur. ☐ 60 çiçek satmış olur.

"Hiç bir şeye ihtiyacımız yok, sadece bir şeye ihtiyacımız vardır; çalışkan olmak! K. ATATÜRK" Fatih Mehmet ÖVEÇ