

KESİRLER

1. Aşağıdaki ifadelerden hangisi doğrudur?
- A) İki çeyrek bir bütün eder.
B) Dört yarım bir bütün eder.
C) Bir bütün dört çeyrek eder.

2. Aşağıdaki ifadelerden hangisi yanlıştır?

- A) 8 yarım 4 bütün eder.
B) 3 bütün 6 çeyrek eder.
C) 8 çeyrek 2 bütün eder.

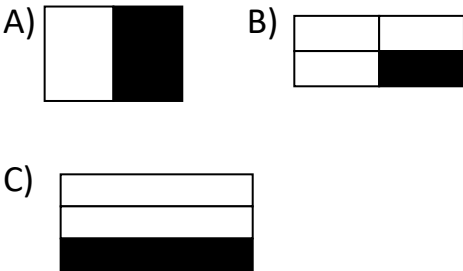
3. 4 yarım 4 çeyrek daha kaç bütün eder?

- A) 3 bütün eder.
B) 4 bütün eder.
C) 5 bütün eder.

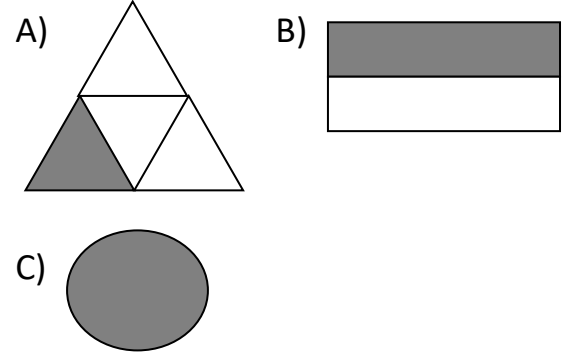
4. Aşağıdaki ifadelerden kaç tanesi doğrudur?

- 4 bütün 8 yarımdır.
 - 1 yarım 2 çeyrektir.
 - 8 çeyrek 2 bütündür.
- A) 1 tanesi doğrudur.
B) 2 tanesi doğrudur.
C) 3 tanesi doğrudur.

5. Aşağıdaki şekillerden hangisi yarımı göstermektedir?



6. Aşağıdaki şekillerden hangisi çeyreği göstermektedir?




7. Aşağıdaki şekilleri doğru ifade ile eşleştirin.

BÜTÜN



YARIM



ÇEYREK



8. 

Yukarıdaki yarım karpuzlar bir araya gelirse aşağıdakilerden hangisi oluşur?

- A) 4 bütün B) 6 bütün C) 8 bütün

9. 

Yukarıdaki çeyrek karpuzlar bir araya gelirse ne oluşmaz?

- A) 2 bütün B) 4 yarım C) 3 bütün

10. 16 sayısının yarısı kaçtır?

A) 4 B) 8 C) 12

11. 24 sayısının çeyreği kaçtır?

A) 6 B) 12 C) 4

12. Aşağıdaki tabloda hangi sembollerle gösterilen ifadeler doğrudur?

sembol	sayı	yarısı	çeyreği
▲	12	6	3
●	8	4	1
■	4	2	1

A) ▲● B) ▲■ C) ■●▲

13. 14 balonun yarısı patlarsa geriye kaç balon kalır?

Çözüm:

14. Ağıldaki 20 kuzunun çeyreği çıktı, içeride kaç kuzu kaldı?

Çözüm:

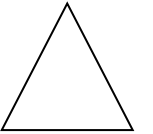


15. Kalemlerimin sayısının yarısı 9 ise benim kaç kalemim vardır?

Çözüm:

16. Kardeşimin parası benim paramın çeyreği kadardır. Kardeşimin 7 TL parası olduğuna göre benim ne kadar param vardır?

Çözüm:

17. Aşağıdaki şekillerin istenen kadarını çizip boyayınız.



çeyrek

yarım

bütün

yarım

18. Aşağıdaki boşluklara uygun sayıları yazınız.

2 bütün çeyrek eder.

8 yarım bütün eder.

2 yarım çeyrek eder.

16 çeyrek bütün eder.