


GRAFİK OKUMA SORULARI (Hayvanlar Alemi)



kuş zebra kanguru kelebek

Not: Her şekil 2 hayvanı göstermektedir.

Grafiğe göre kanguru ve kuş sayıları toplamı kaçtır?

Grafiğe göre en az olan hayvan hangisidir?

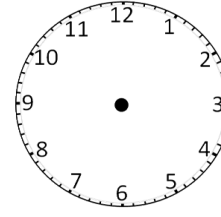
Grafiğe göre kaç tane zebra vardır?

Grafiğe göre kaç tane kuş vardır?

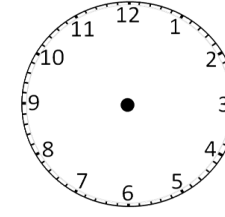
Grafiğe göre kanguru ve zebra sayıları toplamı kaçtır?

AKREP VE YELKOVANI ÇİZELİM

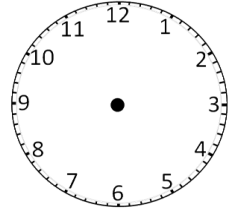
Akrep ve yelkovanı belirtilen saatlere uygun şekilde çizin.



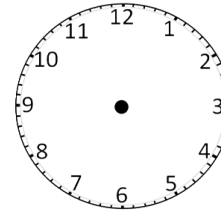
4.45



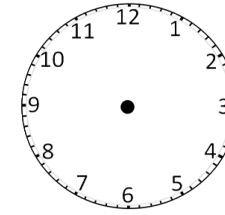
5.15



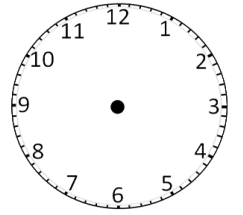
8.00



15.00



19.30



10.00

ŞEKLİ ZKA SORULARI

Görselleri inceleyerek noktalı alanların değerlerini bulunuz.

9

+



= 33



+



= 40

6

+



= ...



-

6

= 2



-



= 20



+

9

= ...

KESİRLER

Aşağıdaki soruların cevaplarını noktalı yerlere yazınız.

(Şekillerden dilediklerinizi kullanarak sonuçlara ulaşabilirsiniz.)



20 yarım = bütün eder.

14 çeyrek = yarım eder.

7 bütün = çeyrek eder.

5 bütün = çeyrek eder.

16 yarım = bütün eder.

10 çeyrek = yarım eder.

4 bütün = çeyrek eder.

2 bütün = yarım eder.

16 çeyrek = yarım eder.

3 bütün = çeyrek eder.