

## ZAMAN ÖLÇME BİRİMLERİ

Bir ay, 4 hafta ve 23 gün toplam kaç gün eder? .....

Okullar ..... ayında kapanır.

Zafer Bayramı ..... ayında kutlanır.

Haftanın 4. günü ..... günüdür.

Bir ay, 27 gün toplam kaç gün eder? .....

5 hafta, 8 gün toplam kaç gün eder? .....

Bir gün ..... saattir.

Bir saat ..... dakikadır.

Atatürk'ü Anma, Gençlik ve Spor Bayramı ..... ayında kutlanır.

Okullar ..... mevsiminde açılır.

Bir yıl ..... mevsimdir.

Kış mevsimi ayları .....  
..... ve ..... aylarıdır.

## MATEMATİK TEKRAR ÇALIŞMASI 2

Verilen sayıların okunuşlarını yazınız.

Verilen sayıları rakamlarla yazınız.

20. ....

12. ....

82. ....



yirmi sekiz. ....

on bir. ....

seksen beş. ....

Aşağıdaki toplama ve çıkarma işlemlerini zihinden yapınız.

$$22 + 17 = \dots\dots$$

$$10 + 35 = \dots\dots$$

$$70 - 40 = \dots\dots$$

$$70 - 20 = \dots\dots$$


$$30 - 10 = \dots\dots$$

$$10 + 24 = \dots\dots$$


$$70 - 60 = \dots\dots$$

$$11 + 30 = \dots\dots$$


Kutuların altına bilyelerin kaç onluk ve kaç birlikten oluştuğunu yazınız.



..... onluk + ..... birlik



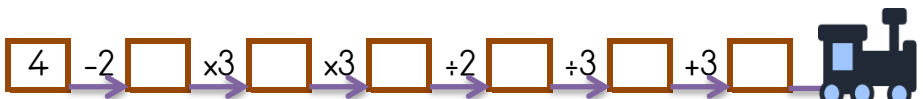
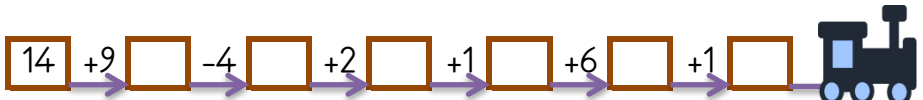
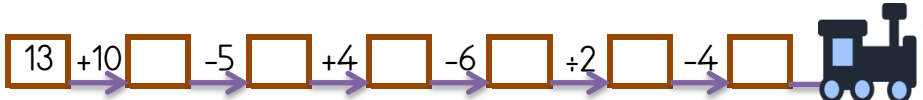
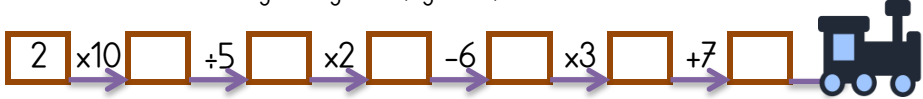
..... onluk + ..... birlik



..... onluk + ..... birlik

## VAGONLARI DOLDUR (DÖRT İŞLEM)

Son vagona verilen sayıdan başlayıp verilen işlemleri yaparak bütün vagonları doldurabilir misin? Her trende son bulduğun vagonu aşağıdan işaretlemelisin.



İkişer ritmik sayarken 8. söylediğimiz sayı kaçtır? .....

Dörder ritmik sayarken 8. söylediğimiz sayı kaçtır? .....

Dörder ritmik sayarken 10. söylediğimiz sayı kaçtır? .....

Beşer ritmik sayarken 2. söylediğimiz sayı kaçtır? .....

57, 55, 53, 52, 49, 47 örüntüsünü bozan sayı hangisidir?

34, 30, 26, 22, 18, ..... örüntüsünde noktalı yere kaç yazılmalıdır?

16, 15, 14, 13, 12, ..... örüntüsünde noktalı yere kaç yazılmalıdır?

