

2.SINIF 2. DÖNEM MATEMATİK GENEL DEĞERLENDİRME -9



Etek
35 lira



Gömlek
23 lira

1.

Gamze'nin cebinde 2 tane 20 lira vardır. Gamze etek ve gömleği alabilmesi için kaç liraya ihtiyacı vardır?

- A) 40 B) 8 C) 18

☐ 8 yarım, 18 çeyrekten oluşur.

☐ 7 bütün, 14 yarım yapar.

☐ 8 çeyrek, 2 bütün yapar.

2.

Doğru ifadelerin başına "D" yanlış ifadelerin başına "Y" yazarsak görünüm nasıl olur?

A) ☐ Y
☐ D
☐ D

B) ☐ Y
☐ Y
☐ D

C) ☐ D
☐ D
☐ D



Yandaki saati hangi öğrenci doğru okumuştur?

A) İkiye çeyrek var.

B) İkiye çeyrek geçiyor.

C) Üçü çeyrek geçiyor.

4.



Babam Mayıs ayında İstanbul'a çalışmaya gitti. 8 ay sonra geri döndü.

Çocuğun verdiği bilgilere göre aşağıdakilerden hangisi yanlıştır?

- A) Babası ilkbahar mevsiminde İstanbul'a gitmiştir.
B) Babası ocak ayında geri dönmüştür.
C) Babası sonbahar mevsiminde dönmüştür.

5.



Yusuf öğleden sonra yandaki saatte yüzme kursuna gitmiştir. 2 saat sonra eve dönmüştür. Yusuf saat kaçta eve dönmüştür?

- A) 15: 30 B) 15 : 00 C) 14 : 30

6.



Yukarıdaki para kaç tane 50 kuruşa eşittir?

- A) 5 B) 10 C) 20

7.

X	3	4	5	6
4		A		
5				B

A + B işleminin sonucu kaçtır?

- A) 46 B) 41 C) 42

8.

Benim 60 TL param var.

Benim param 40 TL.

Alper

Burcu

Alper Burcu'ya kaç TL verirse paraları eşit olur?

- A) 20 B) 10 C) 5

9.

Çiçekçi her vazoya ikişer gül ve üçer karanfil koymuştur.



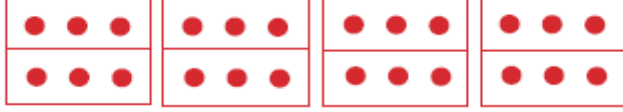
Çiçekçinin 4 vazosu olduğuna göre toplam kaç çiçeği vardır?

- A) 15 B) 20 C) 25

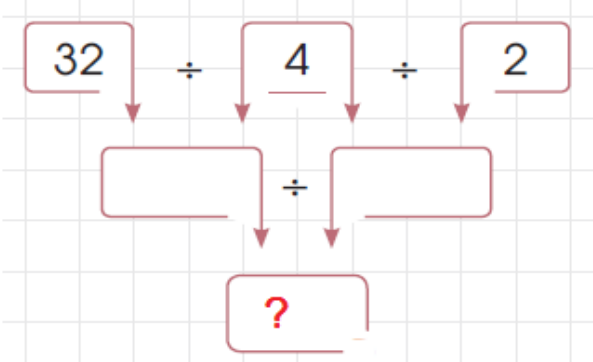
2.SINIF 2. DÖNEM MATEMATİK GENEL DEĞERLENDİRME -9

10.

Aşağıdaki modellerden hangisi 24 fındığın 6 kardeşe eşit olarak paylaştırıldığını gösterir?

- A) 
- B) 
- C) 

11.

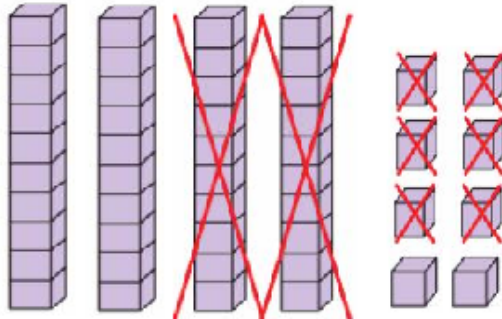


Soru işareti olan yere hangi sayı yazılmalıdır?

- A) 4 B) 8 C) 2

12. Aşağıdakilerden hangisi bir örüntüdür?

- A) 
- B) 
- C) 



13.

Yukarıdaki çıkarma işlemiyle ilgili verilen bilgilerden hangisi yanlıştır?

- A) Çıkan sayı 48'dir.
B) Fark 22'dir.
C) Çıkan ile farkın toplamı 48'dir.

14.

$$\begin{aligned} 25 + 10 + 4 &= \\ 35 + 4 &= \\ 39 &= \end{aligned}$$

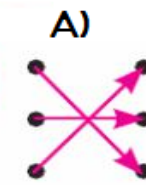

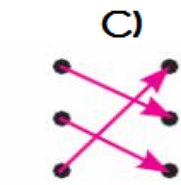
Yukarıda yapılan zihinden toplama işlemi aşağıdakilerden hangisidir?

- A) $24 + 16$ B) $25 + 14$ C) $29 + 10$

15.

$42 + \dots = 69$	•	•	46
$\dots + 28 = 73$	•	•	45
$18 + \dots = 64$	•	•	27




Yukarıda verilen toplama işlemlerinde verilmeyen sayılar oklarla eşleştirildiğinde okların görünümü nasıl olur?

- A) 
- B) 
- C) 

16.

Geçen Ay	Bu Ay	Gelecek Ay
Şubat	☆
.....	Nisan
♥	Eylül
Kasım	☆

Yukarıdaki tabloda şekillerin olduğu kısımlara hangi aylar yazılmalıdır?

- A)  Nisan  Temmuz  Aralık
- B) Mart Temmuz Ekim
- C) Nisan Ağustos Aralık

88	91	80	78
----	----	----	----

17.

Yukarıda verilen sayılar küçükten büyüğe doğru sıralandığında sondan 3. Sayı kaç olur?

- A) 88 B) 80 C) 78