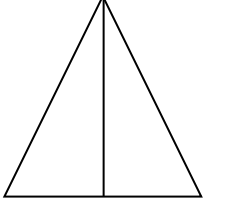

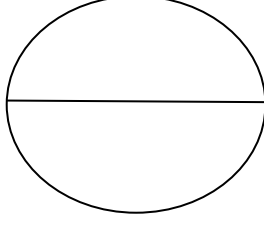

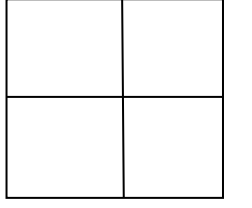
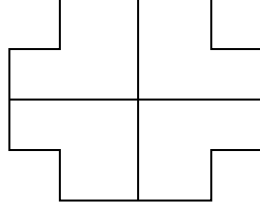
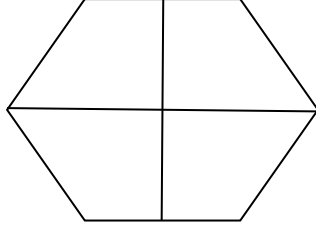



## KESİRLER

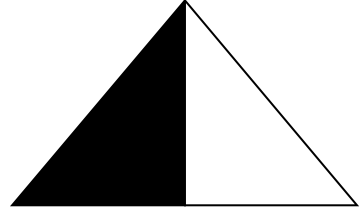

Aşağıdaki şekillerin yarısını boyayalım.



Aşağıdaki şekillerin çeyreğini boyayalım.



Aşağıdaki şekillerin ne kadarı boyanmıştır? Altlarına yazalım.

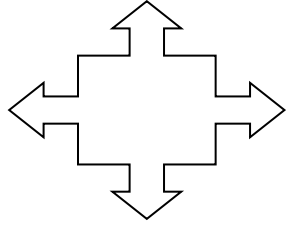
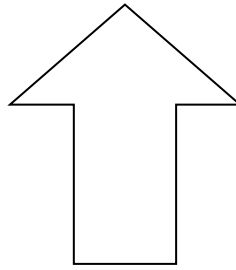




.....



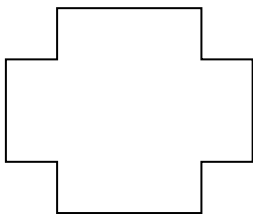
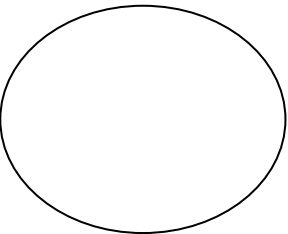
.....

.....

Aşağıdaki şekilleri yarısından çizip boyayalım.



Aşağıdaki şekillerin çeyreğini çizip boyayalım.



Aşağıdaki boşluklara uygun sayıları yazalım.

5 bütün ..... yarım eder.	2 yarım ..... bütün eder.
2 bütün ..... yarım eder.	10 yarım ..... bütün eder.
6 bütün ..... yarım eder.	4 yarım ..... bütün eder.
3 bütün ..... yarım eder.	8 yarım ..... bütün eder.
1 bütün ..... yarım eder.	14 yarım ..... bütün eder.
9 bütün ..... yarım eder.	6 yarım ..... bütün eder.
4 bütün ..... yarım eder.	12 yarım ..... bütün eder.
10 bütün ..... yarım eder.	18 yarım ..... bütün eder.
1 bütün ..... çeyrek eder.	8 çeyrek ..... bütün eder.
4 bütün ..... çeyrek eder.	4 çeyrek ..... bütün eder.
8 bütün ..... çeyrek eder.	16 çeyrek ..... bütün eder.
3 bütün ..... çeyrek eder.	12 çeyrek ..... bütün eder.
5 bütün ..... çeyrek eder.	20 çeyrek ..... bütün eder.
10 bütün ..... çeyrek eder.	28 çeyrek ..... bütün eder.
2 bütün ..... çeyrek eder.	32 çeyrek ..... bütün eder.
7 bütün ..... çeyrek eder.	24 çeyrek ..... bütün eder.