

# RİTMİK SAYMALAR

1. Etkinlik:İleriye doğru **ikişer** ritmik sayma yaparken verilen sayıdan önce ve sonra söylenen sayıları yazalım.

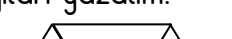
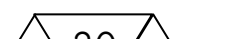


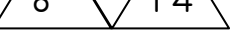
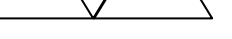


2. Etkinlik:İleriye doğru **üçer** ritmik sayma yaparken verilen sayıdan önce ve sonra söylenen sayıları yazalım.

6 9 12 ... 27 ... 15 ... 6 ...

... 18 ... ... 24 ... ... 12 ... ... 21 ...

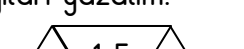
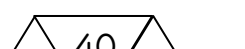


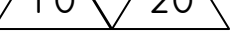
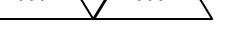
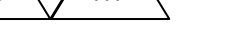

3.Etkinlik:İleriye doğru **dörder** ritmik sayma yaparken verilen sayıdan önce ve sonra söylenen sayıları yazalım.

gösteren yazalım:

4.Etkinlik:İleriye doğru **beşer** ritmik sayma yaparken verilen sayıdan önce ve sonra söylenen sayıları yazalım.

gösteren yazalım.

4.Etkinlik: Aşağıda verilen geriye doğru **ikişer** ritmik saymaları tamamlayalım.

40 38 . . . . . 24 . . . . .

. . . . . 18 . . . . . . . . . . . . . . . .

90 88 ... 72

... 60 ...