

ADI - SOYADI: .....

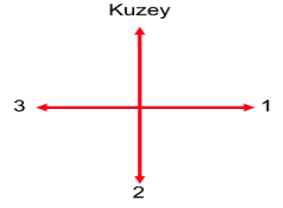
## 2.SINIF HAYAT BİLGİSİ "YÖNLER" KONU TESTİ

1 - Güneş'in doğduğu yön kaç numara ile gösterilmiştir?

A) 1

B) 2

C) 3



2 - Güneş'in doğduğu yöne sağ kolumuzu açtığımızda sol kolumuz hangi yönü gösterir?

A) Kuzey

B) Güney

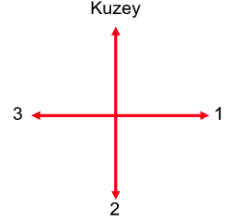
C) Batı

3 - Kaç numaralı yere "Güney" yazarız?

A) 3

B) 2

C) 1



4 - Güneş'in doğduğu tarafa sırtını dönen birinin sol kolu hangi yönü gösterir?

A) Batı

B) Kuzey

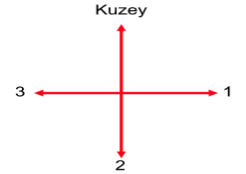
C) Güney

5 - 3 numaralı yere hangi yön adı yazılmalıdır?

A) Batı

B) Doğu

C) Güney



6 - Kuran Kursu'nun güneyinde ne vardır?

A) Antikacı B) Bakkal C) Köy evi

7 - Bakkal'ın batısında ne vardır?

A) Kuran Kursu B) Muhtarlık C) Saat Kulesi

8 - Köy Evi'nin güneyinde ne vardır?

A) Kuran Kursu B) Bakkal C) Muhtarlık

9 - Saat Kulesi'nin kuzeyinde ne vardır?

A) Antikacı B) Bakkal C) Kuran Kursu

10 - Muhtarlık'ın kuzeyinde ne vardır?

A) Antikacı B) Saat Kulesi C) Köy evi

11 - Köy Evi'nin batısında ne vardır?

A) Muhtarlık B) Bakkal C) Kuran Kursu

