



# BÜTÜN YARIM ÇEYREK

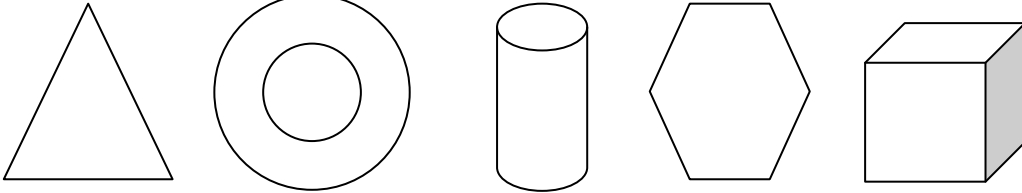


Bütün

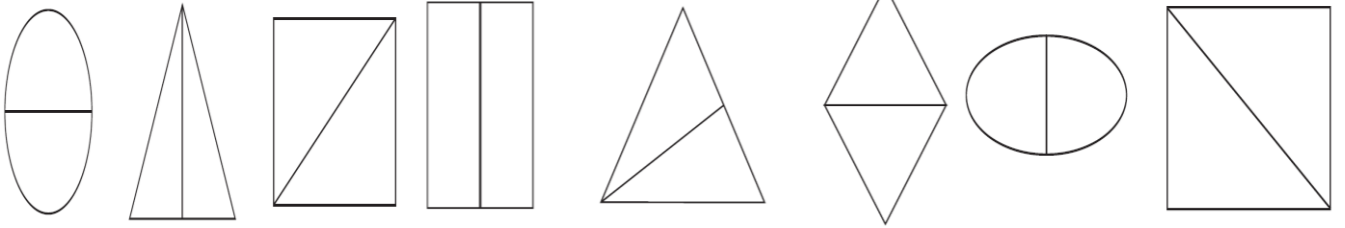
Yarım

Çeyrek

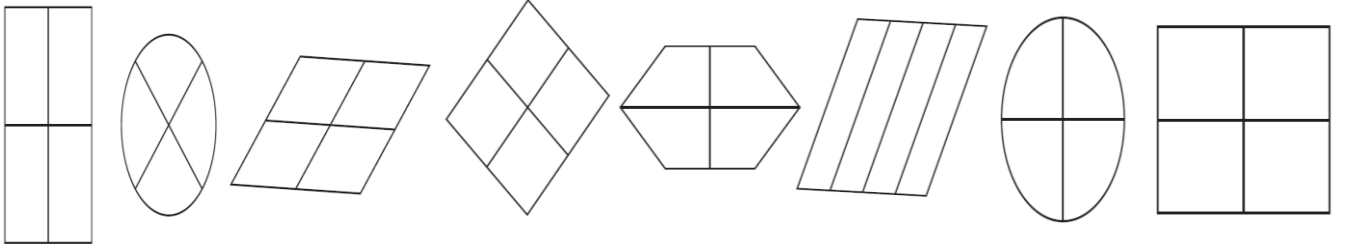
✓ Aşağıdaki şekillerin **bütününü** boyayınız.



✓ Aşağıdaki şekillerin **yarısını** boyayınız.



✓ Aşağıdaki şekillerin **çeyreğini** boyayınız.



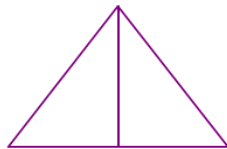
Aşağıda verilen şekillerin istenilen kavramlar doğrultusunda boyamasını yapınız.



YARIM



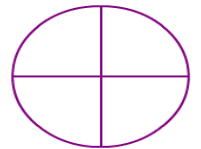
BÜTÜN



YARIM



ÇEYREK



ÇEYREK

- ✓ 1 bütün ..... yarım eder.
- ✓ 1 bütün ..... çeyrek eder.
- ✓ 4 çeyrek ..... bütün eder.
- ✓ 4 bütün ..... yarım eder.
- ✓ 8 çeyrek ..... bütün eder.

- ✓ 2 bütün ..... yarım eder.
- ✓ 2 bütün ..... çeyrek eder.
- ✓ 12 çeyrek ..... bütün eder.
- ✓ 3 bütün ..... yarım eder.
- ✓ 2 çeyrek ..... yarım eder.