

# 2.SINIF

## KAZANIM DEĞERLENDİRME SINAVI





Adı : .....

Soyadı: .....

Sınıfı : ...../.....

No : .....


 HAZIRLAYAN  
SALİH ÖZENÇ 

## 2. SINIF 4. KAZANIM DEĞERLENDİRME SINAVI

### TÜRKÇE

1) Aşağıdaki kelimelerden hangisinin ikinci hecesi üç harflidir?

- A) Patates B) Papatya C) Patlıcan



2) Yukarıdaki birinci resmin ilk hecesini, ikinci resmin ilk hecesini, üçüncü resmin üçüncü hecesini yan yana eklersek hangi kelimeyi elde ederiz?

- A) Sandalet B) Sadalet C) Sandabi

Eyvah, kedim kayboldu ( )

Yeni elbiseni beğendin mi ( )

Yarın sinemaya gideceğiz ( )

Öğretmenimiz Ece( ) ye aferin dedi.

3) Yukarıda belirtilen parantez içlerine hangi noktalama işaretleri konmalıdır?

A)

B)

C)

(!)

(.)

(.)

(.)

(!)

(?)

(.)

(')

(.)

(?)

(.)

(')

4) Aşağıdaki cümlelerin hangisinde "dost" kelimesinin zıt anlamlısı, cümle içinde kullanılmıştır?

- A) Bütün arkadaşlarım doğum günü partime gelmişler.  
B) Kahramanmaraş, 12 Şubat tarihinde düşman işgalinden kurtulmuştur.  
C) Yağmur köpeğinin adını Dost koydu.

yeni	çok	beğendim	saati	aldığım
------	-----	----------	-------	---------

5) Yukarıda karışık olarak verilmiş kelimelerin anlamlı ve kurallı hali hangisidir?

- A) Çok beğendim yeni aldığım saati.  
B) Yeni aldığım saati çok beğendim.  
C) Yeni aldığım saati beğendim çok.

6) Aşağıdaki cümlelerin hangisinde yazım yanlışı vardır.

- A) Yağmur yağınca Burak'ın elbisesi ıslandı.  
B) Bugün sınıfa Yağmur'un annesi geldi.  
C) Ahmet bisiklet sürecekmî?

7) "Semiha bu sabah sırt çantasını alıp, saçlarını da at kuyruğu yapıp öyle dışarı çıktı."

Buna göre aşağıdakilerden hangisi Semiha'dır?



A)



B)



C)



8) Yukarıdaki görsel bir okuma parçasına ait ise bu resme göre, okuma parçasının başlığı hangisi olabilir?

- A) Ayıdan korkan çocuk  
B) Ayı ile küçük çocuğun dostluğu  
C) Ayının yaramazlığı

## 2. SINIF 4. KAZANIM DEĞERLENDİRME SINAVI



9) Yukarıdaki kelimeleri sözlük sırasına göre sıralarsak hangisi en sonda yer alır?

- A) kitap B) defter C) kalem



Burcu

bu sabah Ömer'in köpeği  
pamuk'u gördün mü.

10) Burcu'nun cümlesinde kaç tane yazım ve noktalama yanlışı vardır?

- A) 4 B) 3 C) 2

yol

11) Yukarıdaki kelime aşağıdaki cümlelerin hangisinde çekip koparmak anlamında kullanılmıştır?

- A) Arabayı bu yola sürme.  
B) Betül, Esra'nın saçlarını yoldu.  
C) Bu soruyu başka bir yoldan çözmelisin.

"Yasemin yüzüne krem sürdü."

12) Aşağıdaki hangi cümledeki yüz kelimesi yukarıdaki cümledekiyle aynı anlamdadır?

- A) Burcu yüz kere ip atladi.  
B) Esra'nın babası kurbanlık koyunu yüzdü.  
C) Murat, Ali'nin yüzüne tokat attı.

### BİSİKLET

Ali o sabah uyanır uyanmaz dışarıdan gelen sesleri dinlemek için hemen pencereye gitti. Hava o kadar güzeldi ki hemen yüzüne hoş bir gülümseme yerleşti. Sesin geldiği yöne başını çevirdi. Birde ne görsün. Mavi renkli gıcır gıcır bir bisiklet. Yanında da babası. Duysun diye ziline basıyormuş babası. Ali sevinçten havalara uçtu ve koşarak bahçeye çıktı.

(13.,14.,15. Soruları okuma parçasına göre cevaplayınız.)

13) Aşağıda verilen görsellerden hangisi yukarıdaki okuma parçasına ait olabilir?



A)



B)



C)

14) Ali o sabah neden pencereden dışarıya bakmıştı?

- A) Her sabah öyle yaparmış çünkü.  
B) O sabah dışarıdan bir ses geldiği için.  
C) Yağmur yağdığı için.

15) Aşağıdaki verilen bilgilerden hangisi Ali'nin bisikletinin özelliklerinden değildir?

- A) Mavi renkli olması.  
B) Önünde sepet olması.  
C) Zilinin olması.

## 2. SINIF 4. KAZANIM DEĞERLENDİRME SINAVI

### MATEMATİK




1) Melis, yukarıdaki meyvelerden 3 tane elma, 4 tane armut alırsa satıcıya kaç lira ödemelidir?

- A) 15 B) 31 C) 16



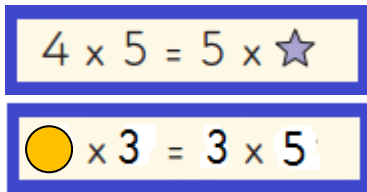
2) Yukarıdaki sayının 3 katının, 14 fazlası kaç eder?

- A) 18 B) 21 C) 32



3) Yukarıdaki verilen bilyelerin sayısı aşağıdaki işlemlerin hangisi ile bulunur?

- A)  $6 \times 3$  B)  $6 + 3$  C)  $6 \times 6$



4) Yukarıdaki işlemlere göre ☆ x ● işleminin sonucu kaçtır?

- A) 25 B) 12 C) 20



5) Akif 5 silgi, 5 kalem alırsa satıcıya kaç lira öder?

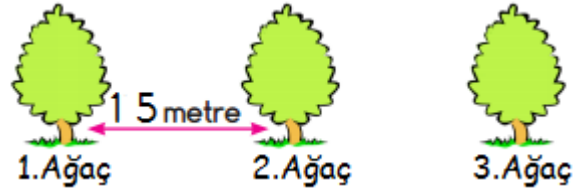
- A) 10 B) 20 C) 30



6) Yukarıda bir şişenin aldığı su miktarı verilmiştir.

Buna göre 3 şişe kaç bardak su ile alır?

- A) 12 B) 7 C) 8



7) "1.ağaç ile 2.ağaç arasındaki mesafe verilmiştir. 2.ağaç ile 3.ağaç arasındaki mesafe ilk iki ağaç arasındaki mesafeden 17 metre fazladır."

Buna göre 1.ağaç ile 3.ağaç arasındaki mesafe kaç metredir?

- A) 32 B) 47 C) 49



18TL

95TL

77TL

8) Ahmet yukarıdaki ürünlerden bir atkı, bir de bot almıştır. Ne kadar para öder?

- A) 113 B) 172 C) 95

## 2. SINIF 4. KAZANIM DEĞERLENDİRME SINAVI

9) Aşağıdaki görsellerden hangisi simetri doğrusu ile iki eşit parçaya ayırlamamıştır?




A)



B)



C)



10) Ramazan yukarıdaki geometrik cismi ters çevirip kalem ile çevresini çizmiştir. Buna göre Ramazan hangi geometrik şekli elde eder?



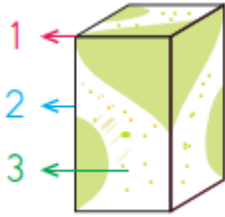
A)



B)



C)



11) Yukarıdaki geometrik cismin kenarı kaç numara ile gösterilmiştir?

A) 1

B) 2

C) 3

32 - 28 - 24 - ? - 16 - ?

3 - 8 - 13 - 18 - 23 - ?

12) Yukarıdaki soru işareti yerine gelmesi gereken sayıların toplamı kaç eder?

A) 60

B) 40

C) 32

80

77

74

71

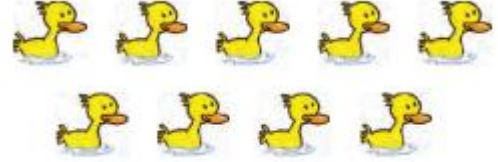
68

13) Yukarıdaki sayılardan en büyüğü ile en küçüğü arasındaki fark kaçtır?

A) 19

B) 18

C) 12



14) Yukarıdaki ördekler üçerli gruplarsak kaç grup elde ederiz?

A) 9

B) 3

C) 6

Ben 43 kiloyum.  
Ya sen

Ben de senden 15  
kilo daha azım.



15) Yukarıdaki bilgilere göre kedi kaç kilodur?

A) 61

B) 58

C) 28

## 2. SINIF 4. KAZANIM DEĞERLENDİRME SINAVI

### HAYAT BİLGİSİ

1) Özlem 2. sınıfa gitmektedir. Ailesi ile birlikte televizyonda aşağıdaki akıllı işaret gösterilen programlardan hangisini izleyebilir?



Genel izleyici  
Kitlesi

A)



13 Yaş ve üzeri

B)



Şiddet / Korku

C)

2) "Mesut arkadaşlarıyla parkta oyun oynarlarken acı acı miyavlayan bir kedi gördüler. Hemen oradaki bekçiden ..... numarayı aramasını istediler."

Mesut ve arkadaşları bekçiden hangi numarayı aramalarını istemişlerdir?



A)



B)



C)

3) "Annem pasta yapmak için malzemeleri karıştırmakta onu kullanır."

Yukarıdaki bilgi hangi teknolojik alete aittir?



A)



B)



C)

4) Aşağıdaki ulaşım araçlarından hangisi kullanıldığı yola göre farklı tür bir araçtır?



A)



B)



C)

5) Aşağıdaki görsellerdeki hangi çocuk güvenlik açısından sakıncalı bir hareket yapmaktadır?



A)



B)



C)

6) Aşağıdaki mesleklerden hangisi sağlık alanında çalışmaktadır?



A)



B)



C)

## 2. SINIF 4. KAZANIM DEĞERLENDİRME SINAVI

7) "Amcası Mevlüt'e büyüünce ne olacaksın bakalım diye sormuş. Mevlüt'te suçluları yakalayacağım amca diye cevap vermiş."

Bu bilgiye göre Mevlüt hangi mesleği olmak istemektedir?



Öğretmen

A)



Polis

B)



Hemşire

C)

8) Aşağıdaki çocuklardan hangisi yanlış bir davranış yapmıştır?

A) **AYŞEGÜL**: Otobüste yolculuk ederken yaşlı bir amca otobüse binince, hemen kalkıp ona yer verdi.

B) **NURGÜL**: Karşıdan karşıya geçerken yaşlı bir amcanın yolun karşısına geçmesine yardım etti.

C) **FATMAGÜL**: Otobüste giderken hamile bayana yer vermemek için uyuma numarası yaptı.



1



2



3



4



5

9) Yukarıdaki ürünlerden hangilerini yaz mevsiminde kullanırsınız?

A) 1-4-5

B) 2-3

C) 2-3-4



10) Yukarıdaki besinleri daha çok hangi mevsimde tüketiriz?


A) İlkbahar

B) Sonbahar

C) Yaz

## 2. SINIF 4. KAZANIM DEĞERLENDİRME SINAVI

### İNGİLİZCE



1) Resme göre aşağıdakilerden hangisi söylenmelidir?

- A) Let's walk
- B) Let's swing
- C) Let's run




2) Aşağıdaki hangi ifade görsele aittir?

- A) Stand up
- B) Sit down
- C) Open the book



3) Yukarıda kaç tane çilek vardır?

- A) Eight
- B) Seven
- C) Nine



Hello. I'm Superdog. I like brown and green.

4) Yukarıdaki Süper köpeğin verdiği bilgiye göre renkleri neymiş?

- A) mavi-yeşil
- B) kahverengi-gri
- C) kahverengi-yeşil

5) Aşağıdaki öğrencilerden hangisi çantasına koyacağı eşyaları yanlış yazmıştır?

A)



Pencil  
Ruler  
Book

B)



Pencil  
Table  
Desk

C)



Crayon  
Ruler  
Notebook