



2. SINIF
MATEMATİK
ONLUK VE BİRLİK - 1

Aşağıdaki nesneleri onluk ve birlik gruplara ayırınız. Bunlara karşılık gelen sayıları yazınız. Sayıları onluk ve birliklere ayırınız.




Sayı:

..... Onluk Birlik



Sayı:

..... Onluk Birlik




Sayı:

..... Onluk Birlik



Sayı:

..... Onluk Birlik



Sayı:

..... Onluk Birlik