


**2. SINIF**  
**MATEMATİK**  
**DETSE VE DÜZİNE**

Aşağıdaki soruları cevaplandırınız.

1 destede ..... nesne bulunur.

1 düzinede ..... nesne bulunur.

➤ Aşağıda verilen nesne gruplarını 1 desteye tamamlayınız.



➤ Aşağıda verilen nesne gruplarını 1 düzineye tamamlayınız.



➤ Aşağıda verilen nesne gruplarını 1 düzineye tamamlayınız.



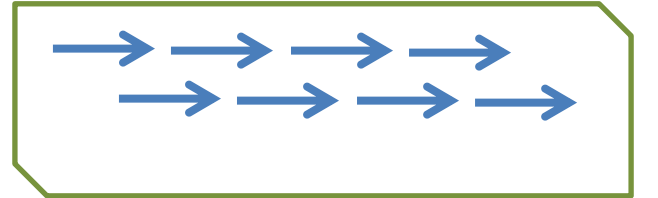
➤ Aşağıda verilen nesne gruplarını 1 desteye tamamlayınız.




➤ Aşağıda verilen nesne gruplarını 1 desteye tamamlayınız.



➤ Aşağıda verilen nesne gruplarını 1 düzineye tamamlayınız.





Aşağıdaki soruları yukarıda verilen nesnelere göre yanıtlayınız.

1.) Kelebeklerin sayısı 1 desteden kaç eksiktir?

- a) 1      b) 2      c) 3

2.) Horozların sayısı 1 düzineden kaç eksiktir?

- a) 5      b) 6      c) 7

3.) Tavşanların sayısı 1 desteden kaç fazladır?

- a) 1      b) 2      c) 3

4.) Kaplumbağaların sayısı 1 düzineden kaç fazladır?

- a) 3      b) 4      c) 5

5.) Tablo içine kaç top eklersek top-  
ların sayısı 1 deste olur?

- a) 5      b) 4      c) 3

6.) Tablo içine kaç kalem eklersek ka-  
lemlerin sayısı 1 düzine olur?

- a) 7      b) 6      c) 5

7.) Ağaçların sayısı 1 desteden kaç  
eksiktir?

- a) 4      b) 6      c) 8

8.) Ağaçların sayısı 1 düzineden kaç  
eksiktir?

- a) 4      b) 6      c) 8