

TÜRKİYE

Türkiye'mde insanlar,
Dört mevsimi yaşarlar.
Gelmeyenler bilemez,
Ne ararsan bizde var.



Çoktur eserlerimiz
Bitmez değerlerimiz.
Tek değer var kaybolmaz,
Yüksek karakterimiz

Kasım KAPLAN


1-Şiire göre Türkiye'de insanlar neyi yaşar?

2-Şaire göre Türkiye'ye gelmeyenler neyi bilemez?


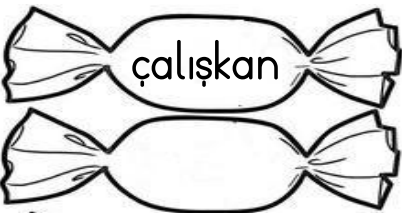
3-Şaire göre çok olan nedir?


4-Şaire göre kaybolmayacak değer nedir?

Resimde gördüklerinizi kurallı cümlelerle yazınız. Büyük harf kullanımına ve noktalama işaretlerine dikkat ediniz.



Zıt anlamlılarını yazın.





$$\begin{array}{ll} 16+4=... & 12+8=... \\ 13+7=... & 15+5=... \\ 11+9=... & 18+2=... \\ 19+1=... & 17+3=... \\ 14+6=... & 10+10=... \end{array}$$

$$\begin{array}{ll} 20-1=... & 20-8=... \\ 20-7=... & 20-9=... \\ 20-3=... & 20-6=... \\ 20-5=... & 20-4=... \\ 20-2=... & 20-10=... \\ 20-0=... & 20-20=... \end{array}$$



$$\begin{array}{l} 1\text{onluk } 6 \text{ birlik:}... \\ 2\text{onluk } 3 \text{ birlik:}... \\ 3\text{onluk } 4 \text{ birlik:}... \\ 2\text{onluk } 5 \text{ birlik:}... \\ 1\text{onluk } 8 \text{ birlik:}... \\ 1\text{onluk } 9 \text{ birlik:}... \\ 3\text{onluk } 6 \text{ birlik:}... \end{array}$$

Eksik sayıları yazın


64		66		68	
74		76		78	
84		86		88	

$$\begin{array}{ll} \square + 6 = 13 & \square + 8 = 19 \\ 12 + \square = 17 & 14 + \square = 15 \\ \square + 11 = 18 & \square + 5 = 20 \\ 15 + \square = 17 & 12 + \square = 21 \end{array}$$


Akrep ve yelkovanları siz çizin



Yarısını boyayın



Bütünü boyayın



Cümleleri tamamlayın.

Bir bütün yarım eder.
İki bütün yarım eder.
Üç bütün yarım eder.

İki yarım bütün eder.
Dört yarım bütün eder.
Altı yarım bütün eder.