

GÜVENLİ İLETİŞİM

Sabah okula giderken, okuldan eve dönerken yolda insanlarla karşılaşırız. Bu insanların bir kısmı tanıdığımız, bir kısmı ise tanımadığımız insanlardır.




Tanıdığımız kişilerle karşılaştığımızda onları selamlamalıyız. Büyüklerimize karşı saygılı davranmalı, hatırlarını sormalıyız. Konuşmamıza özen göstermeli, nazik olmalıyız.


Tanıdığımız bir kişi olsa bile anne ve babamıza haber vermeden bir yere gitmemeliyiz.

Doğru davranışı yeşil, yanlış davranışı kırmızı boyayın.

	Okula gelince arkadaşlarıma "Günaydın." derim.
	Yolda Ahmet Amca'yı görmezden geldim.
	Anneme haber vermeden arkadaşımınla parka gittim.
	Oyuna katılmak isteyen arkadaşımı oyuna almadım.
	Asansördeki komşumuza "İyi günler." dedim.



Özel adları kırmızı, tür adlarını sarı boyayın.



Özel adları yazın.

- 1-
- 2-
- 3-
- 4-
- 5-
- 6-
- 7-
- 8-
- 9-
- 10-

TOPLANANLARIN BİRİ KAYBOLMUŞ.
YARDIM ET BULALIM!

$$5 + 6 = 11$$

toplanan toplanan toplam



$2 + \square = 8$

$6 + \square = 9$

$1 + \square = 9$

$5 + \square = 12$

$5 + \square = 7$

$5 + \square = 9$

$4 + \square = 10$

$3 + \square = 7$

$7 + \square = 10$

$0 + \square = 6$

$3 + \square = 8$

$1 + \square = 10$

$$\begin{array}{r} 8 \\ - 4 \\ \hline \end{array}$$

$$\begin{array}{r} 9 \\ - 1 \\ \hline \end{array}$$

$$\begin{array}{r} 9 \\ - 5 \\ \hline \end{array}$$

$$\begin{array}{r} 10 \\ - 7 \\ \hline \end{array}$$

$$\begin{array}{r} 8 \\ - 7 \\ \hline \end{array}$$

$$\begin{array}{r} 10 \\ - 3 \\ \hline \end{array}$$

$$\begin{array}{r} 10 \\ - 0 \\ \hline \end{array}$$

$$\begin{array}{r} 9 \\ - 9 \\ \hline \end{array}$$

$$\begin{array}{r} 10 \\ - 9 \\ \hline \end{array}$$

$$\begin{array}{r} 9 \\ - 3 \\ \hline \end{array}$$

$$\begin{array}{r} 10 \\ - 5 \\ \hline \end{array}$$

$$\begin{array}{r} 8 \\ - 5 \\ \hline \end{array}$$

$$\begin{array}{r} 10 \\ - 1 \\ \hline \end{array}$$

$$\begin{array}{r} 8 \\ - 0 \\ \hline \end{array}$$

$$\begin{array}{r} 7 \\ - 3 \\ \hline \end{array}$$

$$\begin{array}{r} 9 \\ - 8 \\ \hline \end{array}$$

$$\begin{array}{r} 9 \\ - 4 \\ \hline \end{array}$$

$$\begin{array}{r} 8 \\ - 6 \\ \hline \end{array}$$

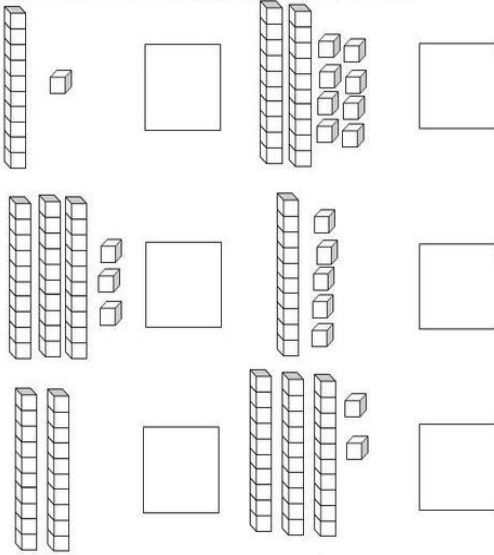
$$\begin{array}{r} 10 \\ - 4 \\ \hline \end{array}$$

$$\begin{array}{r} 7 \\ - 5 \\ \hline \end{array}$$

$$\begin{array}{r} 8 \\ - 3 \\ \hline \end{array}$$



Sayıları yazın



Eksik sayıları bulun.



Problemleri matematik defterine yazın ve çözün.

- 1- Altıdan sonra gelen sayının 7 fazlası kaçtır?
- 2- Otobüste 17 yolcu var. 5 kişi daha bindi. Otobüste kaç kişi oldu?
- 3- Markette öğleden önce 12 kutu süt, öğleden sonra 9 kutu süt satıldı. Markette toplam kaç kutu süt satıldı?
- 4- Ayşe 8 yaşındadır. Ablası Ayşe'den 3 yaş büyüktür. Ablası kaç yaşındadır?