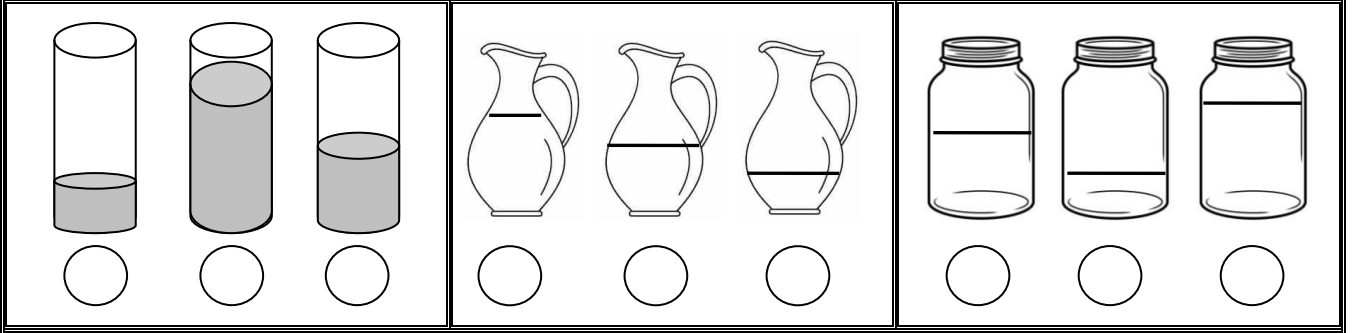


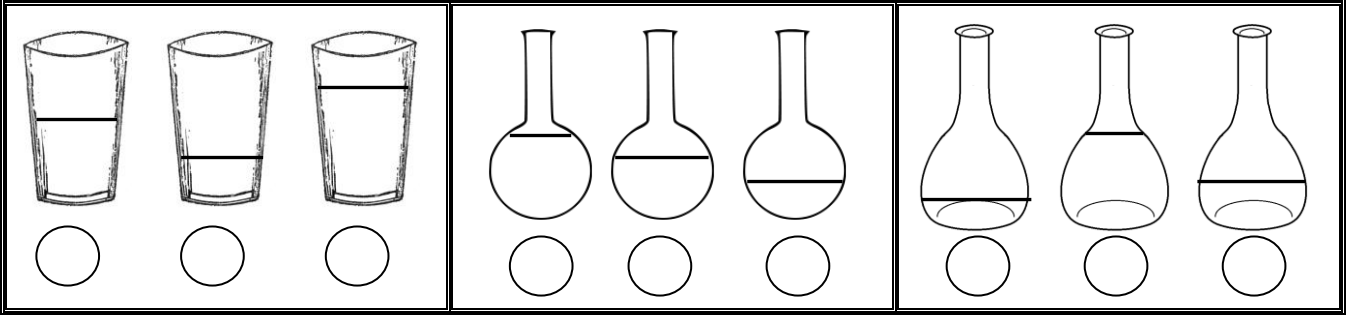
SIVILARI ÖLÇME

1. Etkinlik : Aşağıdaki soruları cevaplayalım.

İçinde daha az sıvı olanı işaretleyiniz.




İçinde daha fazla sıvı olanı işaretleyiniz.



2. Etkinlik : Aşağıdaki soruları cevaplayalım.

Aşağıdaki eşyaları alacakları sıvı miktarına göre çoktan aza doğru sıralayınız.



Aşağıdaki eşyaları alacakları sıvı miktarına göre azdan çoğa doğru sıralayınız.

