



Adı ve soyadı: .....

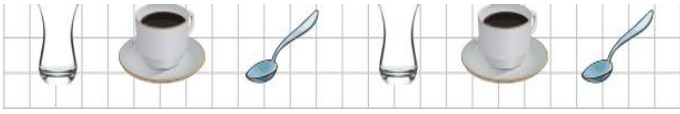
1. Aşağıda verilen örüntülerin kuralını yazınız.



Kural: .....



Kural: .....



Kural: .....

2. Aşağıda verilen örüntüleri kuralına uygun devam ettiriniz.



3. Aşağıda verilen geometrik şekillerle ilgili bilgileri tamamlayınız.

Şekiller	Köşe Sayısı	Kenar Sayısı

2. DÖNEM MATEMATİK DENEME  
SINAVI 7

4. Aşağıdaki takvim sorularını yanıtlayınız.

ŞUBAT - 2018						
P.tesi	Salı	Çarş.	Perş.	Cuma	C.tesi	Pazar
			1	2	3	4
5	6	7	8	9	10	11
12	13	14	15	16	17	18
19	20	21	22	23	24	25
26	27	28				

Bu hangi ayın takvim yaprağıdır?

.....

Şubat ayı kaç gündür?

.....

Şubat son günü hangi gündür?

.....

Şubatin ilk günü hangi gündür?

.....

5. Aşağıdaki gün ve ay sıralamasında eksikleri tamamlayınız.

Önceki ay	Bu ay	Sonraki ay
	Mart	

Önceki ay	Bu ay	Sonraki ay
		Haziran

Dün	Bugün	Yarın
	Salı	

Dün	Bugün	Yarın
		Pazar

6. Aşağıdaki saatleri yazınız ve verilen saatlere akrep ve yelkovan çiziniz.



..... iki buçuk

7. Aşağıdaki kesirler ile ilgili bilgileri doldurunuz.

4 yarım ..... bütün eder.

1 bütün ..... yarım eder.

3 bütün ..... yarım eder.

2 yarım ..... bütün eder.

8 yarım ..... bütün eder.

8. Aşağıda verilen toplama ve çıkarma işlemlerini yapınız.

$$\begin{array}{r} 15 \\ + 4 \\ \hline \end{array} \quad \begin{array}{r} 17 \\ - 8 \\ \hline \end{array} \quad \begin{array}{r} 9 \\ + 8 \\ \hline \end{array} \quad \begin{array}{r} 13 \\ - 6 \\ \hline \end{array} \quad \begin{array}{r} \phantom{00} \\ + 9 \\ \hline 15 \end{array}$$

9. Aşağıda verilen para miktarlarını yazınız.



.....



.....



.....

10. Bir kırtasiyeci 20 tane kalemın önce 8 tanesini sonra 5 tanesini sattı. Kaç kalemi kaldı?


11. Bir fırıncı 17 ekmek pişirdi. 9 tanesi satılınca 5 ekmek daha pişirdi. Şimdi kaç ekmeği oldu?


12. Kilosu 6 TL olan eriklerden 2 kilo alan Hasan kaç TL ödemelidir?


13. Küçük kardeşimin 8 mavi, 7 sarı, 5 tane de mor balonu vardır. Kardeşimin toplam kaç balonu vardır?


14. Canan 12, kardeşi 7 yaşındadır. Canan kardeşinden kaç yaş büyüktür?


KONTROL ETMEYİ UNUTMA...

