


Adı:	MATEMATİK
Soyadı:	2. Dönem 2. Değerlendirme Sınavı
Sınıf: 1 -	.



1. Aşağıdaki işlemleri yapın.(1 2p)

$$\begin{array}{r} 18 \\ + 5 \\ \hline \end{array} \quad \begin{array}{r} 12 \\ + 9 \\ \hline \end{array} \quad \begin{array}{r} 9 \\ + 8 \\ \hline \end{array} \quad \begin{array}{r} 10 \\ - 9 \\ \hline \end{array} \quad \begin{array}{r} 13 \\ - 8 \\ \hline \end{array} \quad \begin{array}{r} 24 \\ - 8 \\ \hline \end{array}$$

2. Aşağıdaki yerlerde boş ikişer ritmik sayıları tamamlayalım.(4p)

	4			10				18	
--	---	--	--	----	--	--	--	----	--

3) Aşağıdaki onluk birlik işlemlerini yapınız. (8p)

$$3 \text{ onluk} + 5 \text{ birlik} = \dots$$

$$4 \text{ onluk} + 0 \text{ birlik} = \dots$$

$$19 = \dots \text{ onluk} + \dots \text{ birlik}$$

$$70 = \dots \text{ onluk} + \dots \text{ birlik}$$

4) Aşağıdaki kesirlerle ilgili bilgileri doldurunuz. (8p)

5 bütün ..... yarım eder.

6 yarım ..... bütün eder.

10 yarım ..... bütün eder.

8 bütün ..... yarım eder.

5) Aşağıdaki paraların toplamını yazınız. (8p)



...Lira....Kuruş



= .....Lira

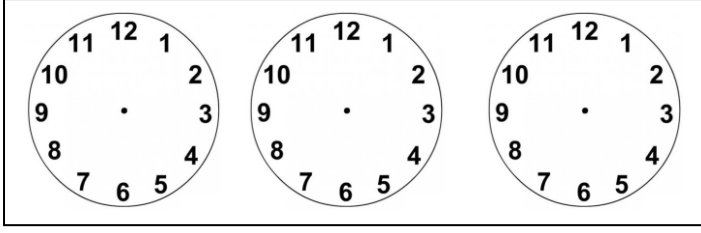


= .....Lira

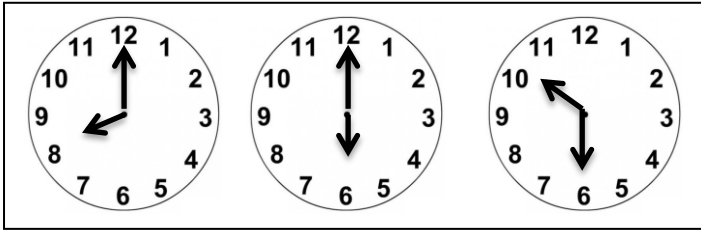


= .....Lira

6) Aşağıdaki saatleri yazınız ve verilen saatlere akrep ve yelkovan çiziniz. (1 2p)



11.00	02.00	05.30
-------	-------	-------



.....	.....	.....
-------	-------	-------

7) Aşağıdaki soruları cevaplayın. (1 0p)

MAYIS 2019						
Pazar-tesi	Salı	Çar	Per	Cuma	Cumar-tesi	Pazar
		1	2	3	4	5
6	7	8	9	10	11	12
13	14	15	16	17	18	19
20	21	22	23	24	25	26
27	28	29	30	31		

- Mayıs ayı yılın kaçınıcı ayıdır? .....
- Mayıs ayı kaç gündür? .....
- Mayısın son günü hangi gündür? .....
- 1 9 Mayıs hangi gündür? .....
- Mayısta kaç tane Cuma vardır? .....

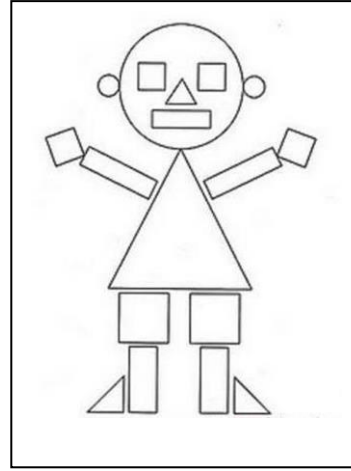
8) Aşağıdaki günlerde eksikleri tamamlayınız. (6p)

Dün	Bugün	Yarın
	çarşamba	
cuma		
		salı

9) Aşağıdaki örüntüleri tamamlayınız. (8p)

△	□	△	□	....
⇒	↑	⇐	↓	....
○	△	□	○	....
☺	♥	☺	♥	....

1 0) Aşağıdaki robotta yer alan şekillerin sayısını yazınız. (8p)



□	
□	
○	
△	

1 1) Bir fırıncı 1 9 ekmek pişirdi. 1 2 tanesi satılınca 7 ekmek daha pişirdi. Şimdi kaç ekmeği oldu? (5p)

1 2) Hande 1 7 yaşındadır. Kardeşi 5 yaş küçük olduğuna göre ikisinin yaşları toplamı kaçtır? (6p)

1 3) Osman 5, İrem 9, Ahsen ise 1 3 yaşındadır. Üçünün yaşları toplamı kaçtır? (5p)