

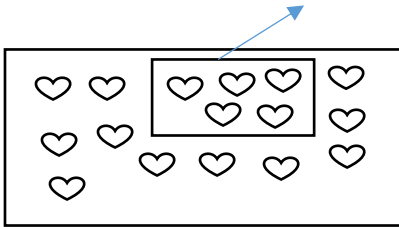
Adı- Soyadı:.....

Aşağıdaki işlemlerin matematik cümlesini yazarak sonucu bulunuz.

.....

.....

Aşağıdaki çıkarma işleminin matematik cümlesini yazınız.



.....

Aşağıdaki sayıların onluk ve birliklerine ayırınız.

15=.....onluk + .....birlik

27=.....onluk + .....birlik

1 onluk + 7 birlik :.....

2 onluk + 4 birlik:.....



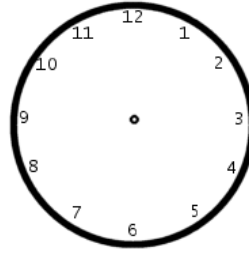
Birinci sıradaki hayvanın adı nedir ?:

Kanguru kaçınıcı sıradadır:.....

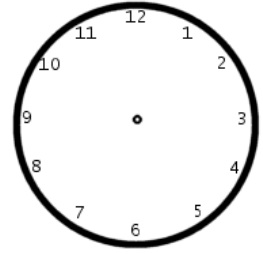
Kartal köpeği geçerse kaçınıcı olur?...

Kartal üçüncüyü geçerse kaçınıcı olur?...

Aşağıdaki saatleri ayarlayınız?



Saat: 10.30



Saat: 5.00

$$\begin{array}{r} 8 \\ + \square \\ \hline 12 \end{array} \quad \begin{array}{r} \square \\ + 6 \\ \hline 15 \end{array} \quad \begin{array}{r} \square \\ - 4 \\ \hline 13 \end{array}$$

| TEMMUZ    |   |   |    |    |    |    |
|-----------|---|---|----|----|----|----|
| Pazartesi |   | 3 | 10 | 17 | 24 | 31 |
| Salı      |   | 4 | 11 | 18 | 25 |    |
| Çarşamba  |   | 5 | 12 | 19 | 26 |    |
| Perşembe  |   | 6 | 13 | 20 | 27 |    |
| Cuma      |   | 7 | 14 | 21 | 28 |    |
| Cumartesi | 1 | 8 | 15 | 22 | 29 |    |
| Pazar     | 2 | 9 | 16 | 23 | 30 |    |

7 Temmuz hangi güne gelmektedir?.....

18 Temmuz hangi güne gelmektedir?.....

Salı gününden önce hangi gün var?

## PROPLEMLER

1). İsa'nın 17 cevizi var. Cevizlerin 5 tanesini yedi, 3 tane de arkadaşına verdi. İsa'nın kaç cevizi kalır?

2) Eylül'ün 12 TL parası var. Babası da 4 TL para verdi. Parasının 7 TL' si ile kitap aldı. Eylül'ün kaç TL parası kalır?

3) Yağmur 'un 7 tane muz var. Aklima'nın muzları ,Yağmur'un muzundan 4 fazla. Yağmur ve Aklima'nın muzları toplamı kaç ?

5) Bir sınıfta 8 kız öğrenci var. Kızlardan 3 fazla erkek öğrenci var. Sınıfta kaç öğrenci var?

6) Yusuf un 8 tane çileği var. Annesi de çilek verince 14 çileği oluyor. Annesi Yusuf'a kaç çilek verdi?

7) Gülduru 4 tane şeker yiyince , 8 tane şekeri kalıyor. Gülduru'nun yemeden önce kaç şekeri vardı?

8) Ali'nin 13 tane simiti var. Simitlerin bir kısmını satınca 5 tane simiti kaldı. Ali kaç simit sattı ?

9) Sahra 8 yaşında.Sahra 4 yıl sonra kaç yaşında olur?