


Adı-SOYADI:.....




6 yarım kavun kaç tane tüm kavun eder?



12 yarı armut kaç tane tüm armut eder?



Yarısını boya boyayınız




Tümünü boyayınız


Aşağıdaki saatleri okuyunuz.



Aşağıdaki saatleri ayarlayınız.



Saat 8.00



Saat 4.00


Aşağıdaki saatleri okuyunuz.



Aşağıdaki saatleri ayarlayınız.



Saat 10.30



Saat 2.30