

ÇÖPLER NEREYE GİDER?



Ege ve ailesi akşam yemeğini yemişlerdi. Ege annesine yardım etmek istedi. Sofrayı toplayan annesi çöpü dışarı çıkarabileceğini söyledi. Ege çöp poşetini dışarı çıkardı. Tam o sırada belediyenin büyük çöp kamyonu geldi.

Ege merakla kamyonu incelerken "Bunca çöp ne olacak acaba?" diye düşündü. Eve girip ellerini yıkadı ve babasının yanına gelerek "Babacığım çöp kamyonlarıyla toplanan çöplere ne oluyor?" diye sordu.

Babası başını okşadı ve anlatmaya başladı: Belediye araçlarının topladığı çöpler, çöp sahalarına toplanır. Bir kısmı yakılır, bir kısmı gömülür, bir kısmı da depolanır. Ancak bu işlemleri yapmak havaya, suya ve toprağa zarar verebilir. Çevreye zarar vermemek için hepimizin daha az çöp çıkarmayı ve geri dönüşümü öğrenmesi gerekir. Peki sen geri dönüşüm nedir biliyor musun Ege?" diye sordu.



Aşağıdaki soruları metne göre yanıtlayınız.

1-Ege annesine nasıl yardım etti?

2-Ege babasına ne sordu?

3-Belediye araçları ile toplanan çöpler ne yapılır?

4-Çevreye zarar vermemek için neyi öğrenmemiz gerekir?



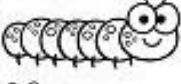







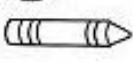









5- Resimde gördüğünüz çocuk ne yapıyor? Ona ne söylemek isterdiniz?.....

Kutulardaki harflerle sözcük oluşturun.

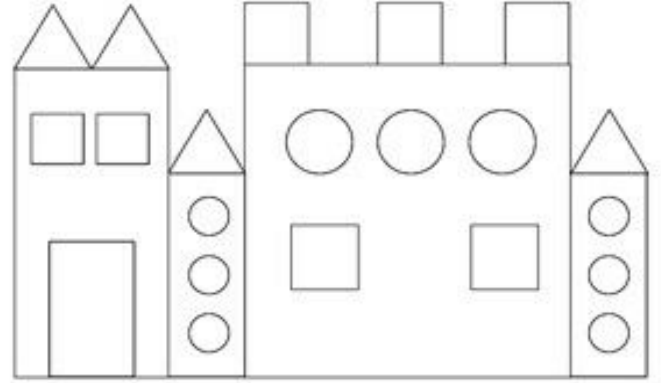


Varlıkları uzundan kısaya sıralayın

1	2		4	
1				
3				
2			5	
				
				
3			6	
				
				

Kaç tane?

Üçgen:..... Çember:.....
Dikdörtgen:..... Kare:.....




Üçgenleri mavi, çemberleri sarı, dikdörtgenleri mor, kareleri yeşil boyayın.

Toplananlardan biri verilmediğinde toplamdan verilen toplanan çıkarılır.



5 + <input type="text"/> = 16	<input type="text"/> + 9 = 14
<input type="text"/> + 8 = 19	8 + <input type="text"/> = 13
4 + <input type="text"/> = 20	<input type="text"/> + 6 = 18
<input type="text"/> + 6 = 19	0 + <input type="text"/> = 16
7 + <input type="text"/> = 17	<input type="text"/> + 1 = 24
<input type="text"/> + 4 = 12	5 + <input type="text"/> = 12
9 + <input type="text"/> = 18	<input type="text"/> + 4 = 15
<input type="text"/> + 5 = 19	9 + <input type="text"/> = 11
2 + <input type="text"/> = 20	<input type="text"/> + 6 = 19

Yarıya bölünmüş olanların yarısını boy



Hangi sayı bu?

