

## YAŞADIĞIMIZ YER.

Hepimizin yaşadığı bir yer var. Kimimiz köyde, kimimiz ilçede, kimimiz de ilde yaşıyoruz.

Az sayıda insanın yaşadığı, daha çok tarım ve hayvancılıkla uğraşan en küçük yerleşim yerine köy, köyden büyük yerleşim yerlerine de kasaba denir.

Evimizin yakınlarındaki evler birleşerek mahalleyi, mahalleler birleşerek semtleri, semtler birleşerek ilçeleri oluşturur. İlçeler birleşerek illeri, iller de ülkemizi oluşturur.

Ülkemiz bir bütündür. Ülkemizin adı Türkiye Cumhuriyeti'dir.

İlimizin adı:.....  
İlçemizin adı:.....  
Mahallemizin adı:.....  
Ülkemizin adı:.....



Aşağıdaki yerleşim yerlerini büyükten küçüğe doğru sıralayın.  
İl, köy, ilçe, ülke, mahalle

--	--	--	--	--


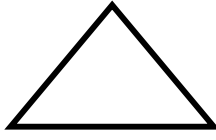
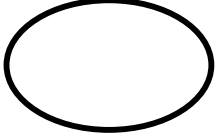
Zıt anlamlıları aynı renge boyayın, aşağıdaki tabloya yazın.



ince	kalın

Sesli harfler:.....
.....
Sessiz harfler:.....
.....

Yarısını boyayın.



Verilmeyen toplananı bulunuz.

$$\begin{array}{lll} 11 + \text{rabbit} = 15 & 17 + \text{rabbit} = 22 & 9 + \text{rabbit} = 16 \\ 7 + \text{rabbit} = 19 & 8 + \text{rabbit} = 14 & 6 + \text{rabbit} = 15 \\ 3 + \text{rabbit} = 10 & 13 + \text{rabbit} = 20 & 5 + \text{rabbit} = 16 \\ 4 + \text{rabbit} = 12 & 10 + \text{rabbit} = 18 & 13 + \text{rabbit} = 19 \end{array}$$

Topla, çıkar.

$$\begin{array}{r} \text{Three children} \\ + \frac{7}{10} + \frac{\square}{10} \\ \hline \frac{10}{10} + \frac{8}{10} - \frac{\square}{10} + \frac{3}{10} \\ \hline \frac{4}{10} + \frac{\square}{10} - \frac{9}{10} + \frac{\square}{10} \end{array}$$

onluk	birlik	onluk	birlik	onluk	birlik	onluk	birlik	onluk	birlik	onluk	birlik	onluk	birlik	onluk	birlik	onluk	birlik
1	6	1	4	1	2	1	3	1	5	1	4	1	1	1	0	1	0
	8		9		8		8		9		5		4		8		
-		-		-		-		-		-		-		-		-	

Problemleri deftere yazın ve çözün.

- 1- 12 sayısının 7 fazlası kaçtır?
- 2- Eksilen 14, çıkan 5 ise fark kaçtır?
- 3- Bir raftaki 16 tabağın 7 tanesini yıkadık 2 tanesi kırıldı. Rafta kaç tabak kaldı?
- 4- Yaren'in 12 cevizi var. Faruk'un Yaren' den 5 fazla cevizi var. İkisinin toplam kaç cevizi vardır?
- 5- Bir ağaçta 2 sincap, 8 ağaçkakan ve 5 tane serçe vardır. Ağaçta toplam kaç hayvan vardır?

1	+	1	=
2	+	2	=
3	+	3	=
4	+	4	=
5	+	5	=
6	+	6	=
7	+	7	=
8	+	8	=
9	+	9	=
10	+	10	=