



Adı ve soyadı:

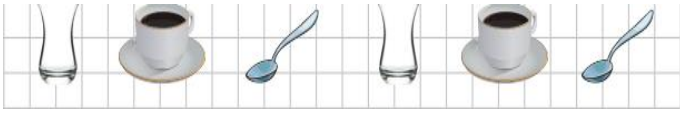
1. Aşağıda verilen örüntülerin kuralını yazınız.



Kural:



Kural:



Kural:

2. Aşağıda verilen örüntüleri kuralına uygun devam ettiriniz.



3. Aşağıda verilen geometrik şekillerle ilgili bilgileri tamamlayınız.

Şekiller	Köşe Sayısı	Kenar Sayısı

2. DÖNEM MATEMATİK DENEME
SINAVI 7

4. Aşağıdaki takvim sorularını yanıtlayınız.

ŞUBAT - 2018						
P.tesi	Salı	Çarş.	Perş.	Cuma	C.tesi	Pazar
			1	2	3	4
5	6	7	8	9	10	11
12	13	14	15	16	17	18
19	20	21	22	23	24	25
26	27	28				

Bu hangi ayın takvim yaprağıdır?

.....

Şubat ayı kaç gündür?

.....

Şubat son günü hangi gündür?

.....

Şubatin ilk günü hangi gündür?

.....

5. Aşağıdaki gün ve ay sıralamasında eksikleri tamamlayınız.

Önceki ay	Bu ay	Sonraki ay
	Mart	

Önceki ay	Bu ay	Sonraki ay
		Haziran

Dün	Bugün	Yarın
	Salı	

Dün	Bugün	Yarın
		Pazar

iki buçuk

8 yarım bütün eder.

$$\begin{array}{r} 15 \\ + 4 \\ \hline \end{array} \quad \begin{array}{r} 17 \\ - 8 \\ \hline \end{array} \quad \begin{array}{r} 9 \\ + 8 \\ \hline \end{array} \quad \begin{array}{r} 13 \\ - 6 \\ \hline \end{array} \quad \begin{array}{r} \boxed{} \\ + 9 \\ \hline 15 \end{array}$$

.....



.....



.....

A blank grid consisting of 4 rows and 10 columns of squares, intended for drawing a picture.

[illegible]

KONTROL ETMEYİ UNUTMA...

