

23 NİSAN

23 Nisan, Ulusal Egemenlik ve Çocuk Bayramı'dır.



Birinci Dünya Savaşı sonunda düşmanlar yurdu-
muza girmişti. Mustafa Kemal Türk ulusunu Kurtuluş
Savaşı'na çağırdı. Erzurum ve Sivas'ta toplantılar yaptı. Düşmana karşı
durmak isteyen herkesi bir araya getirdi. 23 Nisan bin dokuz yüz
yirmide, Ankara'da Millet Meclisi'ni topladı. Atatürk, 23 Nisan gününü
Ulusal Egemenlik ve Çocuk Bayramı yaptı. 23 Nisan, dünyanın ilk çocuk
bayramıdır.

Bayramlar bütün ulusun bir arada olduğu özel günlerdir. Her yıl 23
Nisan gününü büyük bir coşkuyla kutlarız.

Bu güzel ülkede, özgür bir biçimde yaşamamızı sağlayan, coşkuyla
kutladığımız bayramlar hediye eden Atatürk'ü saygı ve sevgi ile anıyoruz.

Aşağıdaki soruları metne göre yanıtlayınız.

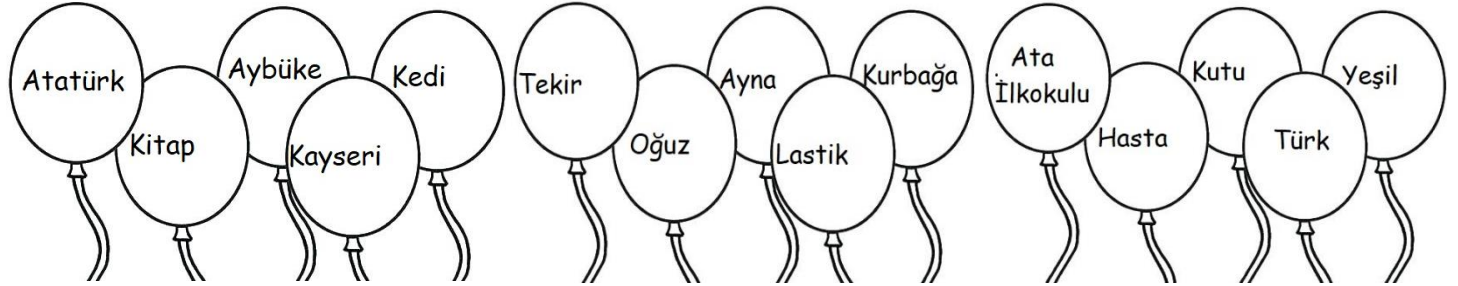
1- Düşmanlar ne zaman yurdumuza girmişti?

2- Mustafa Kemal ve arkadaşları nerede toplantılar yaptı?


3- Türkiye Büyük Millet Meclisi ne zaman , nerede açıldı?

4- Her yıl 23 Nisan'da hangi bayramı kutluyoruz?

Özel adların yazılı olduğu balonları kırmızı, tür adlarını sarı boyayın.





Elmaların üstüne özel adlar yazın.










$7 + \square = 12$	$\square + 4 = 10$
$\square + 9 = 10$	$10 + \square = 13$
$3 + \square = 14$	$\square + 8 = 11$
$\square + 6 = 8$	$0 + \square = 12$
$7 + \square = 16$	$\square + 9 = 14$
$\square + 2 = 18$	$9 + \square = 20$

$14 - 2 = \underline{\hspace{1cm}}$	$16 - 1 = \underline{\hspace{1cm}}$	$16 - 3 = \underline{\hspace{1cm}}$
$11 - 1 = \underline{\hspace{1cm}}$	$18 - 6 = \underline{\hspace{1cm}}$	$18 - 5 = \underline{\hspace{1cm}}$
$16 - 6 = \underline{\hspace{1cm}}$	$12 - 1 = \underline{\hspace{1cm}}$	$15 - 1 = \underline{\hspace{1cm}}$
$19 - 1 = \underline{\hspace{1cm}}$	$17 - 7 = \underline{\hspace{1cm}}$	$19 - 4 = \underline{\hspace{1cm}}$
$14 - 4 = \underline{\hspace{1cm}}$	$17 - 4 = \underline{\hspace{1cm}}$	$17 - 1 = \underline{\hspace{1cm}}$
$13 - 3 = \underline{\hspace{1cm}}$	$17 - 2 = \underline{\hspace{1cm}}$	$15 - 5 = \underline{\hspace{1cm}}$



Toplayalım 	
$4 + 4 =$	$2 + 2 =$
$9 + 9 =$	$7 + 7 =$
$5 + 5 =$	$1 + 1 =$
$3 + 3 =$	$0 + 0 =$
$8 + 8 =$	$10 + 10 =$
$6 + 6 =$	$7 + 7 =$
$1 + 1 =$	$5 + 5 =$

Kayıp sayıları bulup, kutulara yazalım.							
1	2	3		5	6	7	
9	10	11	12		14	15	16
	18	19		21	22	23	
25		27	28	29		31	32
33	34		36	37	38		40
	<input type="text"/>		<input type="text"/>		<input type="text"/>		<input type="text"/>
	<input type="text"/>		<input type="text"/>		<input type="text"/>		<input type="text"/>

	=			=				
1 bütün		2 yarım,		4	çeyrek eder.			
2 bütün	yarım eder.		2 bütün	çeyrek eder.		
4 bütün	yarım eder.		2 yarım	çeyrek eder.		
6 yarım	bütün eder.		8 çeyrek	bütün eder.		