

MATEMATİK TEKRAR ÇALIŞMASI 1



$\begin{array}{r} 1 \\ + 61 \\ \hline \end{array}$	$\begin{array}{r} 93 \\ - 7 \\ \hline \end{array}$	$\begin{array}{r} \\ + 2 \\ \hline \end{array}$	$\begin{array}{r} 90 \\ - 46 \\ \hline \end{array}$	$\begin{array}{r} 86 \\ - 40 \\ \hline \end{array}$	$\begin{array}{r} 59 \\ - 52 \\ \hline \end{array}$
....	96
$\begin{array}{r} \\ + 11 \\ \hline \end{array}$	$\begin{array}{r} 23 \\ + 68 \\ \hline \end{array}$	$\begin{array}{r} \\ + 2 \\ \hline \end{array}$	$\begin{array}{r} 5 \\ + \\ \hline \end{array}$	$\begin{array}{r} 98 \\ - 76 \\ \hline \end{array}$	$\begin{array}{r} 64 \\ + \\ \hline \end{array}$
93	22	9	72

En yakın onlukları boyayın.

53	16	32	14
50	60	10	20
30	40	10	20

"<",">","=" işaretlerinden uygun olanı yazın.

71 19	53 78	86 86
38 31	85 11	88 30

Sayıları küçükten büyüğe sıralayın. (Sembolle)

44, 33, 13, 74, 91

59

Basamak Adı

Basamak Değeri



$$10 - = 4 + 3$$

$$5 + 7 = 15 -$$

$$4 + 12 = + 3$$

$$9 - 5 = + 1$$

Gerçek Sonuç	Tahmin	Fark
33 + 34=....		
33 + 18=....		

Gerçek Sonuç	Tahmin	Fark
44 - 14=....		
58 - 44=....		

1) Tarık 26 yaşındadır. Muhammed, Tarık'dan 13 yaş büyüktür. Buna göre Muhammed 1 yıl önce kaç yaşındaydı?

2) Ömer'in 4 düzine kitabı vardı. Ömer kitaplarının 27 tanesini kaybetti. Ömer'in kaç tane kitabı kalmıştır?

MATEMATİK TEKRAR ÇALIŞMASI 2

Verilen sayıların okunuşlarını yazınız.

Verilen sayıları rakamlarla yazınız.

62.....

yetmiş dokuz.....

19.....

on dört.....

57.....




yetmiş iki.....



Aşağıdaki toplama ve çıkarma işlemlerini zihinden yapınız.

10 + 25 =	80 - 10 =	50 - 30 =	11 + 22 =
11 + 11 =	70 - 30 =	90 - 60 =	11 + 13 =

Kutuların altına bilyelerin kaç onluk ve kaç birlikten oluştuğunu yazınız.



..... onluk + birlik

..... onluk + birlik

..... onluk + birlik

Üçer ritmik sayarken 5. söylediğimiz sayı kaçtır?

Üçer ritmik sayarken 2. söylediğimiz sayı kaçtır?

Beşer ritmik sayarken 8. söylediğimiz sayı kaçtır?

İkişer ritmik sayarken 7. söylediğimiz sayı kaçtır?

44, 40, 36, 32, 28, örüntüsünü devam ettirdiğinizde hangi sayıya ulaşırız?

19, 24, 29, 34, 39, örüntüsünü devam ettirdiğinizde hangi sayıya ulaşırız?

64, 69, 74, 79, 86, 89 örüntüsünü bozan sayı hangisidir?

