




DESTE VE DÜZİNE NEDİR?

Deste: Aynı türden 10 tane varlığın oluşturduğu topluluğa **1 deste** denir.



On tane kalem 1 **deste** eder.

1.)İki destede kaç kalem vardır?

1.)İki destede tane kalem vardır.

Önemli

Aynı tür 10 varlık bir deste eder. Buna dikkat edelim.



8 tane kitap, 2 tane çiçek ile bir deste oluşturamayız.

2.)İki deste kalemin 5 tanesini arkadaşşıma verdim kaç kalemim kaldı?

3.) 2 destenin içinde kaç birlik vardır?

DÜZİNE

Aynı türden 12 tane varlığın oluşturduğu topluluğa **1 düzine** denir.



Bir düzine balon 12 tanedir.

Aynı tür varlıkların bir düzine oluşturduğuna dikkat edelim.

1) İki düzine kalemin 4 tanesini arkadaşşıma verdim kaç kalemim kaldı?

Öğrendiklerimizi hatırlayalım :

- ❖ Aynı türden 10 varlığa **deste**, 12 varlığa ise **düzine** denir.
- ❖ 9 tane kitap ile 1 tane defter 1 deste **olmaz**. Çünkü varlıkların **türleri** aynı değildir.

**DESTE VE DÜZİNE**

1) Aşağıdaki anahtarların **bir destesini** boyayınız.




2) Aşağıdaki topları **düzineye** tamamlayınız.




3) Aşağıdaki yıldızların **iki destesini** boyayınız



Aşağıdaki kutuya bir **deste** olacak şekilde varlık çiziniz



Aşağıdaki kutuya bir **düzine** olacak şekilde varlık çiziniz.



4) Bir vazoda iki desteden 5 eksik çiçek vardır. Bu vazoda kaç çiçek vardır?

5) Bir kırtasiyeci aldığı iki deste silginin 7 tanesini satmıştır. Satması gereken kaç silgi kalmıştır?

6) Annem bana iki deste balon aldı. Dedem de 4 tane balon aldı. Toplam kaç balonum oldu?

7) 8 deftere kaç defter daha eklersek **bir düzine** defter eder?

8) 6 tane bilyeyi bir desteye tamamlamak için kaç bilyeye ihtiyacımız vardır?

9) İki düzine defterin 4 fazlası kaç defterdir?