

ADI SOYADI:  
SINIFI NO:


**-SUGÖREN ORTAOKULU-**  
T.C. İnkılap Tarihi ve Atatürkçülük-  
Sosyal Bilgiler Hazırlık Testleri

PUAN:

**1-)**  
**Aşağıdakilerden hangisi, Reform hareketlerinin sonuçlarından biri değildir?**

A) Eğitim kurumlarının kilisenin kontrolünden çıkması  
B) Katolik kilisesinin kendini yenilemesi  
C) Avrupa'da mezhep birliğinin bozulması  
D) Avrupa'da sanat ve edebiyattan zevk alan bir sınıfın ortaya çıkması

**2-)**



Kristof Kolomb

**Yukarıda verilen kişi ile ilgili, aşağıdakilerden hangisi söylenebilir?**

A) Dünya turu yapmıştır.  
B) Amerika Kıtası'nın keşifidir.  
C) Ümit Burnu'nu keşfetmiştir.  
D) Yeni ticaret yolları bulmuştur.


**3-)**  
**XV. yüzyılda Coğrafi Keşifler yapan insanların aşağıdakilerin hangisinden yararlandıkları söylenemez?**

A) Pusula  
B) Harita  
C) Yelkenli  
D) Barut

**4-)**  
**Aşağıdakilerden hangisinin Avrupalıların yeni kıtalar ve ülkeler keşfetmelerinde etkisi olduğu söylenemez?**

A) Pusulanın kullanılmaya başlanması  
B) Yönetimde yeni siyasi anlayışların doğması  
C) Coğrafi bilgilerin artması  
D) Gemicilik teknolojisinin gelişmesi

**5-)**




Shyma

**Aşağıdakilerden hangisi Shyma'nın bu sorusuna doğru bir yanıt olur?**

A) Coğrafi bilgilerini geliştirmek  
B) Doğunun zenginliklerine ulaşacak yeni ticaret yolları bulmak  
C) Dinlerini daha geniş alanlara yaymak  
D) Farklı kültürlerle etkileşime girmek

**6-)**



Avrupalı devletler keşfettikleri yerleri egemenlikleri altına alarak sömürge imparatorlukları kurdular. Buralardan bol miktarda altın, gümüş gibi değerli madenler ve çeşitli ham maddeler Avrupa'ya taşındı ve böylece sermaye arttı. Keşifleri destekleyen Avrupa'nın denizci ülkeleri kısa sürede zenginleşti.

**Bu parçada, Coğrafi Keşiflerin aşağıdaki alanların hangisindeki sonucuna vurgu yapılmıştır?**

A) Ekonomik  
B) Siyasi  
C) Dini  
D) Kültürel


**7-)**  
**Aşağıdakilerden hangisi Coğrafi Keşifler için söylenemez?**

A) Okyanuslar hakkında birçok yeni bilgi edinildi.  
B) Avrupa ülkeleri zenginleşti.  
C) Kiliseye olan güven azaldı.  
D) Akdeniz ticareti canlandı.

**8-)**  
**Aşağıdakilerden hangisi Coğrafi Keşiflerin sonuçlarından biri değildir?**

A) Doğu-batı ticaret yollarının yön değişmesi  
B) Coğrafi bilgilerin ve tecrübelerin artması  
C) Avrupalı devletlerin sömürge imparatorlukları kurması  
D) Kilise ve din adamlarına olan güvenin artması

**9-)**



XV. ve XVI. yüzyılda Avrupa'da meydana gelen yenilik ve gelişmelere "Rönesans" adı verildi.

**Aşağıdakilerden hangisi Rönesansın doğmasında etkili olan etkenlerden biri değildir?**

A) Eski Yunan ve Roma uygarlıklarına ait eserlerin incelenmesi  
B) Avrupa'da sanatı seven ve sanatçıları koruyan bir sınıfın ortaya çıkması  
C) Kağıt ve matbaanın bilginin hızla yayılmasına neden olması  
D) Hristiyanlıkta yeni mezheplerin ortaya çıkması

**10-)**

OLAY	SONUCU
Coğrafi Keşifler	Yeni ticaret yollarının bulunması
Reform	Kiliseye güvenin azalması
Rönesans	.....?.....

Yukarıdaki tabloda 15. ve 16. yüzyıllar arasında Avrupa'da yaşanan gelişmelere ait olay ve sonuçları eşleştirilerek verilmiştir.

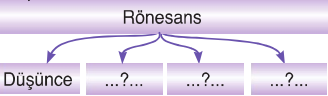
**Verilen eşleştirme tablosunda "?" ile belirtilen yere, aşağıdakilerden hangisi yazılmalıdır?**

A) Milliyetçilik hareketlerinin başlaması  
B) İşçi sınıfının ortaya çıkması  
C) Gözlem ve deneye dayalı bilginin önem kazanması  
D) Kol gücünün yerini makine gücünün alması

**11-)**  
**Aşağıdakilerin hangisinde bir Rönesans Dönemi'nde yetişen bilim insanı, bilime katkısıyla yanlış eşleştirilmiştir?**

A) Leonarda da Vinci – Mühendislik  
B) Michelangelo – Heykeltıraş  
C) Montaigne – Astronomi  
D) Shakespear – Edebiyat

**12-)**



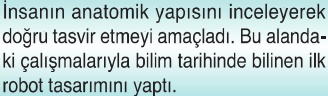
**Yukarıdaki kavram haritasında boş bırakılan yerlere (...?...) aşağıdakilerden hangisi yazılamaz?**

A) Edebiyat  
B) Ticaret  
C) Güzel sanatlar  
D) Bilim

**13-)**  
**Rönesansla ilgili olarak aşağıdakilerden hangisi söylenemez?**

A) İnsanların dünya görüşü değişmiştir.  
B) Edebiyat, güzel sanatlar ve bilim alanında önemli gelişmeler olmuştur.  
C) Monarşik devletler yıkılmıştır.  
D) Hümanizm akımı doğmuştur.

**14-)**



İnsanın anatomik yapısını inceleyerek doğru tasvir etmeyi amaçladı. Bu alandaki çalışmalarıyla bilim tarihinde bilinen ilk robot tasarımı yaptı.

**Yukarıda bilime katkıları verilen bu bilim insanı aşağıdakilerden hangisidir?**

A) Da Vinci  
B) Luther  
C) Shakespear  
D) Montaigne

**15-)**  
**Aşağıdakilerden hangisi Orta Çağ Avrupa'sında kilise ve din adamlarına olan güveni sarsan etkenlerden biri değildir?**

A) Haçlı Seferleri'ndeki başarısızlık  
B) Coğrafi Keşiflerle elde edilen bilgiler  
C) Bilim, edebiyat ve güzel sanatlar alanlarındaki gelişmeler  
D) Sanayi Devrimi'nin etkileri


**16-)**  
**XVI. yüzyılda Reform Hareketleri aşağıdaki ülkelerin hangisinde başlamıştır?**

A) İngiltere  
B) Fransa  
C) Almanya  
D) İtalya

**17-)**  
**Aşağıdakilerden hangisi Coğrafi Keşiflerin sonuçlarından biri değildir?**

A) Avrupa'da burjuva adı verilen yeni bir sosyal sınıfın oluşması  
B) Osmanlı ekonomisinde büyük kayıpların yaşanması  
C) Sömürge imparatorluklarının ortaya çıkması  
D) Ulus devleti anlayışının yaygınlaşması

**18-)**



Suna

Rönesans Dönemi düşünceyi dinin baskısından kurtarıp özgürleştirmişti. Özgür düşünce aydınların ve din adamlarının, kilise uygulamalarını değerlendirip eleştirme-ye başlamasına yol açmıştı.

**Suna, aşağıdakilerden hangisiyle ilgili bilgi vermiştir?**

A) Coğrafi Keşifler  
B) Reform  
C) Sanayi Devrimi  
D) Fransız İhtilali

**19-)**  
**Aşağıdakilerden hangisi Reform hareketlerinin başlamasında etkili olan faktörlerden biri değildir?**

A) Matbaanın icat edilmesiyle çok sayıda İncil'in basılması ve birçok dile çevrilmesi  
B) Doğu-batı ticaret yollarının değişmesi  
C) Düşünceler ve inançlar üzerinde büyük baskının olması  
D) Kilise ve din adamlarının dini kendi çıkarları için kullanmaları





**20-)**  
**Reformla ilgili olarak aşağıdakilerden hangisi söylenemez?**

A) Yeniden şekil vermek anlamına gelir.  
B) Katolik kilisesini aslına döndürmek amacıyla yapılan değişiklik ve düzenlemelerdir.  
C) Avrupa'da düşünceyi ve gelişmeyi engelleyen dinî etkenler ortadan kalkmıştır.  
D) Avrupa'da meydana gelen edebiyat, kültür, görsel sanatlar, bilim, düşünce alanlarındaki gelişmelerdir.

**21-)**  
**Aşağıdakilerden hangisi Reform hareketleri sonucu ortaya çıkan yeni mezheplerden biri değildir?**

A) Protestanlık  
B) Katolik  
C) Anglikanizm  
D) Kalvenizim

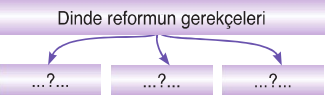
**22-)**  
**Reform hareketlerinin sonuçlarıyla ilgili aşağıdaki öğrencilerden hangisinin yarısı yanlıştır?**

A)  Yeni mezhepler ortaya çıkmıştır.  
B)  Kilise ve din adamlarının saygınlığı artmıştır.  
C)  Eğitim ve öğretim kilisinin elinden alınmıştır.  
D)  Laik bir devlet ve toplum düzeninin temelleri atılmıştır.

**23-)**  
**Aşağıdakilerden hangisi Reform hareketlerinin başlamasına öncülük etmiştir?**

A) Martin Luther  
B) Descartes  
C) Da Vinci  
D) Rousseau


**24-)**



**Yukarıdaki kavram haritasında boş bırakılan yerlere (...?...) aşağıdakilerden hangisi yazılamaz?**

A) Yeni mezheplerin ortaya çıkması  
B) Orta Çağ boyunca Katolik kilisesinin amacından uzaklaşması  
C) Din adamlarının rahat ve zengin yaşamına karşın halkın oldukça yoksullaşması  
D) Hristiyanlıktaki bazı inançların yanlışlığının anlaşılması

**"Biz her şeyi gençliğe bırakacağız... Geleceğin ümidi, ışıklı çiçekleri onlardır. Bütün ümidim gençliktedir."**



ADI SOYADI:  
SINIFI NO:

**-SUGÖREN ORTAOKULU-**  
T.C. İnkılap Tarihi ve Atatürkçülük-  
Sosyal Bilgiler Hazırlık Testleri

PUAN:

1-) ..... yeniden doğuş anlamına gelirken; .....II..... yenilik, düzenleme anlamına gelmektedir.  
Yukarıdaki cümlede boş bırakılan yerlere aşağıdakilerden hangisi yazılmalıdır?

I	II
A) Rönesans	Reform
B) Mesen	Calvenizm
C) Reform	Protestanlık
D) Hümanizm	Rönesans

2-) Aşağıdakilerden hangisi Orta Çağ'da Katolik kilisesinin siyasi bir güç olduğunu kanıtlar?

A) Krallara taç giydirmeleri

B) Geniş topraklara sahip olmaları

C) Günahları affetmeleri

D) Dinî törenler düzenlemeleri

3-) ? .....

Avrupalıların Doğu ülkelerinin zenginliklerine doğrudan ulaşabilmek için yeni ticaret yolları aramaları

Pusulanın geliştirilmesiyle açık denizlerde yön bulmanın kolaylaşması

Ticaretin gelişmesiyle birlikte altın ve gümüş gibi değerli madenlere ihtiyaç duyulması

Avrupa'nın Hristiyanlık dinini yaymak istemesi

Şemada "?" ile boş bırakılan yere aşağıdakilerden hangisi yazılmalıdır?

A) Rönesans Hareketinin Sebepleri

B) Sanayi İnkılabı'nın Nedenleri

C) Coğrafi Keşiflerin Nedenleri

D) Reform Hareketinin Sebepleri

4-) KEŞİF  
Ümit Burnu → Bartelmi Diaz  
Amerika Kıtası → Ameriko Vespuçi  
Dünyanın Yuvarlaklığı → .....?  
Eşleştirme tablosunda "?" ile boş bırakılan yere aşağıdakilerden hangisi yazılmalıdır?

A) Vasko dö Gama

B) Martin Luther

C) Kristof Kolomb

D) Macellan ve Del Kano

5-) İspanya adına sefere çıkan .....Atlas Okyanusu'na açılarak Amerika kıtasını keşfetti. Ancak .....burasını Hindistan zannetmiş, daha sonra aynı yolu takip eden İtalyan denizci Ameriko Vespuçi, buranın yeni bir kıta olduğunu anlamıştır. Bu yüzden yeni kıtaya onun adı verilerek Amerika denilmiştir.

6-) Parçada "?" ile boş bırakılan yerlere aşağıdakilerden hangisi yazılmalıdır?

A) Bartelmi Diaz

B) Vasko dö Gama

C) Macellan

D) Kristof Kolomb

7-) Aşağıdakilerden hangisi Rönesansın nedenleri arasında yer almaz?

A) Eski Yunan ve Roma kültürüne ait eserlerin incelenmesi.

B) İstanbul'dan kaçan bili adamlarının İtalya'ya gitmeleri.

C) Burjuvaların bilim ve sanat adamlarını desteklemesi.

D) Bilim, sanat ve edebiyatın gelişmesi

8-) 16. yüzyılda Avrupa'da din alanında yaşanan gelişmelere reform denilmiştir. Reform, yeniden düzenleme anlamına gelmektedir. Yukarıda bahsedilen Reform ilk olarak aşağıdaki ülkelerden hangisine başlamıştır?

A) İtalya

B) Almanya

C) İngiltere

D) Fransa

8-) ?  
Hep batıya giderek Çin ve Hindistan'a ulaşma düşüncesiyle çıktığım yolculukta Amerika'ya ulaştım. Ancak buranın yeni bir kıta olduğunu anlayamadım.

Yukarıdaki konuşmayı yapan kişi aşağıdakilerden hangisidir?

A) Barteleme Diaz

B) Kristof Kolomp

C) Piri Reis

D) Macellan

9-) Dünya'nın Güneş etrafında döndüğünü söylediği için ömür boyu hapse mahkûm edilen bilim insanı

Galileo

Coğrafi Keşifleri kolaylaştıran, gemicilerin yön bulmasını sağlayan alet

Pusula

Avrupa'da insan gücünün yerini makinelerin almasını sağlayan olay

.....?.....

Hristiyanlığın Katolik mezhebinde görülen yenilik hareketi

Reform

Verilen eşleştirme tablosundaki boş yer, aşağıdakilerden hangisiyle tamamlanmalıdır?

A) Coğrafi Keşifler

B) Sanayi Devrimi

C) Fransız İhtilali

D) Aydınlanma Çağı

10-) Rönesans'ın sonucunda kiliseye duyulan güvenin sarsılması aşağıdaki gelişmelerden hangisini beraberinde getirmiştir?

A) Coğrafi Keşifleri

B) Fransız İhtilali'ni

C) Sanayi Devrimi'ni

D) Reform Hareketlerini

11-) Yeni Çağ'da Avrupa'da meydana gelen;

▲ → Rönesans

● → Reform

■ → Coğrafi Keşifler

gelişmelerinin oluş sırası aşağıdakilerden hangisinde doğru olarak verilmiştir?

A) ▲ ● ■ B) ● ▲ ■

C) ■ ▲ ● D) ■ ● ▲

12-) .....?.....

16. yüzyıl boyunca tüm Avrupa'yı etkileyen dinsel bir harekettir. Bu hareket Katolik Kilisesi'nin aşırı zenginleşmesi ve yozlaşmasına karşı gelişmiş ve Hristiyanlığın en büyük üç mezhebinden Protestanlığın oluşmasını sağlamıştır.

Yukarıda verilen açıklamaya en uygun başlık aşağıdakilerden hangisi olur?

A) Skolastik Düşünce

B) Magna Charta

C) Reform

D) Rönesans

13-) Avrupa'da 15 ve 16. yüzyılda düşünce, edebiyat ve sanat alanında yaşanan gelişmelere Rönesans denir. Rönesans'ın temelini Roma ve Yunan kültürü oluşturmaktadır.

Bu bilgilere göre, aşağıdakilerden hangisi söylenemez?

A) Rönesans'ın, düşünce, sanat ve edebiyat alanında bir gelişme olduğu

B) Rönesans'ın Avrupa'da 15 ve 16. yüzyılda başladığı

C) Rönesans'ın Roma ve Yunan kültüründen etkilendiği

D) Osmanlı Devleti'nin Rönesans hareketine öncülük ettiği

14-) \* Buharlı motorun icadıyla başladı.

\* Üretim teknolojisini değiştirdiği gibi ulaşım ve ticareti de etkiledi.

Parçada özellikleri verilen gelişme aşağıdakilerden hangisidir?

A) Rönesans

B) Reform

C) Sanayi Devrimi

D) Coğrafi Keşifler

15-) Sevgili öğrenciler; Bilim ve teknikteki ilerlemeler .....doğurdu. El tezgahları yerini kömür, petrol, su gücüyle çalışan fabrikalara bıraktı. İç pazarları doyum noktasına gelen ülkelerde, dış pazarlara açılma başladı. Bu durum da sömürgecilik anlayışını ortaya çıkarmıştır.

Rönesans'ı Reform'u Coğrafi Keşifleri

Ali Rıza Seçkin

Sosyal bilgiler öğretmeninin anlatımında boş bırakılan yeri yukarıdaki öğrencilerden hangisinin ifadesi tamamlamaktadır?

A) Ali B) Seçkin

C) Senem D) Rıza

16-) ?  
Matbaanın öğrenilmesi kağıdın ucuzlaması  
Coğrafi Keşiflerden sonra zenginleşen Avrupa'da sanat ve edebiyattan zevk alan "Mesen" sınıfının ortaya çıkması  
İstanbul'un fethinden sonra İtalya'ya giden bilgilerin Bizans ve Roma dönemine ait eserleri tanıtması

Şemada "?" ile boş bırakılan yere aşağıdakilerden hangisi yazılmalıdır?

A) Kavimler Göçünün

B) Rönesans Hareketinin Nedenleri

C) Türklerin İslamiyet'i Seçmesinin Sonuçları

D) Coğrafi Keşiflerin Sonuçları

17-) \* Avrupa'da yeni mezhepler ortaya çıktı.

\* Ticaret yolları yön değiştirdi.

\* Buharlı lokomotifle ticarette taşıyan yükün miktarı arttı.

Verilen sonuçlar aşağıdaki gelişmeler ile eşleştirildiğinde hangi gelişme boşa kalır?

A) Coğrafi Keşifler

B) Rönesans

C) Reform

D) Sanayi Devrimi

18-) ▲ İnsan vücudu ve tabiat olaylarıyla ilgili araştırmalar yapılmaya başlanmıştır.

■ Katolik mezhebi parçalanarak Protestanlık, Kalvenizm, Anglikanizm gibi yeni mezhepler ortaya çıkmıştır.

★ Avrupa devletleri arasında sömürgecilik yarışının hızlanmasına, I. Dünya Savaşı'nın başlamasına neden olmuştur.

Yukarıda sembollerle verilen bilgilerin ilgili oldukları gelişmelerle doğru eleştirildiği seçenek aşağıdakilerden hangisidir?

	▲	■	★
A) Reform	Sanayi İnkılabı	Rönesans	
B) Rönesans	Reform	Sanayi İnkılabı	
C) Sanayi İnkılabı	Reform	Rönesans	
D) Rönesans	Sanayi İnkılabı	Reform	

19-) Osmanlı Devleti'nin Coğrafi Keşiflerden olumsuz etkileneşinin nedenleri arasında aşağıdakilerden hangisi gösterilemez?

A) Osmanlının keşiflere katılmaması

B) İpek ve Baharat yollarının önem kazanması

C) Ticaret yollarının yön değiştirmesi

D) Osmanlının para değerinin düşmesi

20-) Reform Hareketleri sonrasında Avrupa'da Katolik Mezhebi parçalandı, mezhep savaşları başladı. Bu durum Osmanlı Devleti'ni olumlu yönde etkiledi. Çünkü .....?.....

Yukarıda yarım bırakılan cümle aşağıdakilerden hangisi ile tamamlanmaz?

A) Osmanlı Devleti üzerine bir süre Haçlı Seferleri düzenlenemedi.

B) Mezhep mücadeleleri Osmanlı'nın Avrupa'daki ilerleyişini kolaylaştırdı.

C) Avrupa'nın din baskısından kurtulmasını ve bilimsel gelişmelerin hızlanmasını sağladı.

D) Avrupa'daki iç çekişmeler Osmanlıların savaştığı Avrupalı devletleri zayıf düşürdü.

"Biz her şeyi gençliğe bırakacağız... Geleceğin ümidi, ışıkl çiçekleri onlardır. Bütün ümidim gençliktedir."