

ADI-SOYADI:.....

NO:.....

SINIFI:.....

PUANI:.....

1) Aşağıdakilerden hangisi 7'şer azalan örüntüye örnektir?

- a) 1.004-1.097-1.090-1.092
- b) 10.100-10.093-10.086-10.079
- c) 100.101-100.086-100.079-100.072
- d) 11.009-10.002-9.995-9.988

2) Aşağıdakilerden hangisi 7'şer artan örüntüye örnektir?

- a) 1.004-1.011-1.1019-10.026
- b) 10.100-10.107-10.114-10.122
- c) 100.101-10.108-10.015-10.022
- d) 11.009-11.018-11.025-11.032

3) 127-142-134-149-141 örüntüsünün kuralı nedir?

- a) 12'şer artıp 7'şer azalır.
- b) 11'er artıp'er azalır.
- c) 14'er azalıp, 7'şer artar.
- d) 15'er artıp, 8'er azalır.

4) Hangisi 9'ar azalıp 6'şar artan örüntüye örnektir?

- a) 1.000-991-997-988-994-982
- a) 653-644-650-641-647-638-644
- c) 10.002-10.013-10.019-10.010
- d) 6.712-6.703-6.709-6.700-6.709


5) 701-695-698-692-


Yukarıdaki örüntünün kuralı hangisidir?


- a) 7'şer azalıp, 5'er artar
- b) 6'şar azalıp, 4'er artar
- c) 6'şar azalıp, 3'er artar
- d) 7'şer azalıp, 6'şar artar

6) Salı gününden sonra 22 gün izin alan memur, hangi gün işbaşı yapar?

- a) çarşamba
- b) cuma
- c) perşembe
- d) salı

7)  Şekildeki ok sola doğru 45 derecelik açılarla döndürülürse 5. dönüşte hangi konumda olur?

- a) 
- b) 
- c) 
- d) 

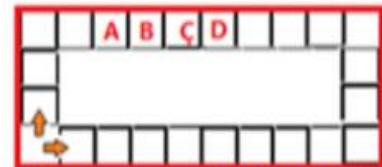
8)  Şekildeki ok, saat yönünde 30° lik açılarla döndürülürse kaçınıcı dönüşte şu anki konumuna gelir?

- a) 12
- b) 8
- c) 6
- d) 10

9) Kasım 2018'de 52 aylığına kredi çeken aile, ilk taksidi kasım ayında yatırırsa son taksidi ne zaman yatırır?

- a) ocak 2022
- b) şubat 2022
- c) ocak 2023
- d) şubat 2023

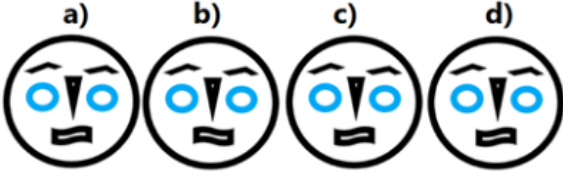
10)



Yukarıdaki parkın sol alt köşesinde bulunan iki kişiden biri yukarı, diğeri sağa ok yönünde koşuyorlar. Sağa doğru koşanın hızı diğerrinin 3 katı ise bu iki kişi hangi noktada ilk kez karşılaşırlar?

- a) A
- b) B
- c) C
- d) D

11) Aşağıdaki şekillerden hangisi farklıdır?



12) 15-19-23-27-31- ...

Yukarıdaki örüntünün 71. sayısı hangisidir?

- a)198 b)205 c)175 d)195


13)



Yukarıdaki şekillerden aynı sıralamada bir örüntü oluşturursak 80. şekil hangisi olur?

- a) X b) ♥ c) ○ d) ⬡

14)



Ali, Ayşe ve Can'ın ilk olarak ortak söyledikleri sayı hangisidir?

- a)34 b)60 c)40 d)48

15)



Ceren, grip olunca doktorun recetesine uyarak 45'er dakika aralıklarla ilacını içip iyi olmuş. İlk ilacını 08.20'de aldığına göre son ilacı ne zaman içmiştir? (5. ilaç ne zaman içilmiştir?)

- a)12.05 b)12.00 c)11.45 d)11.20

16)



Eylül ile Zeyşan körebe oyunu oynuyorlar. Eylül, 500'den geriye doğru 7'şer sayma yaparken 53. sayıda duruyor. Eylül'ün son söylediği sayı hangisidir?

- a)136 b)234 c)186 d)210



O.ÇABUK