

TATİLLE İLGİLİ SORULAR

1. Tatilde gezmeye nereye gittin?

.....
.....

2. Hangi oyunları oynadın?

.....
.....
.....

3. Oyunları kimlerle oynadın?

.....
.....

4. Okulu özledin mi? En çok ne yapmayı özledin?

.....
.....

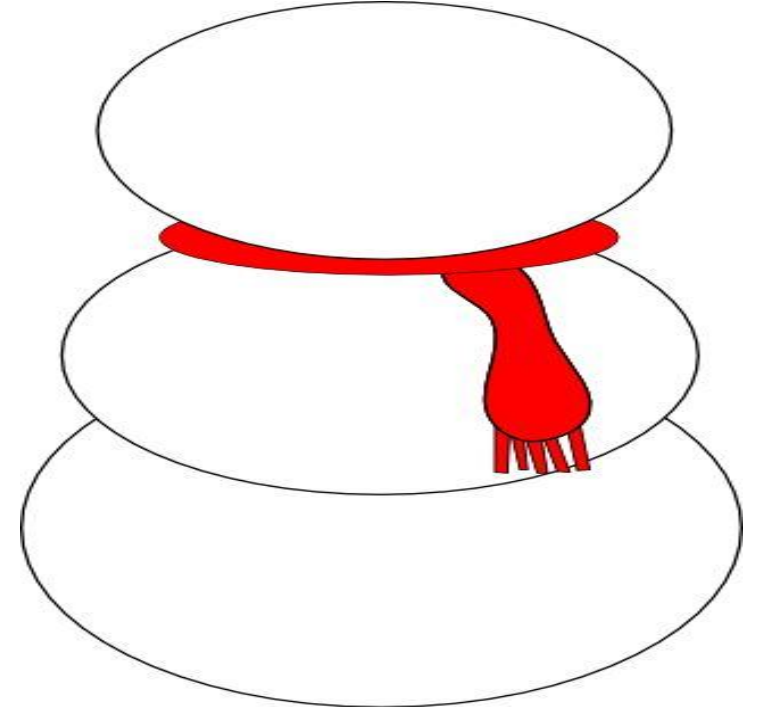
5. Nasıl bir tatil hayal ederdin?

.....
.....
.....
.....
.....
.....
.....
.....
.....
.....

2018 - 2019 EĞİTİM ÖĞRETİM YILI

3.SINIFLAR YARI TATİL KİTABI

Ad,Soyad:.....




Kardan adamı tamamlar mısın?

MANTIK PROBLEMLERİ

- 1- Okul kütüphanemizdeki kitapları düzenliyoruz. Her rafa 32 kitap sığabiliyor. Hikâye kitaplarını ilk rafa dizdiğimizde 14 kitap artıyor. Masal kitaplarını ikinci rafa dizdiğimizde de 5 kitaplık yer artıyor. Bizim kaç kitabımız var?

- 2- Selin, beş yıl sonraki doğum gününde ehliyetini alabileceği yaşa gelmiş olacak. Ehliyetini aldıktan beş yıl sonrada üniversiteden mezun olmayı planlıyor. Selin'in planlarına göre kaç yaşında üniversiteden mezun olmuş olur?



Görselleri inceleyerek, yaşanan olayı yazalım. Noktalama işaretlerine ve yazım kurallarına uyalım.

SORULARI CEVAPLAYALIM

1. Dünyamızın katmanlarını içten dışa doğru sıralayarak yazalım.

.....

.....

.....

2. Duyu organlarımız nelerdir?

.....

.....

.....

3. Hareket türlerini yazalım.

.....

.....

.....

4. Kuvvet nedir? İtme ve çekme kuvvetlerine birer örnek verelim.

.....

.....

.....

5. Doğada varlıklar maddenin hangi hallerinde bulunurlar?

.....

.....

.....

6. Karanlıkta neden göremeyiz? Açıklayalım.

.....

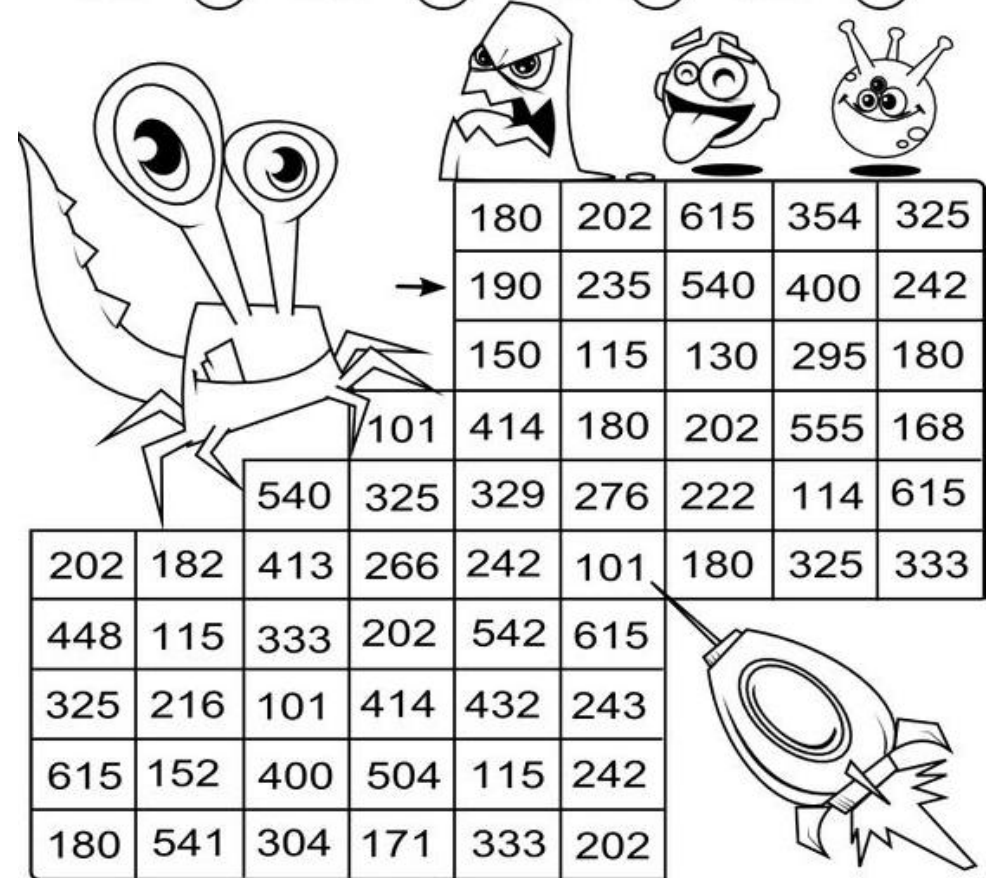
.....

.....

Çarpma İşlemlerini Yapalım


Sonuçlara göre yengecin yolunu boyyalım.

$38 \times 5 =$ ○	$47 \times 5 =$ ○	$26 \times 5 =$ ○	$59 \times 5 =$ ○
$28 \times 6 =$ ○	$19 \times 6 =$ ○	$37 \times 6 =$ ○	$46 \times 6 =$ ○
$47 \times 7 =$ ○	$38 \times 7 =$ ○	$59 \times 7 =$ ○	$26 \times 7 =$ ○
$56 \times 8 =$ ○	$27 \times 8 =$ ○	$19 \times 8 =$ ○	$38 \times 8 =$ ○
$19 \times 9 =$ ○	$56 \times 9 =$ ○	$48 \times 9 =$ ○	$27 \times 9 =$ ○



180	202	615	354	325				
190	235	540	400	242				
150	115	130	295	180				
101	414	180	202	555	168			
540	325	329	276	222	114	615		
202	182	413	266	242	101	180	325	333
448	115	333	202	542	615			
325	216	101	414	432	243			
615	152	400	504	115	242			
180	541	304	171	333	202			

BOYAYALIM



Şiiri defterine
yazmayı
unutma😊

Şiiri ezberleyerek, tatil dönüşünde
sınıfta arkadaşlarına okur musun?

TATİL OLUNCA

Okullar tatil olunca,

Özlerim okulumu.

Arkadaşlarımdan ayrılınca,

Yalnız oynarım oyunumu.

Arkadaşlarım, öğretmenlerim,

Her birini çok severim.

Tatilde ailemleken bile

Ben onları özlerim.

Bilirim tatil bir ihtiyaç,

İnsan dinlenmeye de muhtaç.

Yine de okulum eğlenceli,

Bekle beni, kapılarını aç.

Funda Menekşe

DİLBİLGİSİ ÇALIŞMALARI 1

Verilen kelimeleri hecelerine ayırarak yazalım.

Battaniye

Oduncuların

Kurtlarla

Verilen kelimeleri sözlük sırasına göre sıralayalım.

Gül- çam- sümbül- gürgen- karanfil- sedir- salkımsöğüt- çınar

Aşağıdaki kelimelerden somut anlamlı olanların altındaki kutuyu kırmızı, soyut olanların altındaki kutuyu yeşil boyayalım.

MASA

SANDALYE

RÜYA

YORGAN

MUTLULUK

HÜZÜN


BEŞİK

RADYO

Karışık verilen kelimelerle anlamlı cümleler yazalım.

- geldiğinde- tatil- özlerim- okulumu
-
- bize- tatilde- dayımlar- geleceklerdi- bu
-
- Katmanı-nefes- olmasaydı-hava- alamazdık
-

Toplamaları Yapalım




A. $177 + 248$	B. $295 + 258$	C. $388 + 122$
D. $267 + 355$	E. $374 + 478$	F. $299 + 157$
G. $182 + 189$	H. $358 + 552$	I. $485 + 196$
J. $472 + 349$	K. $546 + 184$	L. $398 + 382$

Her sırada bulduğumuz sonuçları büyükten küçüğe sıralayalım.

1.
2.
3.
4.

Hızımızı Ölçüyoruz

Çarpma işlemlerini yaparken süre turalım. Kaç dakikada bittiğini yazalım.



28×6	26×5	32×3	134×4	16×8	19×9	14×2
32×7	46×8				53×5	58×5
96×6	48×5				46×10	59×10
29×7	32×8				31×10	37×5
36×7	45×5				36×9	51×7
46×3	36×5	49×6	36×7	42×8	56×7	35×8

Süre:..... dakika.

DİLBİLGİSİ ÇALIŞMALARI 2



Kelimelerin eş anlamlılarını yanına yazalım.

Vatan =	Konuk=.....
Anı=.....	Konut=.....
Hekim=.....	Pabuç=.....
Sürat=.....	Surat=.....
Fakir=.....	Sene=.....
İsim=.....	Merasim=.....

Kelimelerin zıt anlamlılarını yazalım

sert x	ince x
düzenli x	yakın x
tümsek x	karanlık x
cimri x	ödül x
kirli x	tenha x
çalışkan x	evli x
ilk x	önce x



GÜZEL HEDİYE

Elif ve İbrahim birbirleriyle çok iyi anlaşılan iki kardeşti. Birlikte oynamaktan çok hoşlanırlardı.

Okullar tatil olduğunda dayıları ailesi ile birlikte onlara misafirliğe geldi. Çocuklar kuzenleri olan Kenan'ı çok seviyorlardı. Dayıları onlara çok güzel bir hediye getirmişti. Çocuklar hediyeyi görünce mutluluktan çığlık attılar.

Ertesi gün hep birlikte bir buz pistine gittiler. Hediyeleri çok işe yaramıştı. Tüm gün zevkle kayarak, eğlendiler.

1- Metinde geçen olay ne zaman yaşanmıştır?

.....

2- Elif ve İbrahim'e ne hediye gelmiş olabilir?

.....

3- Çocuklar hediyeyi görünce nasıl tepki verdiler?

.....

4- Siz hiç buz pateni yaptınız mı ya da kızakla kaydınız mı?

.....

.....

.....

HAYATIN İÇİNDEN BİLGİLER

Tatilde gittiğin bir yeri bize kroki çizerek tarif edebilir misin?

- Aşağıdaki meslek sahipleri ile çalışma alanlarını eşleştirelim.



iletişim

sağlık

Hizmet
sektörü

Eğitim

güvenlik

Siz ileride hangi mesleği yapmak istiyorsunuz? Neden?

.....

.....

MATEMATİK ZAMANI

- Verilen sayıların okunuşunu yazalım.

154:

360:

108:

927:

- Sayıları büyükten küçüğe doğru > işareti kullanarak sıralayalım.

545, 531, 290, 648 :

207, 287, 770, 537:

- Verilen sayılardan bir önce ve bir sonra gelen sayıları yazalım.

..... 278 352 760

- Sayıları onluk ve birliklerine ayırarak yazalım.

667: yüzlük+ birlik + onluk

952: + +

Sayılar tek ise başına T, çift ise başına Ç harfini yazalım.

(.....) 263 (.....) 627 (.....) 506 (.....) 201 (.....) 155

(.....) 380 (.....) 114 (.....) 597 (.....) 728 (.....) 342

- Sayıları en yakın yüzlüğe yuvarlayalım.

168 ←

551 ←

289 ←

150 ←

329 ←

781 ←



Uzayda bir yaşam merkezi kuracak
olsan nasıl bir yer olurdu?

[illegible]

Bir oyuncak icat
edecek olsan nasıl bir
oyuncak olurdu?


.....

.....

.....

.....

Okula akşamları geliyor
olsaydık nasıl olurdu?

[illegible]

Bu gezegenleri hayaline
qöre boya ve isim ver.



Problem1er

1- Bir otel 24 katlıdır. Otelin her katında 16 oda vardır. Odalardan 145'i dolu ise boş oda sayısı kaçtır. ?

A blank, lined notebook with a spiral binding in the center. The pages are white with light blue horizontal ruling. The notebook is open, showing two pages.


2- Üç basamaklı en büyük çift sayının 249 eksiği nedir?

An open notebook with two blank, lined pages. The pages are white with light blue horizontal ruling. The notebook has a dark green cover visible around the edges. The binding is visible in the center crease.

3- Ayla 15 yaşındadır. Annesinin yaşı Ayla'nın yaşının 3 katından 9 fazladır. Ayla ile annesinin yaşları toplamı kaçtır?

EĞLENCE ZAMANI

İki resim arasındaki 7 farkı bulalım.



Bir ülkenin başkanı olacak olsaydınız, ülkeniz için neler yapardınız?

[illegible]

OKURUM, ANLATIRIM, YAZARIM

Tatilde okuduğun kitaplardan biri ile ilgili kavram haritası ve özet çalışması yapalım.

Beğendiğin bir kısmın resmini çiz.

Olayın geçtiği zaman:

.....

Olayın geçtiği yer:

.....


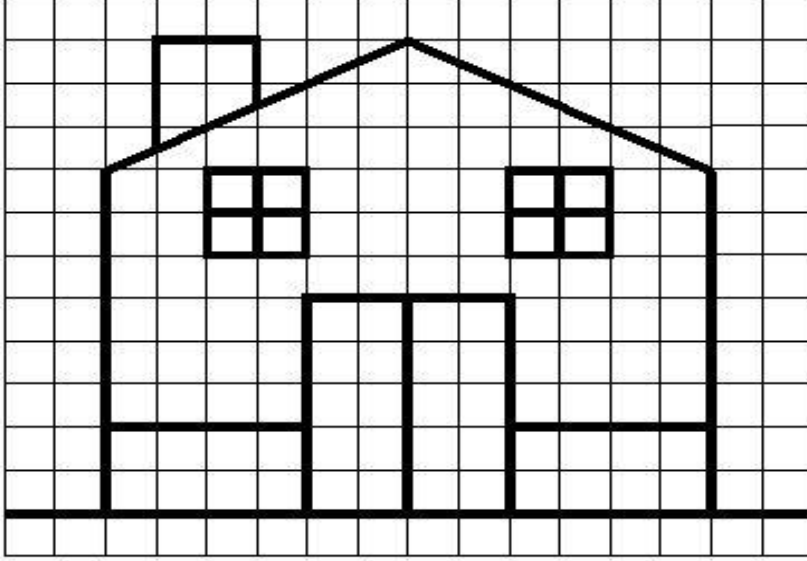
Olayın kahramanları kimlerdi?

Kitabımı Özetliyorum

[illegible]

.....

Tıpatıp aynıSını Çizebilirim



Problemleri defterimizde çözüp sonuçları buraya yazalım.

- 1- Her koliye 35 kutu meyve suyu konuldu. 21 koli hazırlandığına göre kaç kutu meyve suyu kolilenmiştir? (.....)
- 2- Aysun'un 135 lirası var. Ablasının kumbarasında ise Aysun'un parasının 7 katı para birikmiş. Ablasının kaç lirası vardır? (.....)
- 3- Bir çiftlikte 12 koyun, 27 tavuk var. Bu hayvanların ayak sayıları toplamı kaçtır? (.....)
- 4- Selim 16 yaşında ve Yaşar'ın yaşı Selim'in yaşının 5 katından 4 eksiktir. Selim ve Yaşar'ın yaşları toplamı kaçtır? (.....)
- 5- Bir trende 9 adet vagon bulunmaktadır. Her bir vagona ise 47 yolcu vardır. Bu trene 65 yolcu daha binmiştir. Trende son durumda kaç yolcu olmuştur? (.....)
- 6- 23 sayısının 9 katının 51 eksiği kaçtır? (.....)
- 7- Bir fırıncı 650 tane ekmek yaptı. Sabah 150 tane ve akşam ise sabah sattığının 2 katı kadar ekmek sattı. Bu fırıncının kaç tane ekmeği kalmıştır? (.....)
- 8- Her gün 150 soru çözen Ali, bir haftada kaç soru çözmüş olur? (.....)
- 9- 600 koyunun 329 tanesi satıldı. Geriye kalan koyunların 123 tanesini de hayır kurumlarına verdiler. Geriye kaç koyun kaldı? (.....)
- 10- 85 deste gülün 15 düzinesi kurudu. Geriye kaç adet gül kaldı? (.....)