



Köyün çobanı, mısır tarlasının ya-
 nındaki tek katlı evde oturuyordu.

1. Murat'ın cümlesinde aşağıdaki öykü
 unsurlarından hangisi yoktur?

- A. karakter B. zaman C. yer

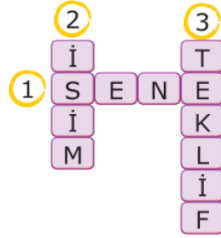
Bu elbise seni çok zayıf gösterdi.

2. Cümledeki altı çizili sözcüğün zıt
 anlamlısı hangi seçenekte verilmiştir?



3. Yandaki bulmacada
 verilen sözcüklerden
 hangisinin eş anlamlısı
 seçeneklerde yoktur?

- A. rica B. yıl C. ad



1. ***Ödevini ilk bitiren Şerife oldu.***

2. ***Üç arkadaş ödev yapmaya karar
 verdi.***

3. ***Ödevlerini bitirince oyun oynama
 başladılar.***

4. ***Daha sonra diğerlerini bitirdi.***

4. Yukarıdaki cümlelerin oluş sırasına göre
 doğru sıralanışı hangi seçenekte
 verilmiştir?

- A. 1 -2 -3 -4 B. 2 -1 -3 -4
 C. 2 -1 -4 -3

5. Verilen görselle ilgili şiir
 yazılırsa, şiirin konusu
 hangisi olamaz?

- A. Güneş
 B. Gece
 C. Ay ve Yıldızlar

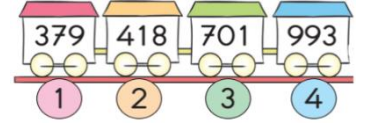


.....: ***Güvenliği sağlamakla görevli kişilerin
 bulunduğu yapı.***

6. Yukarıda açıklaması verilen kelime
 hangisidir?

- A. karakol B. müfreze
 C. süngü

7. Hangi vagondaki
 sayılar tek sayıdır?



- A. 1 -2 -3 B. 2 -3 -4 C. 1 -3 -4

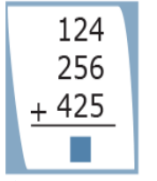
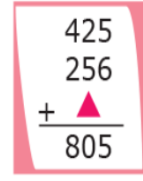
8. Yandaki çıkarma işlemine
 göre " $\triangle + \square + \bullet$ " işleminin
 sonucu kaçtır?

- A. 13 B. 14 C. 15



9. Yandaki işlemlerde
 \triangle ve \square ile gösterilen
 yerlere hangi sayılar
 yazılmalıdır?

- A. $\triangle = 124$ B. $\triangle = 805$ C. $\triangle = 123$
 $\square = 805$ $\square = 124$ $\square = 806$



10. Aşağıdakilerden hangisi yanlıştır?

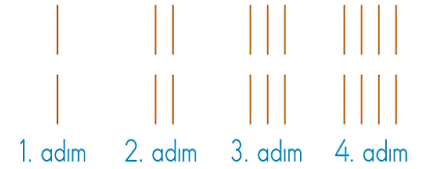
- A. X ve V rakamlarının sağına yazılanlar
 toplanarak okunur.
 B. Romen rakamlarının en küçüğü I'dir.
 C. Romen rakamlarıyla yirmi sayısı XXV
 şeklinde yazılır.

11. **655 > > 458** sıralamasında boş
 bırakılan yere yazılabilecek **en büyük** ve **en
 küçük** doğal sayılar hangisidir?

- A. B. C.
En büyük 654 656 654
En küçük 457 457 459

12. Yandaki
 örüntünün 8.
 adımında kaç
 çubuk kullanılır?

- A. 14 B. 16 C. 18



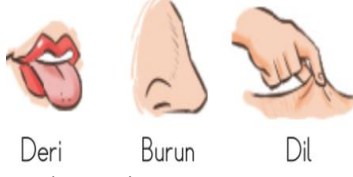
13. Aşağıdaki çıkarma işlemlerinden
 hangisi yanlıştır?

- A. $\begin{array}{r} 425 \\ - 216 \\ \hline 209 \end{array}$ B. $\begin{array}{r} 541 \\ - 326 \\ \hline 215 \end{array}$ C. $\begin{array}{r} 634 \\ - 207 \\ \hline 428 \end{array}$

14. Aşağıdakilerden hangisi göz sağlığımızı korumak için kullanılan eşyalardandır?



Orhan, fen bilimleri çalışma kağıdında bulunan duyu organları resimlerinin altına adlarını yazıyor.



15. Orhan, hangi iki duyu organını karıştırmıştır?

- A. deri-burun B. deri-dil C. dil-burun



① ② ③

16. Yukarıdaki yerlerden hangileri kulak sağlığımız için uygun bir yer değildir?

- A. 1 -2-3 B. 2-3 C. 1 -2

17. Vücudumuzun **en büyük** duyu organı hangisidir?

- A. deri B. kulak C. dil

I. Ellerimizi bol suyla sık sık yıkamalıyız.

II. Kişisel bakımımıza dikkat etmeliyiz.

III. Düzenli banyo yapmalıyız.

18. Yukarıda verilen ifadelerden hangisi deri yoluyla bulaşabilecek hastalıklardan korunma yollarıdır?

- A. Yalnız I B. I ve II C. I-II-III

19. Dünya'nın tabakaları ve ilgili olduğu meslek eşleştirmelerinden hangisi yanlıştır?

- A. Hava Tabakası → Pilot
B. Kara Tabakası → Kaptan
C. Su Tabakası → Dalgıç

20. Aşağıdakilerden hangisi okul ortamında yapılan demokratik uygulamalardan biri değildir?

- A. Dilekçe yazma
B. Tehdit etme
C. Dilek kutusu oluşturma

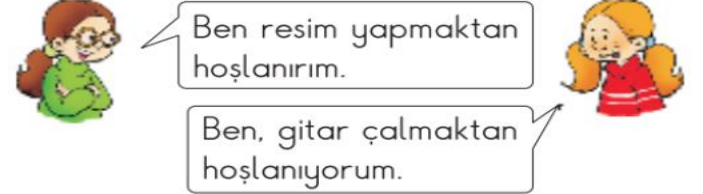
Emir : Okulda nezaket kurallarına uygun olarak kendimi ifade ederim.

Tuba : Tembel öğrencilerin sosyal etkinliklere katılmasına karşıyım.

Efe : Okul ile ilgili şikayetlerimi dilekçe yazarak belirtirim.

21. Yukarıdaki öğrencilerden hangisinin düşüncesi yanlıştır?

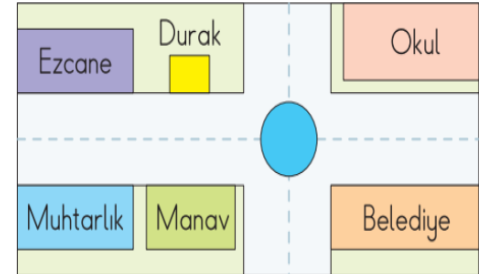
- A. Tuba B. Efe C. Emir



22. Öğrencilerin söylediklerinden hangi sonuç çıkarılmaz?

- A. Arkadaşlarımızla özelliklerimiz benze-meyebilir.
B. Bizimle aynı şeyleri yapmaktan hoşlanmayan arkadaşlarımızla anlaş-mayız.
C. Arkadaşlarımız arasındaki benzerlik ve farklılıklar doğaldır.

Krokiye göre Pınar, okuldan çıkıp durağa doğru yürüyor.



23. Buna göre hangisi Pınar'ın sol tarafında yer alır?

- A. Eczane B. Manav C. Okul

Dilşat, arkadaşları tarafından çok sevilen bir öğrencidir.

24. Buna göre aşağıdakilerden hangisi Dilşat'ın özelliklerinden biri olamaz?

- A. Bencil B. Dürüst C. Sabırlı

25. Aşağıdakilerden hangisi okulun faydalarından biri değildir?

- A. Yardımlaşmayı öğretir.
B. Ayrımcılığı öğretir.
C. Kendimize güveni artırır.