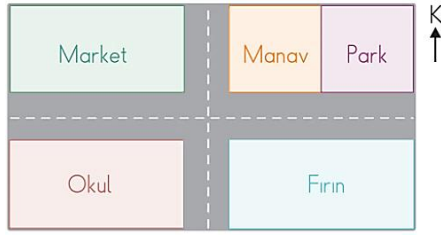




14. Yandaki krokiye göre manavın doğusunda ne vardır?



- A) Market B) Park C) Fırın

15. Tabloya göre Nil ve Melda'nın benzer özellikleri nelerdir?

Sevdikleri			
	Ders	Yemek	Spor
Nil	Matematik	Salata	Tenis
Melda	Türkçe	Çorba	Tenis

- A) Ders B) Yemek C) Tenis

saygılı	hoşgörülü	bencil
dağınık	paylaşımıcı	aceleci

16. Yukarıdakilerden kaç arkadaşınızda olmasını istediğiniz özelliklerdendir?

- A) 3 B) 4 C) 5

*Kaan, okulda merdivenlerden yere düşen arkadaşı Emir'i görüyor.*

17. Kaan'ın arkadaşına karşı davranışı nasıl olmalıdır?

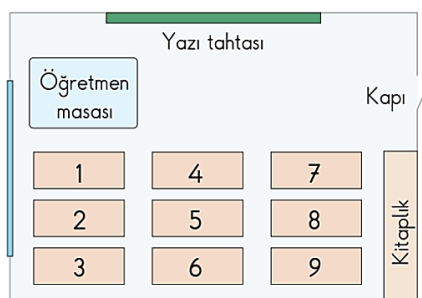
- A) Onu yerden kaldırmalı ve durumunu sormalıdır.  
B) Yardım etmeden oradan uzaklaşmalıdır.  
C) Karşısına geçip gülmelidir.

- Okumayı öğreniriz.
- ▲ Yeni bilgiler ediniriz.
- Yeni arkadaşlar ediniriz.

18. Yukarıdakilerden hangileri okulun bize kazandırdıkları ile ilgilidir?

- A) ■, ▲ B) ●, ■ C) ■, ▲, ●

19. Umut, kapı tarafında 2. sırada oturduğuna göre sırası kaç numara ile gösterilmiştir?



- A) 2 B) 8 C) 5

20. Görsellerden kaç duyu organımızdır?

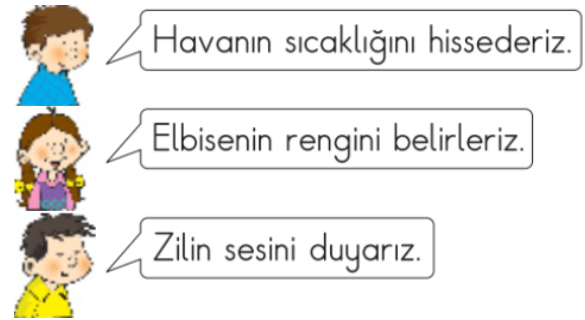
- A) 1 B) 2 C) 3



21. Murat, annesiyle sohbet ederken hangi duyu organı sayesinde kekin yandığını anlamıştır?



- A) Burun B) Göz C) Deri



22. Yukarıdaki öğrenciler hangi duyu organından söz etmemişlerdir?

- A) Deri B) Göz C) Burun

*Nezle olduğumuzda besinlerin tatlarını tam olarak algılayamayız.*

23. Bunun nedeni hangi iki duyu organımızın birbiriyle ilişkili çalışmasının kanıtıdır?

- A) Burun – Deri B) Dil – Burun  
C) Göz – Dil

24. Aşağıdaki oyunların hangisinde ebe, oyuncuları ses yardımıyla bulmaya çalışır?

- A) Körebe B) Saklambaç  
C) Mendil kapmaca



25. Kavram haritasında 1 ve 2 numaralı yerlere hangileri gelmelidir?

- A) 1 Okyanus tabakası 2 Göl tabakası  
B) 1 Toprak tabakası 2 Kaya tabakası  
C) 1 Hava tabakası 2 Kara tabakası