

3. Sınıf Matematik Yüzlüğe Yuvarlama

A. Aşağıdaki sayıları örnekteki gibi en yakın yüzlüğe yuvarlayalım.

1 35 → 1 00

1 76 →

2 21 →

4 38 →

3 64 →

1 44 →

5 69 →

2 28 →

2 80 →

9 04 →

7 89 →

3 61 →

2 56 →

1 94 →

7 71 →

4 30 →

5 43 →

1 98 →

4 38 →

3 56 →

6 91 →

1 55 →

5 03 →

7 64 →

3 57 →

4 05 →

8 36 →

6 63 →

2 07 →

4 98 →

5 90 →

7 46 →

2 57 →

3. Sınıf Matematik Yüzlüğe Yuvarlama

B. Aşağıdaki doğal sayıları örnekteki gibi en yakın yüzlüğe yuvarlayarak eşleştiriniz.

566	600
543	600
551	500
505	500

825	800
888	800
862	900
810	900

379	400
397	300
321	400
338	300

C. 200 ' e yuvarlanan sayıların altındaki kutuyu **maviye** boyayınız.

115	175	211	166	183	126	236
<input type="checkbox"/>	<input type="checkbox"/>	<input type="checkbox"/>	<input type="checkbox"/>	<input type="checkbox"/>	<input type="checkbox"/>	<input type="checkbox"/>

Ç. 400 ' e yuvarlanan sayıların altındaki kutuyu **kırmızıya** boyayınız.

404	365	440	429	486	428	444
<input type="checkbox"/>	<input type="checkbox"/>	<input type="checkbox"/>	<input type="checkbox"/>	<input type="checkbox"/>	<input type="checkbox"/>	<input type="checkbox"/>

D. 800 ' e yuvarlanan sayıların altındaki kutuyu **maviye** boyayınız.

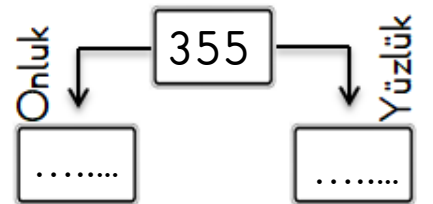
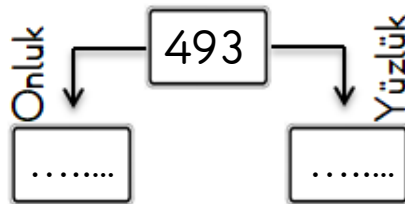
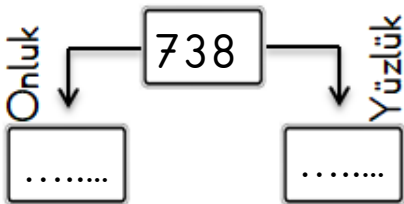
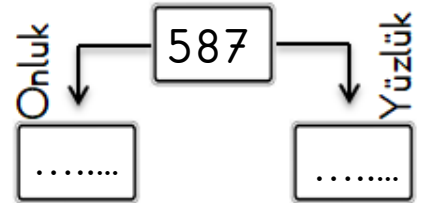
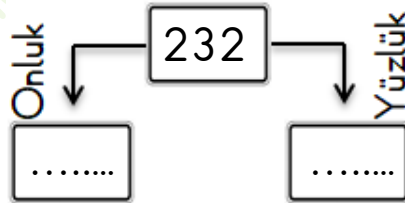
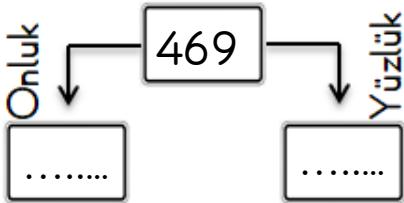
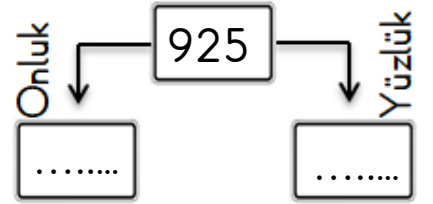
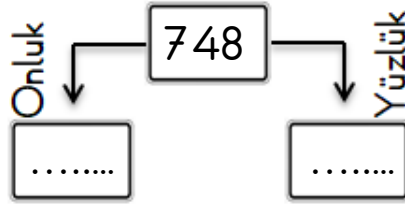
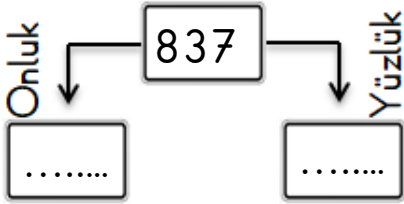
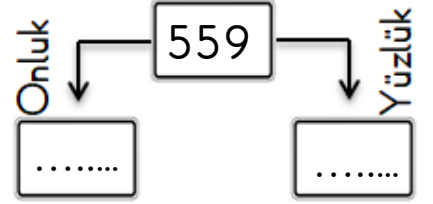
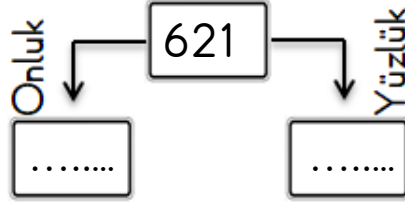
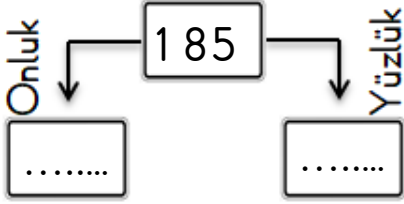
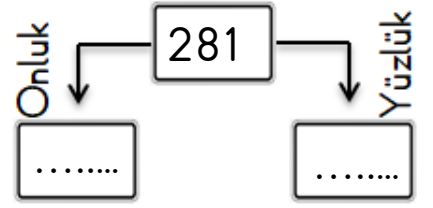
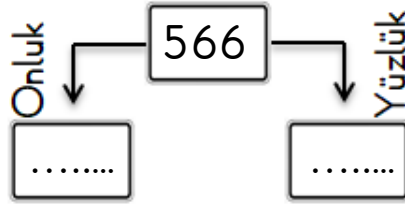
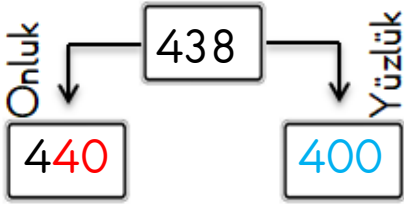
802	785	675	836	761	827	879
<input type="checkbox"/>	<input type="checkbox"/>	<input type="checkbox"/>	<input type="checkbox"/>	<input type="checkbox"/>	<input type="checkbox"/>	<input type="checkbox"/>

E. 600 ' e yuvarlanan sayıların altındaki kutuyu **kırmızıya** boyayınız.

666	613	557	633	651	678	627
<input type="checkbox"/>	<input type="checkbox"/>	<input type="checkbox"/>	<input type="checkbox"/>	<input type="checkbox"/>	<input type="checkbox"/>	<input type="checkbox"/>

3. Sınıf Matematik Yüzlüğe Yuvarlama

F. Aşağıdaki verilen sayıları örnekteki gibi en yakın **onluğa** ve **yüzlüğe** yuvarlayınız.



3. Sınıf Matematik Yüzlüğe Yuvarlama

G. Aşağıdaki verilen sayıları örnekteki gibi en yakın **onluğa** ve **yüzlüğe** yuvarlayınız.



a. En yakın onluk:

b. En yakın yüzlük:



a. En yakın onluk:

b. En yakın yüzlük:



a. En yakın onluk:

b. En yakın yüzlük:



a. En yakın onluk:

b. En yakın yüzlük:



a. En yakın onluk:

b. En yakın yüzlük:



a. En yakın onluk:

b. En yakın yüzlük:



a. En yakın onluk:

b. En yakın yüzlük:



a. En yakın onluk:

b. En yakın yüzlük:



a. En yakın onluk:

b. En yakın yüzlük:



a. En yakın onluk:

b. En yakın yüzlük:



a. En yakın onluk:

b. En yakın yüzlük:



a. En yakın onluk:

b. En yakın yüzlük:

