

Adı:	3. SINIFLAR FEN BİLİMLERİ DERSİ / / 2018
Soyadı:		PUAN:
No:		

1- Aşağıdaki açıklamalar ile duyu organlarını eşleştiriniz. (5 puan)

- | | |
|---|----------|
| (.....) İşitme duyu organımızdır. | a- Burun |
| (.....) Varlıkların ve nesnelerin kokusunu algılamamızı sağlar. | b- Göz |
| (.....) Tüm vücudu kaplar. | c- Kulak |
| (.....) Varlıkları görmemizi sağlar. | d- Deri |
| (.....) Yiyeceklerin tadını almamızı sağlar. | e- Dil |

2- Aşağıdaki cümleleri verilen kelimelerden uygun olanıyla doldurunuz. (9 puan)


*şeklini - göz - dönme - kıllar - dışarıdan - yönünü değiştirmiş -
derimiz - hızlanma - burun - çekerek - iterek*

- Vücudumuzu dış etkilere koruyarak ve varlıkları dokunarak algılamamızısağlar.
- Burunda bulunan.....koparılmamalıdır.
- A vitamini içeren havuç gibi besinler.....sağlığı için faydalıdır.
- Bisikletin tekerleği.....hareketi yapar.
- Cansız varlıklar ancak.....bir etki ile hareket ederler.
- Masa tenisi oynarken raket ile topa vurduğumuzda topunoluruz.
- Kuvvet uygulayarak bir cismin.....değiştirebiliriz.
- Bir cismi..... kendimizden uzaklaştırır,kendimize yaklaştırırız.

3- Aşağıdaki ifadelerden doğru olanların başına (D), yanlış olanların başına (Y) yazınız. (7 puan)






- (.....) Çevremizdeki varlıkların sesini gözlerimiz kapalı olsa da duyarız.
- (.....) Burnumuzla sadece güzel kokuları alırız.
- (.....) Cansız varlıklar dışarıdan bir etki olmadıkça hareket etmezler.
- (.....) Çorbanın tuzsuz olduğunu midemiz sayesinde anlarız.
- (.....) Burnumuzdaki kıllar sağlığımız için zararlıdır.
- (.....) Ay'ın Güneş etrafındaki hareketi dönme hareketidir.
- (.....) Bitkiler, hareketsiz varlıklardır.

4- Aşağıdaki resimlerde uygulanan kuvvet türlerini altlarına yazınız. (4 puan)



.....


5- Aşağıda bulunan resimlerdeki hareket türlerinin adını yazınız. (5 puan)



6- Yandaki çocuğun hareketi ile aynı olan hareket çeşidi aşağıdakilerden hangisidir? (5 puan)



7- Aşağıdaki görselde aşağıdakilerden hangisi anlatılmaktadır? (5 puan)



- A) Hareketli cisimlerin sebep olabileceği tehlikeli durumlar
- B) İki aracın birbirine çekme kuvveti uygulaması
- C) Rüzgârın itme gücünün cisimlere olan etkisi

8-



Babamla arabaya bindik. Arabayı sürmeye başladık. Lambada durmak zorunda kaldık. Işık yanınca U dönüşü yapıp devam ettik.

Yukarıda anlatılan hareketler sırası ile aşağıdakilerden hangisidir? (5 puan)

- A) hızlanma - yavaşlama - yön değiştirme
- B) hızlanma - yavaşlama - hızlanma - dönme
- C) hızlanma - yavaşlama - hızlanma - yön değiştirme

9- Kulak sağlığımız için hangisini yapmak yanlıştır? (5 puan)

- A) Kulaklarımızı soğuktan korumalıyız.
- B) Yüksek sesli ortamlarda bulunmamalıyız.
- C) Kulak zarımıza kadar kulağımızı temizlemeliyiz.

10- "Duran bir cismi hareket ettiren veya hareket halindeki bir cismi durduran etkiye denir." Bu tanımda boş bırakılan yere hangi sözcük yazılmalıdır? (5 puan)

- A) kuvvet
- B) hareket
- C) hız

11- "Can göz doktoruna gittiğinde şekilleri iyi göremedi.Bu nedenle doktor ona gözlük kullanması gerektiğini söyledi."


Buna göre Can'ın göz sağlığını kaybetmesinin nedeni hangisi olabilir? (5 puan)

- A) Kitap okurken 30 cm'lik uzaklığa dikkat etmiştir.
- B) Televizyon ve bilgisayar ekranına uzun süre yakından bakmıştır.
- C) A vitamini içeren havuç gibi besinleri bol miktarda yemiştir.

12- Dil sağlığımızı korumak için hangisini yapmamalıyız? (5 puan)

- A) Ağız temizliğine önem vermeliyiz.
- B) Çok sıcak yiyecek ve içeceklerden kaçınmalıyız.
- C) Çok soğuk yiyecekler yemeliyiz.

13-



Yasemin, bu kocaman topu hareket ettirebilmek için hangi kuvveti uygulamaktadır? (5 puan)

- A) çekme
- B) dönme
- C) itme

14- "Aşağıdaki tabloda aynı noktadan yola çıkarak hiç durmadan İstanbul'dan Ankara'ya giden bazı araçların aynı gün içinde kalkış ve varış saatleri verilmiştir. "

Araç	Kalkış Saati	Varış saati
Otomobil	09.00	15.00
Kamyon	07.00	17.00
Motosiklet	06.00	14.00


Tablodaki araçların hızlıdan yavaşa doğru sıralaması aşağıdakilerin hangisindeki gibi olur?

- A) Otomobil - Kamyon - Motosiklet (5 puan)
- B) Otomobil - Motosiklet - Kamyon
- C) Motosiklet - Kamyon - Otomobil

15- Aşağıdakilerden hangisi yanlıştır? (5 puan)

- A) Cisimlerde kuvvet uygulandığında cisimlerin şekli değişebilir.
- B) Hareketsiz bir cisim, kuvvet uygulanarak hareketlendirilebilir.
- C) Bütün cisimler, üzerine etkileyen kuvvet kaldırıldığında ilk haline döner.

16-





Sabah annemin sesi ile uyandım. Mutfaktan güzel kokular geliyordu. Koşarak mutfığa gittim. Bir de ne göreyim? Annem omlet yapmış bana...

Yukarıda anlatılan olayda hangi duyu organı kullanılmamıştır? (5 puan)
A) göz B) burun C) dil

17- Aşağıdakilerden hangisi hareketli cisimlerin sebep olabileceği tehlikeli durumlara örnektir? (5 puan)

- A) Dönen vantilatörün pervanesine dokunmak
- B) Hareket halindeki aracın kırmızı ışık yanınca durması
- C) Atılan topu tutmaya çalışmak

18- Aşağıdakilerden hangisi dışarıdan bir etki olmadan hareket edemez? (5 puan)



19- Çekmeceyi açarak içinden kalem aldıktan sonra çekmeceyi kapatan bir kişi, sırayla hangi kuvveti uygulamıştır? (5 puan)

- A) Çekme - İtme
- B) İtme - Çekme
- C) Çekme - Yön değiştirme

BAŞARILAR CANLARIM...

KONTROL ETMEYİ UNUTMA!