

ADIM SOYADIM:

..... İLKOKULU 3. SINIFLAR 2.DÖNEM NELER ÖĞRENDİM SINAVI-2

1. Aşağıdaki kelime çiftlerinden hangisi eş anlamlı kelimedir?

- A) deneyim - tecrübe
B) bağımsızlık - cumhuriyet
C) kara - toprak

2. Aşağıdaki görsellerden hangisi yorgunluğu ifade etmektedir?



.....: Söyleyeni belli duygu ve düşünceleri kısa ve öz bir biçimde anlatan sözlerdir.

3. Yukarıda açıklaması verilen kelime aşağıdakilerden hangisidir?

- A) Deyim B) Atasözü C) Özdeyiş

4. Yandaki sembolün anlamı aşağıdakilerden hangisidir?



- A) Olumsuz örnek oluşturabilecek davranışlar içerir.
B) Şiddet ve korku
C) Genel izleyici kitlesi

5. Leyla ilkokul üçüncü sınıfa gitmektedir. Leyla hangi işareti taşıyan filmi izlemelidir?

- A)  B)  C) 

6. Aşağıdakilerin hangisinde "mi" nin yazımı ile ilgili bir yanlışlık yapılmıştır?

- A) Ödevlerini zamanında yaptın mı?
B) Zil çaldı mı hemen dışarı çıkardı.
C) Hasta oldumu ağzına hiçbir şey koymaz.

7. Aşağıdaki sebzelerden hangisi yaz mevsiminde tüketilmelidir?




8. Aşağıdakilerden hangisi yanlıştır?

- A) Dengeli beslenmek sağlıklı olmamızı sağlar.
B) Besinler beden sağlığımızı güçlendirir.
C) Çok aşırı yiyerek daha sağlıklı oluruz.

9. Aşağıdakilerden hangisi mevsimi dışında yiyecekleri yemek için kullanılan bir yöntem değildir?

- A) Güneşte kurutarak saklama
B) Konserve yapma
C) Buzdolabına koyma

10. Hangi seçenekte verilen sebzelerin hepsi kış sebzesidir?



| MENÜ 1 | MENÜ 2 | MENÜ 3 |
|---|---|--|
| <ul style="list-style-type: none">• Çorba• Köfte• Pilav• Portakal suyu | <ul style="list-style-type: none">• Fırında patates• Salata• Yoğurt | <ul style="list-style-type: none">• Patates kızartması• Makarna• Ekmek• Gazoz |

11. Hangi menü sağlıklı bir öğle yemeği öğünü olamaz?

- A) Menü-1 B) Menü-2 C) Menü-3

...1... *alerjisi olan kişiler gıdaları yerken dikkatli olmalıdır.*

...2... *hastaları uzun süre aç kalmamalıdır.*

12. Yukarıdaki cümlelerde 1 ve 2 numaralı boşluklara hangi sözcüklerin yazılması uygundur?

- | | | |
|-----------|-----------|-----------|
| A) | B) | C) |
| 1 Besin | 1 Çölyak | 1 Diyabet |
| 2 Diyabet | 2 Obezite | 2 Besin |

13. İnsanlar ışık kaynaklarını hangi amaçla kullanmaktadır?

- A) haberleşme B) aydınlatma C) ulaşım

14. Canlılar çevrelerindeki varlıkları hangi durumlarda daha zor görürler?

- A) Karanlık ortamlarda
- B) Kalabalık ortamlarda
- C) Gürültülü ortamlarda

15. Işık kelimesinin anlamı hangi seçenekte doğru verilmiştir?

- A) Yanıcı maddelerin etrafa verdiği ısıya denir.
- B) Cisimleri görmemizi sağlayan fiziksel güce denir.
- C) Çevresinden aldığı enerjiyi güce çeviren varlığa denir.

16. Aşağıdakilerden hangisinin ışık verme yöntemi diğer ikisinden farklıdır?



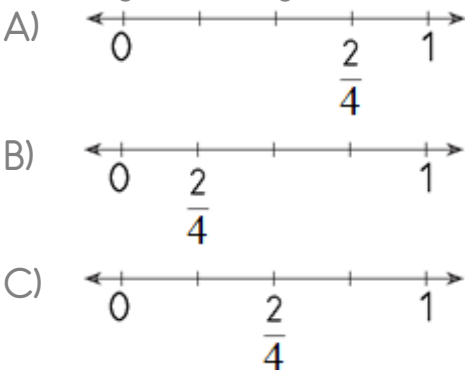
17. Hangisi günümüzde evlerimizde kullandığımız bir ışık kaynağı türüdür?



18. Hangisi enerjisi farklı bir ışık kaynağıdır?



19. $\frac{2}{4}$ kesrinin sayı doğrusu üzerinde gösterimi hangisinde doğru verilmiştir?



20. $\frac{8}{10}$ kesri kaç birim kesirden meydana gelmiştir?

- A) 7
- B) 8
- C) 9

□ Payda, bir bütünün kaç eş parçaya bölündüğünü gösterir.

□ Pay, eş parçalardan kaç tanesinin alındığını gösterir.

□ Pay, kesir çizgisinin üzerine yer alır.

21. Yukarıda verilen bilgilerin başına doğru ise "D", yanlış ise "Y" harfi yazıldığında hangi sonuç elde edilir?

- | | | |
|------|------|------|
| A) D | B) Y | C) D |
| D | Y | D |
| D | D | Y |



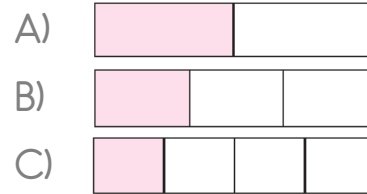
22. Yukarıda sayı doğrusu üzerinde gösterilen kesir aşağıdakilerden hangisidir?

- A) $\frac{3}{5}$
- B) $\frac{3}{6}$
- C) $\frac{4}{6}$

23. 20 balonun $\frac{1}{4}$ 'si kaç balon eder?

- A) 5
- B) 10
- C) 15

24. Aşağıdaki şekillerden hangisinin renkli kısmının kesir değeri en büyüktür?



25. Hakan 30 tane misketinin $\frac{1}{6}$ 'sini arkadaşına verdi. Hakanın kaç mizketi kaldı?

- A) 10
- B) 15
- C) 20