

ADIM SOYADIM:

..... İLKOKULU 3. SINIFLAR NELER ÖĞRENDİM SINAVI-11

1. Hangi cümlede "Ne zaman?" sorusunun cevabı vardır?

- A) Sabahleyin erkenden yürüyüşe çıktılar.
B) Annem, çantama iki muz koydu.
C) Ercan, oyuncaklarını dolaba saklamış.

2. "L, T, K, O, U, A" harfleri kullanılarak aşağıdaki kelimelerden hangisi yazılamaz?

- A) OKUL B) TOKA C) ORTAK

3. Yandaki dürtlüğe göre aile zorlukların üstesinden nasıl geliyor-muş?

Ailemiz dört kişi,
Paylaşırız her işi.
Her zorluğu yeneriz,
Mutlu yaşar gideriz.

- A) Çok para kazanarak
B) İşleri paylaşıp yaparak
C) Muhtardan yardım isteyerek

Mahallenin temizliğini sanki kendisine vazife edinmişti.

4. Cümlede altı çizili sözcüğün yerine seçeneklerdeki hangi sözcük yazılabilir?

- A) görev B) çalışkanlık C) süpürge

5. Yandaki şiirde aşağıdakilerden hangisi anlatılmış olabilir?

En güzel öykülerle,
Bilgilerle dolusun.
Şu ufak odamda
Ne de şirin durursun.

- A) sandalye B) kitaplık C) halı

6. Hangi seçenekteki kelimeler sözlük sırasına göre dizilmemiştir?

- A) Akademi - Asker - Anadolu
B) Mahalle - Manastır - Mustafa
C) Tarih - Teğmen - Türkiye

7. Hangisi evimizde yapamayacağımız işlerden biridir?

- A. Çiçek sulama B. Çamaşır yıkama
C. Evcil hayvan besleme

8. Öğrencilerden hangisi evdeki sorumluluklarının bilincinde değildir?

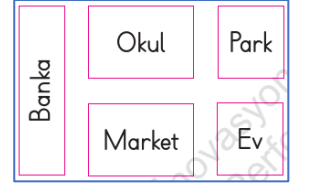


- A. Gaye B. Merve C. Gül

9. Aşağıdakilerden hangisi 3. sınıf öğrencisinin yapamayacağı işlerden biridir?

- A. Ütü yapmak
B. Balıklara yem vermek
C. Sofra hazırlamaya yardım etmek

10. Krokiye göre aşağıdakilerden hangisi doğrudur?



- A. Okul evin yanındadır.
B. Park evin yanındadır.
C. Market evin yanındadır.

11. Aşağıdakilerden hangisi yanlıştır?

- A. Aile büyüklerimizin çocukluk fotoğraflarını aile albümümüzde görebiliriz.
B. Eski fotoğraflara bakarak eskiden nasıl giyildiğini öğrenebiliriz.
C. Babamızın ve annemizin çocukluğunu kitaplardan öğrenebiliriz.

12. Aşağıda verilen ifadelerden hangisi yanlıştır?

- A. Müziğin sesini çok açıp komşularımızı rahatsız etmemeliyiz.
B. Komşularımıza karşı kibar olmamalıyız.
C. Komşularımızı rahatsız etmek yanlış bir davranıştır.

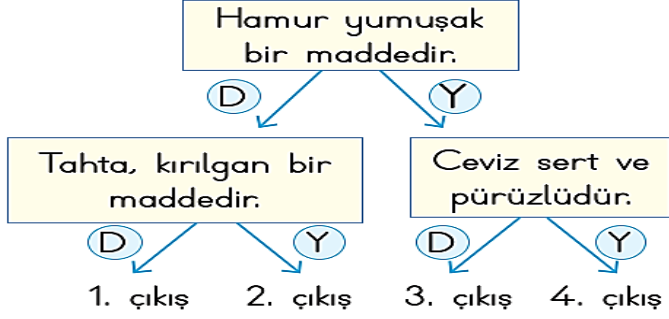
13. "Masa, demir, ayna, pamuk, sünger" maddelerinden kaç tanesi yumuşaktır?

- A) 2 B) 3 C) 4

"Cam, şişe, tabak, karpuz"

14. Yukarıdaki maddelerin en belirgin ortak özellikleri aşağıdakilerden hangisidir?

- A) Sert - kokulu B) Pürüzsüz - esnek
C) Sert - kırılkan



15. Yukarıdaki ifadeleri "Doğru - Yanlış" şeklinde değerlendiren bir öğrenci uygun seçimlerle kaç numaralı çıkışa ulaşır?

- A) 1. çıkış B) 2. çıkış C) 4. çıkış

16. Aşağıdakilerden hangisi hem pürüzlü hem yumuşak bir maddedir?

- A.  B.  C. 

17. Yukarıdaki maddelerin sahip oldukları özellikler hangi seçenekte doğru olarak verilmiştir?

- A) Sert sağlam kokulu
B) Yumuşak kırılkan kokulu
C) Yumuşak kırılkan kokusuz




18. Tuz ve şekeri hangi özelliğine göre ayırt edebiliriz?

- A) Kokusuna B) Rengine C) Tadına

7 + 7 + 7 + 7 + 7 + 7

19. İşleminin çarpma işlemi biçiminde gösterilişi nasıldır?

- A) 6 x 7 B) 7 x 6 C) 7 x 7

Grafik: En çok sevilen meyveler	
Meyve	Meyve sayısı
Elma	
Muz	
Çilek	

Her şekil 2 meyveyi göstermektedir.

(21, 22 ve 23. soruları grafiğe göre cevaplayınız)

20. En çok sevilen meyve hangisidir?

- A.  B.  C. 

21. Nesne grafiğindeki meyvelerin çetele tablosu ile gösterilişi aşağıdakilerden hangisinde doğru verilmiştir?




A. Meyve	Meyve sayısı	B. Meyve	Meyve sayısı	C. Meyve	Meyve sayısı
Elma		Elma	+++	Elma	+++
Muz		Muz		Muz	+++
Çilek		Çilek	+++	Çilek	+++

$$4 \times \text{apple} = \dots \times \text{strawberry}$$

22. Yukarıdaki eşitlikte "...." yere kaç yazılmalıdır?

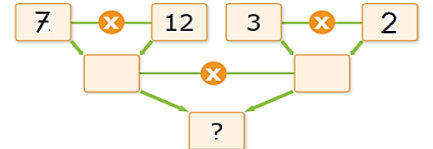
- A. 2 B. 3 C. 4

23. Öğretmenin sorusunu hangi öğrenci en doğru cevabı vermiştir?

- A.  5 x 4 = 20
B.  4 x 4 = 16
C.  4 x 5 = 20

24. " ? " yerine hangi sayı gelmelidir?

- A. 84 B. 504 C. 6



25. Yukarıdaki çarpma işlemlerinden hangisinin sonucu farklıdır?

- A.  B.  C. 