

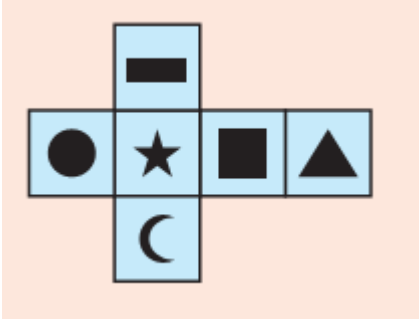
Adı Soyadı: No:.....

5

1) Aşağıdakilerden hangisi düzlem modelidir?

A) Tangram B) Karolar C) Desenler

5



2) Yandaki açınımdan elde edilecek küpte dairenin karşısındaki yüze hangi şekil gelir?

A) Üçgensel bölge
B) Karesel bölge
C) Hilal

5

3) Yüzlerinin tamamı geometrik cismin neyini oluşturur.

A) Desenini B) Bölgesini C) Yüzeyini

5

4) Aşağıdaki düzlemsel şekiller hangi geometrik cisme aittir?



A) Küp B) Daire C) Silindir

5

5) Hangi geometrik cismin yüzü ve yüzeyi aynıdır?

A) Silindir B) Küre C) Küp

5

6) Bütün yüzleri eş olan cisim hangisidir?

A) Dikdörtgenler prizması B) Küre C) Küp

7) Resimlerdeki eşyaların hangi geometrik cisimlere benzediklerini yazınız.

a)



5

b)



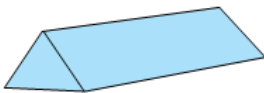
5

c)



5

8)



Aşağıdaki düzlemsel şekillerden hangisi, yandaki cismin yüzlerinden biridir?

A)



B)



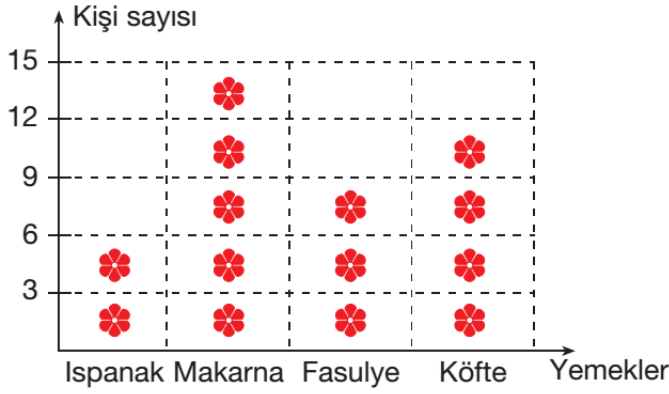
C)



5

9)

Grafik: Sevdiğimiz Yemekler



Not: Her , 3 kişiyi göstermektedir.

Yandaki grafiğe göre en çok hangi yemek sevilmektedir?.....

Makarna, ıspanak ve köfte sevenler toplam kaç kişidir?

.....

Köfte sevenler ıspanak sevenlerden kaç kişi fazladır?.....

15

10)

Tablo: Sevdiğimiz Yemekler

Ispanak	6
Makarna	15
Fasulye	9
Köfte	12

Yandaki sıklık tablosuna göre bir çetele tablosu yapınız?

Çetele tablosu: Sevdiğimiz yemekler	
Ispanak	
Makarna	
Fasulye	
Köfte	

10

11) 0, 2, ve 8 sayılarını kullanarak yazılabilecek üç basamaklı en küçük sayı....., en büyük sayıdır.

5

12)

Aşağıdaki sayıların okunuşunu yazınız. 6

346:

302:

203:.....

13)

Aşağıdaki sayıları rakamla yazınız. 6

Dört yüz on yedi:.....

İki yüz on yedi:.....

Beş yüz beş:.....

14)

Aşağıda verilen sayılardaki altı çizili rakamların basamak değerlerini yanına yazınız.

639 = _____ 388 = _____ 828 = _____ 128 = _____

8