

Adı Soyadı:

20 SORULUK

SAYILARDA SIRALAMA

TEST SINAVI



1) Yukarıdaki sayılar içinde **en büyük sayı** kaçtır?

A) 29 B) 19 C) 11

95

6) Hangi çocuk 95 sayısından büyük bir sayı söylemiştir?

A) 90 B) 89 C) 96



2) Yukarıdaki sayılar içinde **en küçük sayı** kaçtır?

A) 59 B) 60 C) 57

50, 51, 52, 53, 54, 55

7) 50 ile 55 sayıları arasında kaç sayı vardır?

A) 4 B) 5 C) 3



3) Yukarıdaki sayıların sıralamasında iki elma arasına **hangi sayı** yazılmalıdır?

A) 21 B) 17 C) 10

51

8) Hangi çocuk 51 sayısından küçük bir sayı söylemiştir?

A) 51 B) 49 C) 54

51, 85, 42

4) Yukarıdaki sayıların hangileri yer değiştirirse sıralama **büyükten küçüğe** olur?

A) 51-42 B) 85-51 C) 85-42

36, 34, 52, 9, 42, 30, 57, 27, 37

9) Yukarıdaki kaç sayı 35 ten **büyüktür**?

A) 5 B) 4 C) 3

12, 36, 24

5) Yukarıdaki sayıların hangileri yer değiştirirse sıralama **küçükten büyüğe** olur?

A) 12-24 B) 12-36 C) 36-24

66, 64, 67, 63, 68, 62, 69, 61

10) Yukarıdaki kaç sayı 65 ten **küçüktür**?

A) 3 B) 4 C) 5

11) Hangi sayı dizisi büyükten küçüğe doğru sıralanmıştır?

- A) 64, 52, 50, 40, 48
B) 64, 54, 34, 24, 14
C) 64, 60, 54, 55, 44

64, 54, 52, 42, 9, 32, 22, 12, 2




16) Yukarıdaki büyükten küçüğe sıralanan sayılardan hangisi sıralamayı bozuyor?

- A) 9 B) 32 C) 42

12) Hangi sayı dizisi küçükten büyüğe doğru sıralanmıştır?

- A) 14, 22, 24, 32, 44
B) 34, 32, 24, 22, 14
C) 14, 22, 12, 24, 34

17) Aşağıdaki hangi öğrenci büyükten küçüğe saymıştır?

- A)  25-20-15-10
B)  55-60-65-70
C)  5-10-15-20

21, ?, 19, 15, 10, 9, ?, 8

13) Yukarıdaki sayılar büyükten küçüğe doğru sıralanmıştır. Soru işaretine gelecek sayıların toplamı kaçtır?

- A) 24 B) 25 C) 27

77, 45, 36, 9, 96, 11, 22, 15, 2



18) Yukarıdaki sayılardan hangisi iki basamaklı en büyük sayı ve en küçük sayıdır?

- A) 96-11 B) 96-9 C) 96-2

1, 4, ?, 6, 10, 14, ?, 16

14) Yukarıdaki sayılar küçükten büyüğe doğru sıralanmıştır. Soru işaretine gelecek sayıların farkı kaçtır?

- A) 12 B) 10 C) 9



19) Bir deste ile bir düzine arasında kaç tane sayı vardır?

- A) 2 B) 1 C) 3

5, 75, 36, 55, 47, 15, 69, 9

15) İki basamaklı olan en küçük sayı hangisidir?

- A) 15 B) 25 C) 47



20) Üç deste ve üç düzine arasındaki sayılar hangileridir?

- A) 21-22-23
B) 11
C) 31-32-33-34-35

Doğru Sayısı:

Yanlış Sayısı:

PUAN:

İMZA: