

SAYILARI KARŞILAŞTIRALIM

İki basamaklı sayılar karşılaştırılırken önce onluklara bakılır. Onluk sayısı fazla olan daha büyüktür. Eğer onluk sayıları eşitse birlik sayısı fazla olan sayı daha büyüktür.

Aşağıdaki sayı ikililerinden büyük olanı boyayın.


25	36	58	85	89	78	23	50
54	55	47	46	58	52	15	18
18	38	72	79	25	51	26	21
85	66	14	24	20	40	71	21

Aşağıdaki sayı ikililerinden küçük olanı boyayın.


57	28	10	15	37	69	54	55
99	26	82	85	48	47	41	40
51	50	14	8	62	61	20	21
44	60	29	39	87	97	84	83

Büyüktür - Küçüktür

Sayıları karşılaştırırken büyüktür " $>$ " ve küçüktür " $<$ " sembollerini kullanırız.



BÜYÜKTÜR



KÜÇÜKTÜR

Aşağıda verilen sayıları büyüktür " $>$ " ve küçüktür " $<$ " sembolleri kullanarak yapın.

$25 \dots 36$

$75 \dots 58$

$32 \dots 41$

$77 \dots 78$

$41 \dots 25$

$18 \dots 15$

$19 \dots 26$

$34 \dots 23$

$44 \dots 34$

$25 \dots 39$

$48 \dots 71$

$16 \dots 12$

$32 \dots 33$

$59 \dots 69$

$98 \dots 100$

$89 \dots 78$

$65 \dots 66$

$83 \dots 45$

$21 \dots 20$

$19 \dots 10$

$35 \dots 36$

$42 \dots 40$

$10 \dots 11$

$92 \dots 91$

$76 \dots 36$

$52 \dots 12$

$14 \dots 15$

$75 \dots 52$

$66 \dots 65$

$21 \dots 20$

$81 \dots 24$


$36 \dots 42$

$9 \dots 8$

$26 \dots 74$

$23 \dots 45$

Aşağıdaki tavşanın havuca ulaşabilmesi için girişteki 37 rakamından başlayarak kendinden büyük olan sayıları takip etmeli. Haydi tavşanı havuca ulaştırın.



Aşağıdaki sayıları sembol kullanarak küçükten büyüğe doğru sıralayın.



35 28 49

20 15 12

30 44 19

38 42 99

Aşağıdaki sayıları sembol kullanarak
küçükten büyüğe doğru sıralayın.

45 58 21

96 84 28

47 14 82

54 52 53

85 75 82

63 47 86

Aşağıdaki sayıları sembol kullanarak
büyükten küçüğe doğru sıralayın.

37 26 51

28 77 29

36 39 40


18 14 11

26 51 10

15 66 87

Aşağıdaki çocukların boy uzunluklarını büyükten küçüğe doğru sıralayın.

86 cm




Kerem

102 cm



Gonca

78 cm



Eymen

92 cm



Büşra

98 cm



Enes

90 cm



Beyza

1.

2.

3.

4.

5.

6.