

# TÜRKÇE TESTİ

## BERK'İN SPOR SEVGİSİ

Berk 12 yaşında, sporu çok seven bir çocuktur. Spor dallarından en çok basketbolu sevmektedir. En büyük hayali büyüünce basketbolcu olup milli takımda oynamaktır. Bunun için Berk her hafta sonu iki saat antrenman yaparak kendisini geliştirmektedir. Ayrıca çok düzenli ve sağlıklı beslenmektedir. Berk'in okuldaki dersleri de çok iyidir. Sporla ilgilenirken asla derslerini ihmal etmez. Öğretmenini dikkatle dinler.

Aşağıdaki 1. ve 2. Soruları metne göre cevaplayınız.



1) Berk'in en büyük hayali nedir ?

- a- Sınıf başkanı seçilmek.
- b- Sağlıklı bir insan olmak
- c- Basketbolcu olup milli takımda oynamak.

2) Aşağıdakilerden hangisi Berk için söylenemez ?

- a- En sevdiği spor basketboldur.
- b- Derslerinde başarılıdır.
- c- Sürekli abur cubur ile beslenir.

3) "Tren ile yolculuk yapmak çok eğlencelidir. " Yandaki cümle için aşağıdakilerden hangisi doğrudur ?

- a- Tümce 14 heceden oluşmuştur.
- b- Tümcede tek heceli sözcük yoktur.
- c- Bu bir soru cümlesidir.

3- Aşağıdaki çocuklardan hangisi kelimeleri sözlük sırasına doğru koymuştur ?

a-



balık-abaküs-cetvel

b-



armut-demir-zebra

c-



yağmur-araba-terlik

5) Aşağıdaki cümlelerin hangisi kurallı bir cümledir ?

- a- Zehra geldi koşarak okula.
- b- Arif sabahları erken kalkar.
- c- Sevdığım en yemek bamyadır.

6) Aşağıdaki noktalama işaretlerinden hangisi görevini yanlış söylemiştir ?

- a- • Ben cümleler bitince cümlelerin sonunda kullanılırım.
- b- ? Ben soru sorulduğunda cümlelerin sonunda kullanılırım.
- c- ; Ben korku, heyecan, sevinç içeren cümlelerde kullanılırım.

7) Yazım kuralları ile ilgili aşağıdaki ifadelerden hangisi yanlıştır ?

- a- Cümlelerin ilk harfleri her zaman büyük harfle başlar.
- b- Hayvanlara koyulan isimlerin baş harfi küçük yazılır.
- c- Özel isimlere gelen ekler kesme işareti ile ayrılır.


8) Aşağıdaki cümlelerin hangisinin karşısındaki bilgi yanlıştır ?

- a- "Arabanın sağ tekeri aniden patladı. " Olumlu cümle
- b- "Sende mi bizimle geleceksin ? " Soru cümlesi
- c- "Parası olmadığı için mont alamadı. " Olumlu cümle

9) " Yağmur yağmadığı için ağaçlar kurudu. " Yandaki cümlelerin sebep ve sonuç cümlesi aşağıdakilerden hangisinde doğru verilmiştir.

- a- **Sebep:** Yağmurun yağmaması  
**Sonuç:** Ağaçların kuruması
- b- **Sebep:** Yağmurun çok fazla yağması  
**Sonuç:** Ağaçların çiçek açması
- b- **Sebep:** Yağmurun hızlı yağması  
**Sonuç:** Ağaçların kesilmesi

10) Aşağıda bize bilgi veren öğrencilerden hangisi bize doğru bilgi vermektedir ?



"öğrenci," kelimesinin eş anlamlısı "muallim "dir



"gül," kelimesi eş sesli bir kelimedir.

c-



"uzun," kelimesinin zıt anlamlısı "küçük "tür.

## MATEMATİK TESTİ

1) 56 sayısı için aşağıdakilerden hangisi doğrudur ?

a- Birler basamağında 6 tane onluk vardır.

b- Onlar ve birler basamaklarının basamak değerlerinin farkı 44'tür

c- Bu sayı en yakın 50 onluğuna yuvarlanır.

2) a-  $66 - 21 = 45$

b-  $55 - 23 = 32$

c-  $81 - 35 = 46$

d-  $27 - 12 = 15$

e-  $62 - 25 = 37$

f-  $52 - 14 = 38$

Yukarıdaki işlemlerin kaç tanesinin sonucu 50'ye yuvarlanır?

a- 4

b- 2

c- 5

3) "Sepetteki 41 yumurtanın kaç tanesi satılırsa geriye 19 yumurta kalır ? " yandaki problemi çözmek için aşağıdaki hangi işlemi yapmak gerekir ?

b)  $41 + 19 = 60$

a-  $41 - \square = 19$

c-  $\square - 19 = 41$



4) Aşağıda bir ineğin üç günde verdiği süt miktarı verilmiştir. Buna göre bu inek üç günde toplam kaç litre süt vermiştir?

a- 56 litre

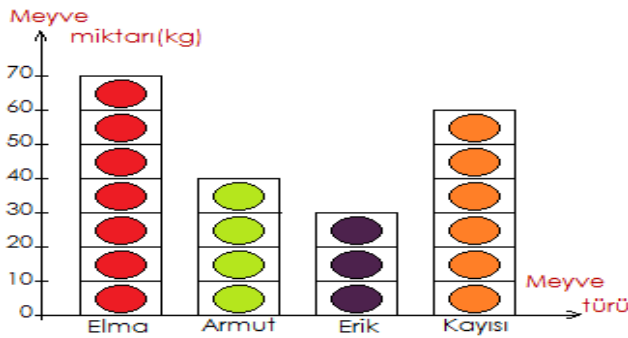

b- 55 litre

c- 51 litre

1. gün = 17 litre

2. Gün = 21 litre

3. Gün = 18 litre



5) Yukarıda bir manavda satılan meyvelerin nesne grafiği verilmiştir. Buna göre aşağıdakilerden hangisi doğrudur ?

a- En çok satılan meyve eriktir

b- Armut ile eriğin satış toplamı 70 kilogramdır.

c- Satılan kayısı 40 kilogramdır.



6) Yukarıda verilen madeni paraların toplamı kaç TL yapar ?

a- 6 TL

b- 7 TL

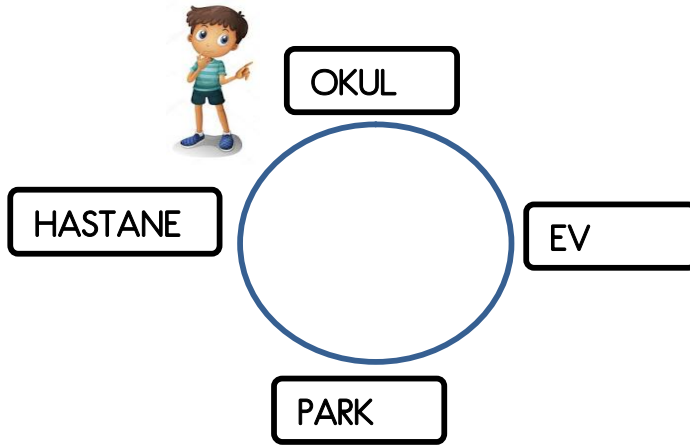
c- 8 TL

7) " $26 + 35$ " yandaki toplama işleminin tahmini sonucu ile gerçek sonucu arasındaki fark kaçtır?

a- 61

b- 9

c- 11



8) Okuldan çıkan Mert saat yönünde üç çeyrek dönüş yaparsa nereye ulaşır ?

a- Hastane

b- Park

c- Ev

9) 11 den başlayarak 4'er ileri ritmik ileri sayarken söylediğim ikinci sayı ile 9 dan başlayıp ileri 5'er ritmik sayarken söylediğim üçüncü sayının toplamı kaçtır ?

a-34

b- 44


c- 24

10) Aşağıdaki öğrencilerden hangisi sayıları küçükten büyüğe sıralamıştır ?




a-

34 - 41 - 23 - 12



b-

12 - 21 - 43 - 55



c-

34 - 21 - 13 - 11

## HAYAT BİLGİSİ

1 - Aşağıdaki özelliklerden hangisi kişisel özelliktir ?

- a- Benim boyum 1 21 santimetredir.
- b- Ayşe'nin en sevdiği spor okçuluktur.
- c- Betül'ün saçları turuncu renktedir.

2- Aşağıdaki hangi çocuğun söylediği doğrudur ?

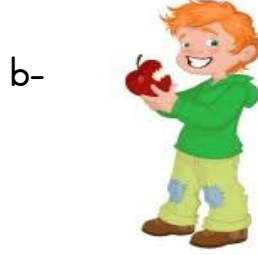


Her insan aynı yeteneğe sahiptir.

İkiz kardeşimizle farklı şeylerden hoşlanabiliriz

Sınıf arkadaşlarımdan hepsi aynı şeylere ilgi duyar.

3- "Düzenli ve dengeli beslenen kişiler sağlıklı olurlar. " Yandaki cümleye uymayan kişi aşağıdakilerden hangisidir ?



4) Aşağıdakilerden hangisi doğrudur.


- a- Tedavi olmak için postaneye gideriz.
- b- Doktorumuz ilaçları reçeteye yazar.
- c- Hastalığımızın ne olduğunu hemşire belirler.

5) Milli bayramlarda aşağıdakilerden hangisini yapmak doğru olur ?



6) Fahri Amca hastaneden yeni çıkmıştır. Yolda Fahri Amca ile karşılaşan Ebru hangisini söylerse doğru olur ?

- a- Hayırlı işler.
- b- Rica ederim.
- c- Geçmiş olsun.



7) Meltem'in bota ihtiyacı vardır. Meltem aşağıdakilerden hangisini önce alırsa parasını doğru harcamış olur ?

- a- 
- b- 
- c- 

8) "Yaşadığımız çevreyi temiz tutmalıyız. " Aşağıdaki görsellerden hangisi bu kurala uymamaktadır ?

- a- 
- b- 
- c- 

9) Aşağıdaki durumda olan arkadaşımıza hangisini yapmalıyız ?

- a- Sorununun ne olduğunu sorup ona yardımcı olmalıyız.
- b- Öğretmenimize şikayet etmeliyiz.
- c- Onunla dalga geçmeliyiz.



10) Aşağıdaki aletlerden hangisini kendimize yemek hazırlarken kullanmak tehlikeli olmaz?

- a- 
- b- 
- c- 