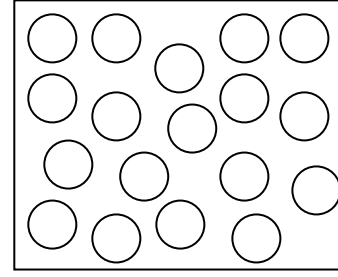
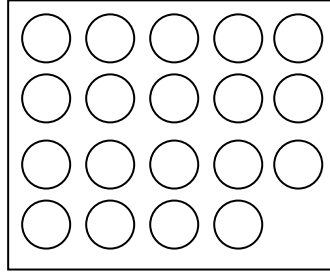
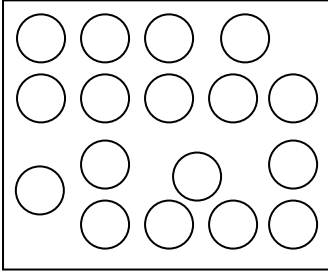
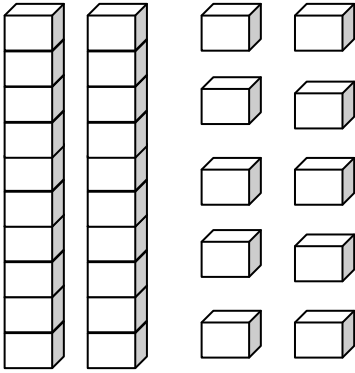


## 75. YIL İLKOKULU 1. SINIFLAR MATEMATİK ÇALIŞMA KAĞIDI-16

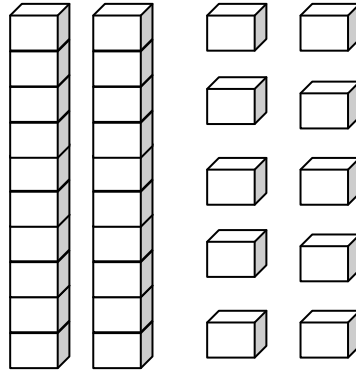
Aşağıda varlıkları onluk ve birlik olarak ayıralım. Onlukları kırmızı, birlikleri sarı kuru boya ile boyayınız. Oluşturulan sayıları altlarına yazınız.



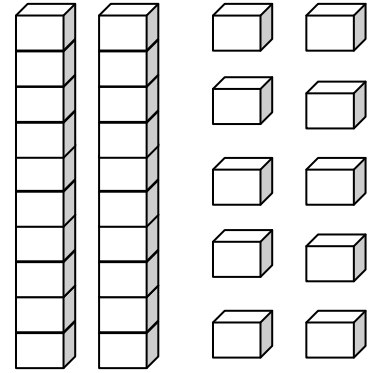
Verilen sayıları onluk taban bloklarını boyayarak gösteriniz.



Onluklar	Birlikler
2	3
13	



Onluklar	Birlikler
1	9



Onluklar	Birlikler
2	5
25	

Aşağıdaki 100'e kadar onar ritmik saymada boş bırakılan kutucuklara gelmesi gereken sayıları yazınız.

10		30	40			70	80		100
	20				60				100
10				50				90	

Aşağıdaki 20'ye kadar olan ikişer ritmik saymada boş bırakılan kutucuklara gelmesi gereken sayıları yazınız.

2		6			12				20
	4			10				18	
			8				16		