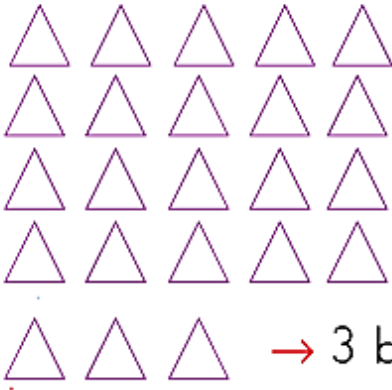


## ONLUK VE BİRLİKLERİ YAZALIM


1. Aşağıdaki şekilleri, onluk ve birliklerine ayırınız. Kaç onluk ve kaç birlik olduğunu altlarına yazınız.



→ 2 onluk

→ 3 birlik

Sayı: 23



... onluk

... birlik

Sayı: . . . .



... onluk

... birlik

Sayı: . . . .



... onluk

... birlik

Sayı: . . . .

2. Aşağıdaki elmaların onluk ve birlik kullanılarak yazılışlarını inceleyiniz.



onluk	birlik
1	5
10 birlik	5 birlik
on	beş
15	

3. Aşağıdaki onluk ve birlikleri belirtilen sayıları yazınız.

a.

3 onluk  
2 birlik



32

5 onluk  
8 birlik



b.

4 onluk



9 onluk  
9 birlik



c.

7 onluk  
7 birlik



2 onluk  
6 birlik



## OKUYALIM, YAZALIM

1. Aşağıdaki doğal sayıların okunuşlarını karşlarına yazınız.

10 = on

25 = .....

32 = .....

47 = .....

59 = .....

63 = .....

90 = .....

67 = .....

15 = .....

39 = .....

75 = .....

82 = .....

94 = .....

27 = .....

13 = .....

36 = .....

95 = .....

83 = .....

22 = .....

41 = .....

2. Aşağıda okunuşları verilen doğal sayıları rakamla yazınız.

on iki = 12

yirmi bir = .....

doksan üç = .....

kırk beş = .....

doksan yedi = .....

seksen sekiz = .....

otuz üç = .....

on bir = .....

on dokuz = .....

otuz sekiz = .....

kırk yedi = .....

yirmi dört = .....

on yedi = .....

kırk üç = .....

elli beş = .....

doksan bir = .....

yetmiş yedi = .....

altmış sekiz = .....

3. Aşağıdaki doğal sayılarla okunuşlarını eşleştiriniz.

doksan dokuz

yirmi altı

kırk dört

on sekiz

44

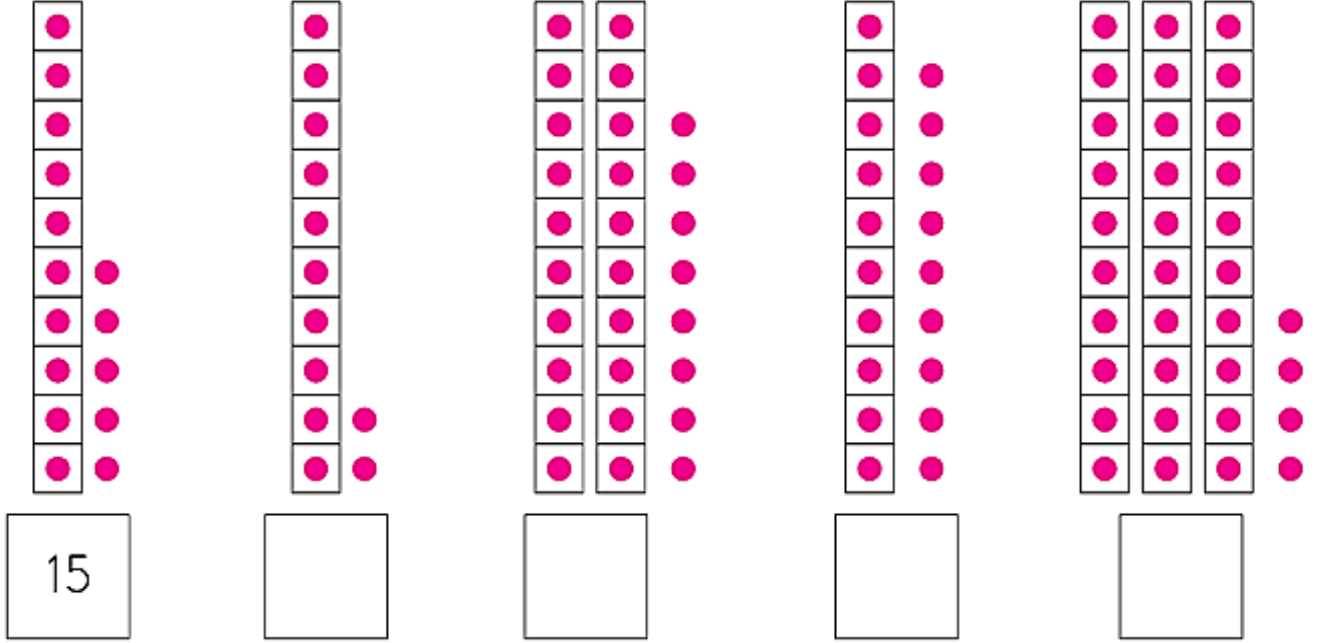
99

26

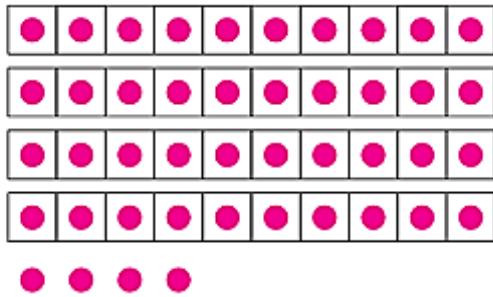
18

## ŞEKİLLERİN OLUŞTURDUĞU SAYILARI YAZALIM

1. Aşağıdaki örneği inceleyiniz. Onluk ve birlikleri hesaplayıp oluşan sayıyı yazınız.

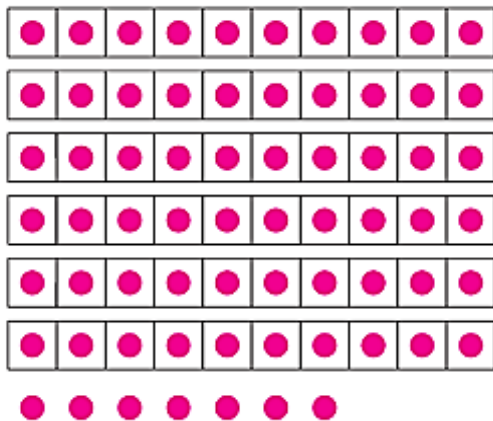


2. Aşağıdaki sayıların kaç olduğunu yazarak onluk ve birliklerini gösteriniz.



Onluk

Birlik



Onluk

Birlik

