

## MATEMATİK TEKRAR ÇALIŞMASI 2

Verilen sayıların okunuşlarını yazınız.

Verilen sayıları rakamlarla yazınız.

44.....

12.....

42.....



on yedi.....

yirmi beş.....




altmış dokuz.....

Aşağıdaki toplama ve çıkarma işlemlerini zihinden yapınız.

$$60 - 30 = \dots\dots\dots 17 + 29 = \dots\dots\dots 12 + 12 = \dots\dots\dots 90 - 10 = \dots\dots\dots$$

$$26 + 23 = \dots\dots\dots 80 - 70 = \dots\dots\dots 37 + 10 = \dots\dots\dots 80 - 40 = \dots\dots\dots$$

Kutuların altına bilyelerin kaç onluk ve kaç birlikten oluştuğunu yazınız.



..... onluk + ..... birlik

..... onluk + ..... birlik

..... onluk + ..... birlik

Dörder ritmik sayarken 9. söylediğimiz sayı kaçtır? .....

Dörder ritmik sayarken 2. söylediğimiz sayı kaçtır? .....

Üçer ritmik sayarken 7. söylediğimiz sayı kaçtır? .....

Beşer ritmik sayarken 3. söylediğimiz sayı kaçtır? .....

42, 39, 36, 35, 30, 27 örüntüsünü bozan sayıyı bulun.

64, 59, 54, 51, 44, 39 örüntüsünü bozan sayıyı bulun.

61, 59, 57, 55, 53, ..... örüntüsünde noktalı yere kaç yazılmalıdır?

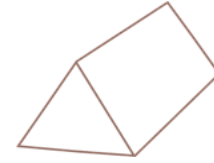


## GEOMETRİK ŞEKİL VE CİSİMLER

Aşağıdaki şekil ve cisimlerin adlarını yanlarındaki noktalı yerlere yazınız.



.....



.....



.....



.....



.....



.....

## SİMETRİ

Verilen şekillerin simetrilerini çiziniz ve boyayınız.

