

MATEMATİK TEKRAR ÇALIŞMASI 1



$\begin{array}{r} 42 \\ + 44 \\ \hline \end{array}$	$\begin{array}{r} 56 \\ - 43 \\ \hline \end{array}$	$\begin{array}{r} \\ + 51 \\ \hline \end{array}$	$\begin{array}{r} \\ + 69 \\ \hline \end{array}$	$\begin{array}{r} 27 \\ + \\ \hline \end{array}$	$\begin{array}{r} 61 \\ - \\ \hline \end{array}$
.....	71	98	28	50
$\begin{array}{r} \\ - 15 \\ \hline \end{array}$	$\begin{array}{r} 31 \\ + 18 \\ \hline \end{array}$	$\begin{array}{r} 95 \\ - \\ \hline \end{array}$	$\begin{array}{r} 45 \\ + 53 \\ \hline \end{array}$	$\begin{array}{r} 79 \\ - 20 \\ \hline \end{array}$	$\begin{array}{r} 50 \\ - 24 \\ \hline \end{array}$
64	52

En yakın onlukları boyayın.							
55	33	57	77				
50	60	30	40	50	60	70	80

Sayıları küçükten büyüğe sıralayın. (Sembolle)

33, 26, 48, 80, 9

.....

$5 + 1 = 1 + \dots$	$8 - \dots = 3 + 4$
$7 + 1 = 13 - \dots$	$1 + 4 = \dots - 3$

Gerçek Sonuç	Tahmin	Fark
$56 + 12 = \dots$		
$23 + 35 = \dots$		

1) Zeynep'in 20 tane kitabı vardır. Kerem'in kitaplarının sayısı Zeynep'in kitaplarının sayısından 14 fazladır. Buna göre bu iki arkadaşın toplam kaç kitabı vardır?

2) Meyra'nın bir miktar parası vardı. Meyra parasının 45 lirasına balon almıştır. Meyra'nın 20 lirası kaldığına göre Meyra'nın başlangıçta kaç lirası vardı?

MATEMATİK TEKRAR ÇALIŞMASI 2

Verilen sayıların okunuşlarını yazınız.

Verilen sayıları rakamlarla yazınız.

49.....
13.....
95.....






doksan altı.....
doksan üç.....
on iki.....

Aşağıdaki toplama ve çıkarma işlemlerini zihinden yapınız.

$20 + 15 = \dots$	$80 - 20 = \dots$	$70 - 30 = \dots$	$14 + 10 = \dots$
$50 - 40 = \dots$	$19 + 17 = \dots$	$12 + 27 = \dots$	$90 - 70 = \dots$

Kutuların altına bilyelerin kaç onluk ve kaç birlikten oluştuğunu yazınız.



..... onluk + birlik onluk + birlik onluk + birlik

Üçer ritmik sayarken 3. söylediğimiz sayı kaçtır?

İkişer ritmik sayarken 8. söylediğimiz sayı kaçtır?

Üçer ritmik sayarken 6. söylediğimiz sayı kaçtır?

Dörder ritmik sayarken 7. söylediğimiz sayı kaçtır?

53, 56, 59, 62, 65, örüntüsünde noktalı yere kaç yazılmalıdır?

43, 38, 33, 28, 23, örüntüsünde noktalı yere kaç yazılmalıdır?

23, 27, 31, 35, 39, örüntüsünü devam ettirdiğinizde hangi sayıya ulaşınız?

